



Проверочная работа по ГЕОГРАФИИ

5 класс

Образец

Пояснение к образцу проверочной работы

На выполнение проверочной работы по географии отводится два урока (не более 45 минут каждый). Работа состоит из двух частей и включает в себя 16 заданий.

Обе части работы могут выполняться в один день с перерывом не менее 10 минут или в разные дни.

При выполнении работы не разрешается пользоваться учебниками, рабочими тетрадями, справочным материалом. При выполнении всех заданий работы можно использовать карты атласа 5-го класса и непрограммируемый калькулятор. Для выполнения задания 9 Вам потребуется линейка.

При необходимости можно пользоваться черновиком. Записи в черновике проверяться и оцениваться не будут.



В образце представлено по несколько примеров заданий 1, 3, 14–16. В реальных вариантах проверочной работы на каждую из этих позиций будет предложено только одно задание.

Таблица для внесения баллов участника

Номер задания	Часть 1										Часть 2						Сумма баллов	Отметка за работу	
	1	2	3	4	5	6	7	8	9	10	11	12	13	14	15	16			
Баллы																			

Инструкция по выполнению заданий части 1 проверочной работы

На выполнение заданий части 1 проверочной работы по географии отводится один урок (не более 45 минут). Часть 1 включает в себя 9 заданий.

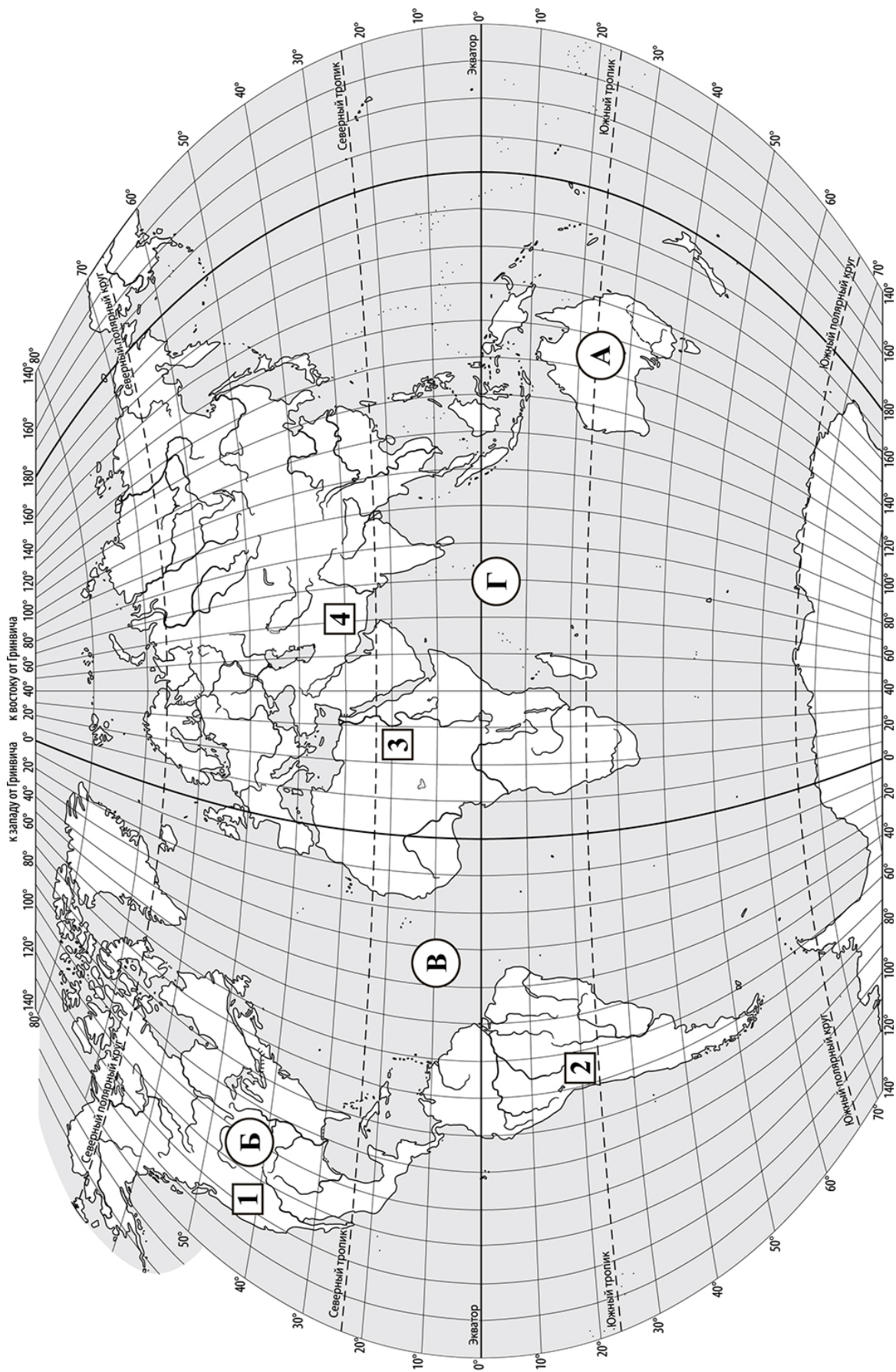
Ответы на задания запишите в поля ответов в тексте работы или в специально отведённом для ответа месте, указанном в задании. В случае записи неверного ответа зачеркните его и запишите рядом новый.

При выполнении заданий части 1 проверочной работы не разрешается пользоваться учебниками, рабочими тетрадями, справочным материалом. При выполнении всех заданий работы можно использовать карты атласа 5-го класса и непрограммируемый калькулятор. Для выполнения задания 9 Вам потребуется линейка.

При необходимости можно пользоваться черновиком. Записи в черновике проверяться и оцениваться не будут.

Советуем выполнять задания в том порядке, в котором они даны. В целях экономии времени пропускайте задание, которое не удаётся выполнить сразу, и переходите к следующему. Если после выполнения работы у Вас останется время, то Вы сможете вернуться к пропущенным заданиям.

Желаем успеха!



Часть 1

Задания 1–2 выполняются с использованием карты мира, приведённой на странице 3.

1 Запишите названия материков, обозначенных на карте буквами А и Б.

Название материка А :

Название материка Б :

ИЛИ

Запишите названия океанов, обозначенных на карте буквами В и Г.

Название океана В :

Название океана Г :

2 Какая горная система обозначена на карте цифрой 2? Запишите название горной системы.

Ответ: _____

3 Что из перечисленного изучают физико-географические науки? Выберите один верный ответ.

- 1) зарубежные страны
- 2) типы погод
- 3) население Земли
- 4) транспортные маршруты

Запишите номер выбранного ответа.

Ответ:

ИЛИ

Пятиклассник Максим, начав изучать географию, сказал младшему брату, что хочет стать геологом. Что он мог ответить на вопрос брата: «А что изучают геологи?».

- 1) животный мир Земли
- 2) минералы и горные породы
- 3) население Земли
- 4) климат Земли

Запишите номер выбранного ответа.

Ответ:

4

Установите соответствие между путешественниками и их вкладом в географическое изучение Земли. К каждой позиции, данной в первом столбце, подберите соответствующую позицию из второго столбца.

ПУТЕШЕСТВЕННИКИ

- А) Христофор Колумб
Б) Васко да Гама

ВКЛАД В ГЕОГРАФИЧЕСКОЕ
ИЗУЧЕНИЕ ЗЕМЛИ

- 1) открытие Америки
2) первое кругосветное путешествие
3) открытие морского пути в Индию

Запишите в таблицу выбранные цифры под соответствующими буквами.

Ответ:

А	Б

5

Пятиклассники получили задание сравнить маршруты экспедиций Ф. Магеллана, И.Ф. Крузенштерна, Ю.Ф. Лисянского и определить их общие особенности. Назовите две общие особенности, которые должны указать пятиклассники.

- 1) Обе экспедиции пересекли Атлантический океан.
2) Обе экспедиции подходили к берегам Северной Америки.
3) Обе экспедиции побывали у берегов Камчатки и Аляски.
4) Обе экспедиции были кругосветные.

Запишите номера выбранных ответов.

Ответ:

--	--

6

Прочитайте текст с описанием маршрута путешествия Френсиса Дрейка в 1577–1580 гг. В тексте пропущен ряд слов (словосочетаний). Выберите из предлагаемого списка слова (словосочетания), которые необходимо вставить на места пропусков, обозначенных буквами. Запишите в текст номера выбранных слов (словосочетаний).

Плавание Френсиса Дрейка

Френсис Дрейк отплыл от берегов _____ (А), направился к берегам _____ (Б), пересёк Атлантический океан, прошёл через Магелланов пролив, прошёл вдоль берегов Америки на север до параллели _____ (В), пересёк с востока на запад Тихий океан, направился через Индийский океан к южной оконечности Африки и, обогнув её, вернулся домой. Его плавание продолжалось почти три года.

Список слов (словосочетаний):

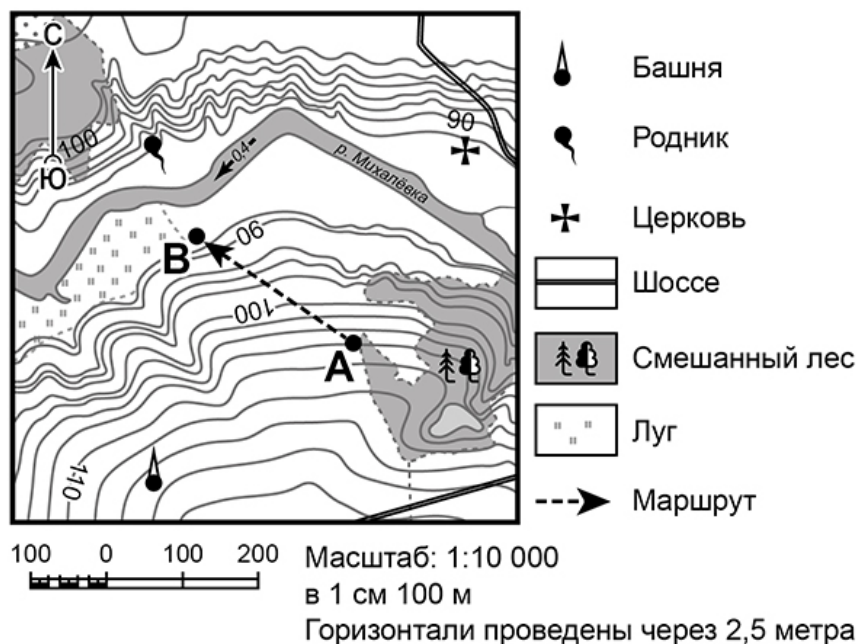
- 1) Пиренейского полуострова
2) острова Великобритания
3) Южной Америки
4) Северной Америки
5) 40° с. ш.
6) 60° с. ш.

Запишите в таблицу выбранные цифры под соответствующими буквами.

Ответ:

А	Б	В

Задания 7–9 выполняются с использованием приведённого ниже фрагмента топографической карты.



7 На каком берегу реки Михалёвки находится церковь? Подчеркните верный ответ.

Ответ: на правом / на левом.

8 Определите, в каком направлении от церкви расположен родник.

Ответ: _____

9 Определите протяжённость маршрута А–В на местности в метрах с помощью масштаба карты. Для выполнения задания используйте линейку. Измерения проводите между центрами точек.

Ответ: _____ м.

Инструкция по выполнению заданий части 2 проверочной работы

На выполнение заданий части 2 проверочной работы по географии отводится один урок (не более 45 минут). Часть 2 включает в себя 7 заданий.

Ответы на задания запишите в поля ответов в тексте работы. В случае записи неверного ответа зачеркните его и запишите рядом новый.

При выполнении заданий части 2 проверочной работы не разрешается пользоваться учебниками, рабочими тетрадями, справочным материалом. При выполнении всех заданий работы можно использовать карты атласа 5-го класса и непрограммируемый калькулятор.

При необходимости можно пользоваться черновиком. Записи в черновике проверяться и оцениваться не будут.

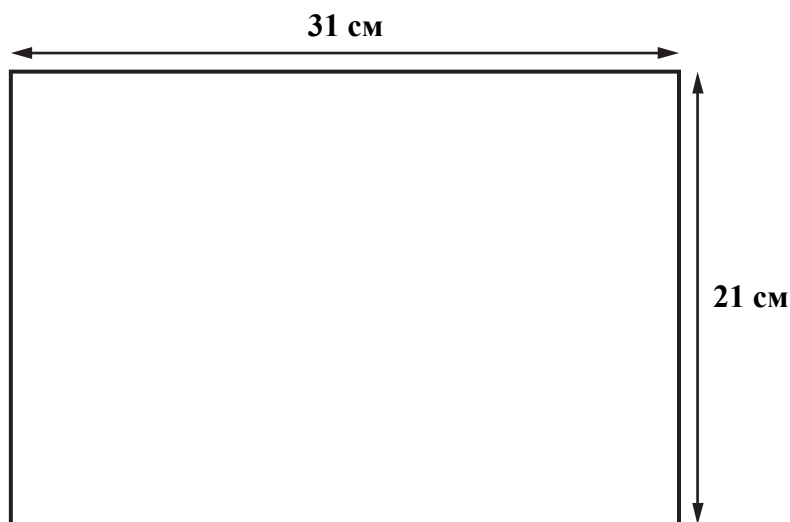
Советуем выполнять задания в том порядке, в котором они даны. В целях экономии времени пропускайте задание, которое не удаётся выполнить сразу, и переходите к следующему. Если после выполнения работы у Вас останется время, то Вы сможете вернуться к пропущенным заданиям.

Желаем успеха!

Часть 2

10

Школьники получили задание составить план пришкольного участка. Размеры участка составляют $300\text{ м} \times 150\text{ м}$. План надо начертить на альбомном листе размером $31\text{ см} \times 21\text{ см}$.



Какой масштаб надо использовать ребятам, чтобы показать участок на плане как можно крупнее и чтобы он поместился на листе весь целиком? Выберите верный ответ.

- 1) в 1 сантиметре – 100 метров
- 2) в 1 сантиметре – 50 метров
- 3) в 1 сантиметре – 10 метров
- 4) в 1 сантиметре – 5 метров

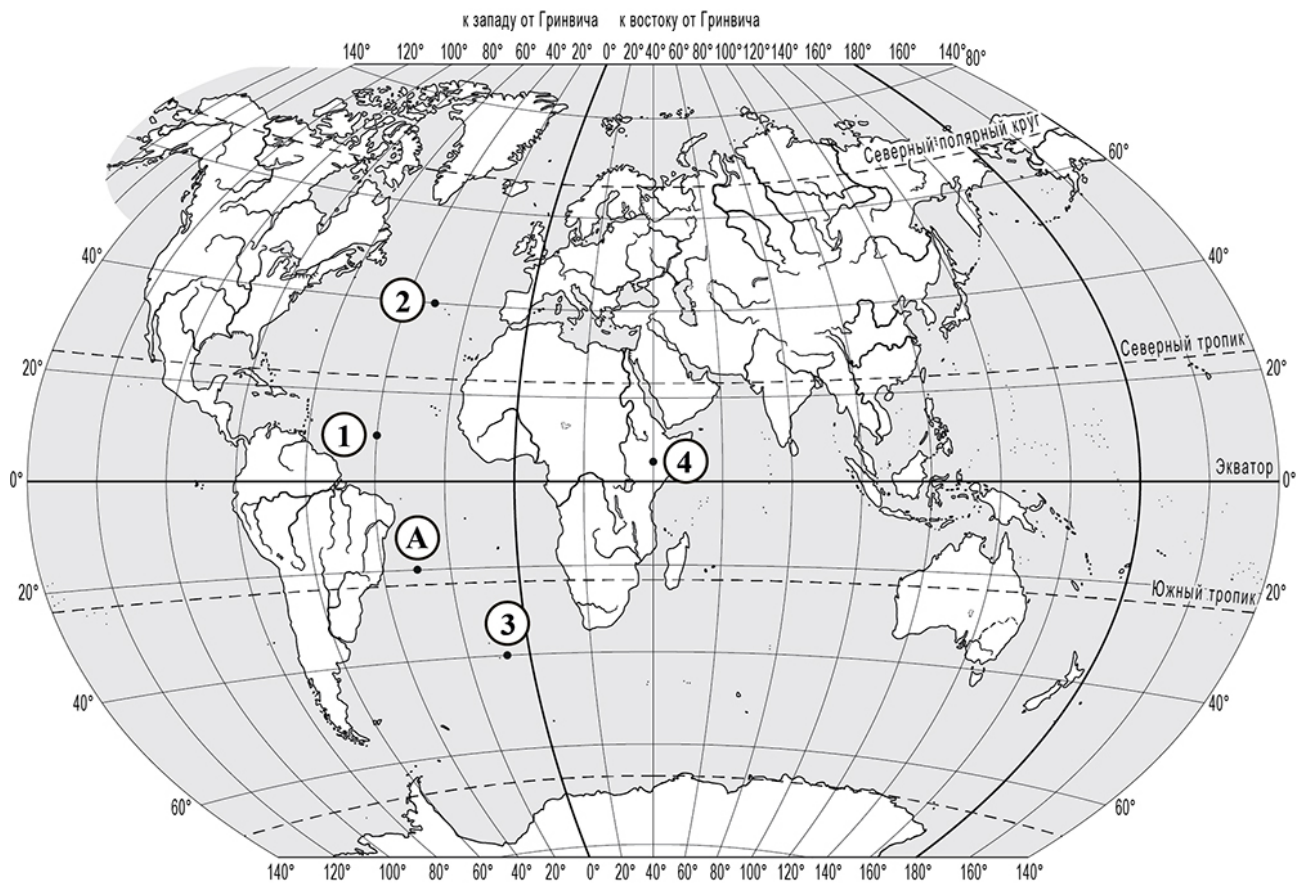
Запишите номер выбранного ответа.



Ответ:



Задания 11–13 выполняются с использованием приведённой ниже карты мира.



11 Определите, какая из точек, обозначенных на карте цифрами, расположена на меридиане 40° в. д. Запишите цифру, которой обозначена эта точка.

Ответ:

12 Определите географические координаты точки, обозначенной на карте буквой А.

Ответ: географическая широта _____
 географическая долгота _____

15

Определите, на каком рисунке правильно показано строение земной коры в точке, обозначенной на карте буквой А.

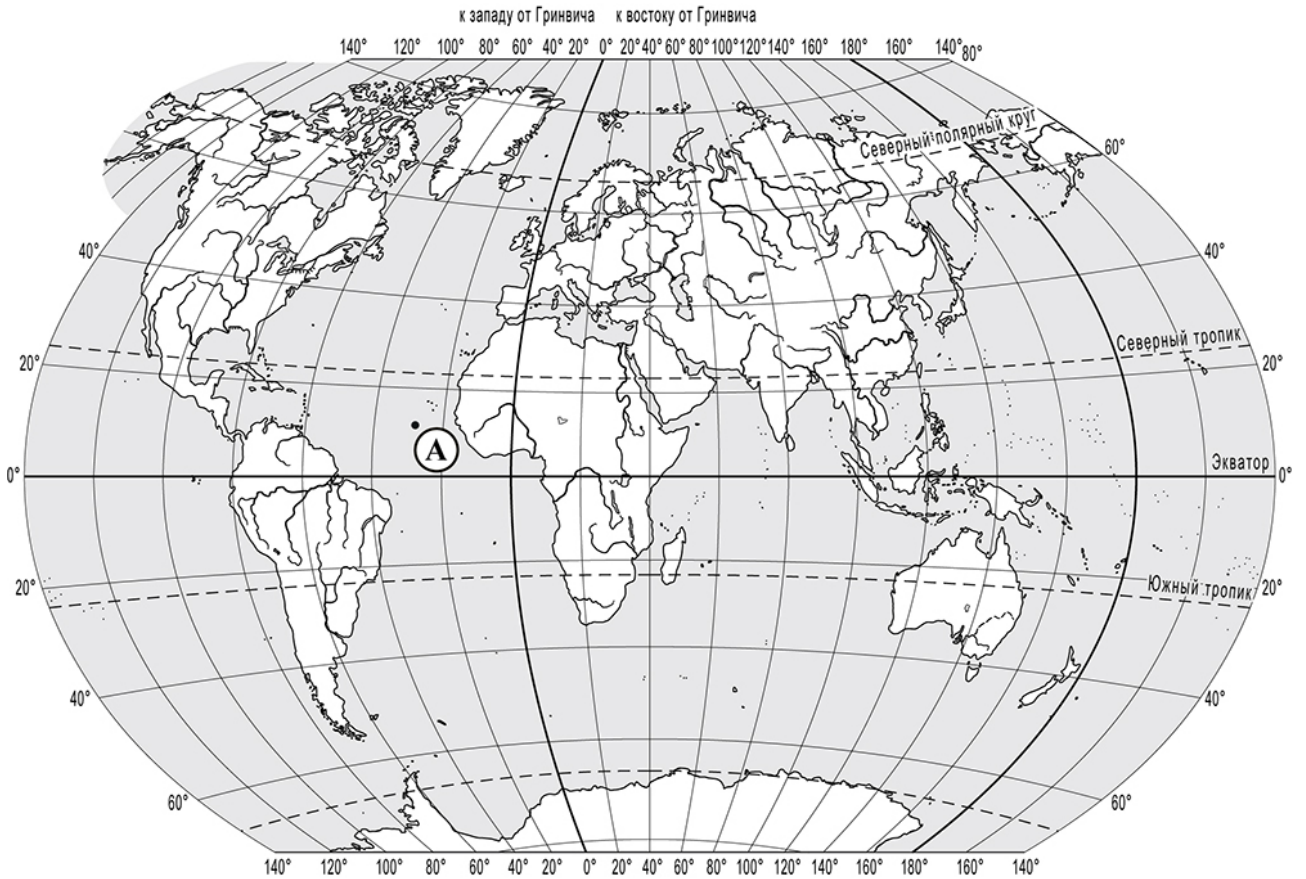


Рисунок 1



Рисунок 2



Рисунок 3



Рисунок 4



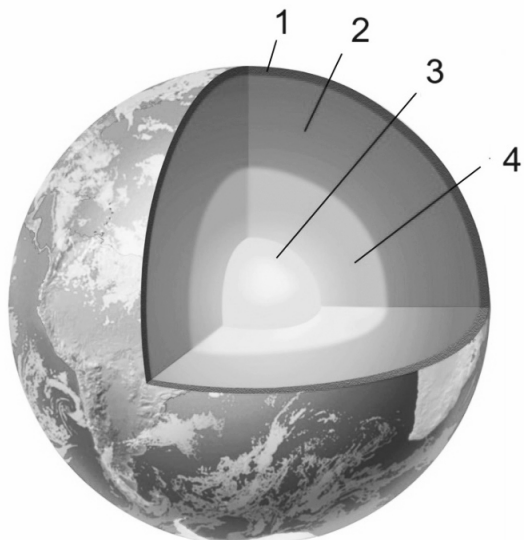
Запишите соответствующую цифру.



Ответ:

ИЛИ

15 Определите, какой цифрой на схеме внутреннего строения Земли обозначена мантия.



Запишите соответствующую цифру.

Ответ:

16 Прочитайте текст и выполните задание.

Максим получил от учителя географии задание сделать доклад о землетрясениях, зафиксированных за прошедшую неделю, используя информацию из Интернета. Максим нашёл сообщения о трёх землетрясениях, произошедших в Южной Америке. Эти землетрясения ощущались на территориях Перу и Чили. Во всех случаях сообщалось, что эпицентры землетрясений располагались в акватории Тихого океана недалеко от западного побережья материка, а очаги их находились на глубине от 8 до 30 километров. Когда Максим закончил доклад, учитель обратился к классу с заданием: «Объясните, почему у западного побережья Южной Америки часто происходят землетрясения».

Запишите свой ответ на этот вопрос.

Ответ: _____

ИЛИ

16

Прочитайте текст и выполните задание.

Значение путешествия Марко Поло

В своё знаменитое путешествие по Азии Марко Поло отправился в 1271 году. В родную Венецию он вернулся только в 1295 году. Вернувшись на родину, он написал сочинение «Книга о разнообразии мира». В ней Марко Поло не только описал природу Китая, Индии и других стран, в которых он побывал, но и передал позаимствованную им у китайских путешественников географическую информацию о странах Африки, выходящих к Индийскому океану. Для европейцев его книга стала ценным источником информации для создания географических карт.

Определите, мог ли Христофор Колумб использовать информацию из книги Марко Поло при поиске пути в Индию. Свой ответ обоснуйте.

Ответ: _____

ИЛИ

Прочитайте текст и выполните задание.

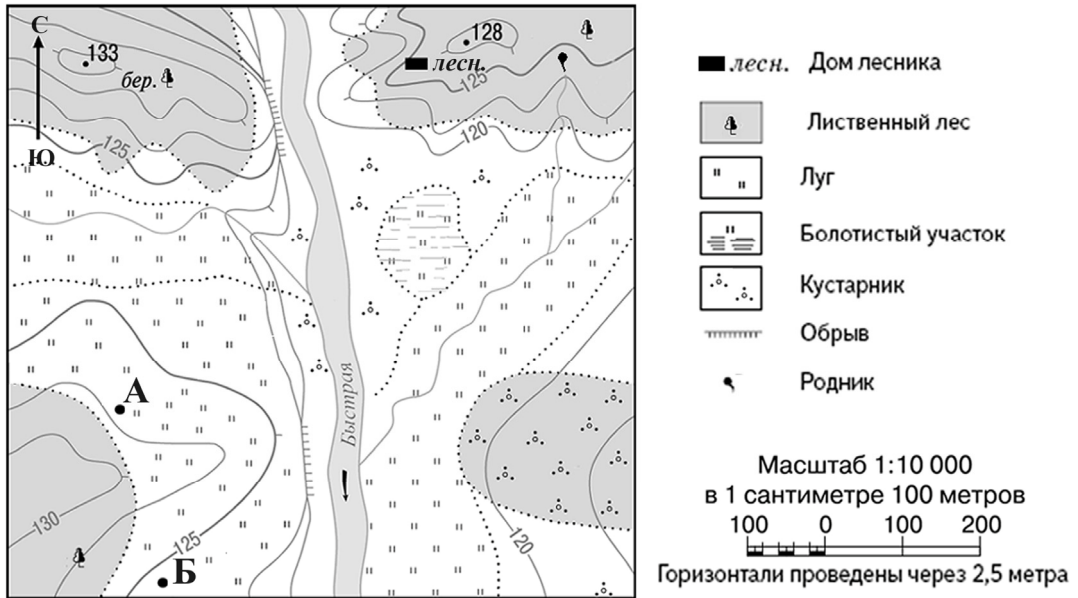
Алёша живёт в Санкт-Петербурге. Он учится в 4-м классе. На зимних каникулах он вместе с родителями и старшим братом Димой собирался отправиться в туристическую поездку в Бразилию, в знаменитый город Рио-де-Жанейро. Он нашёл город на карте в Интернете, и ему стало интересно, какая там будет погода. На сайте прогнозов погоды он прочитал такой прогноз: «На следующей неделе в Рио-де-Жанейро будет как всегда летом жарко – днём температура воздуха будет подниматься до +30 °С, но каждый день ожидаются дожди». «Почему там в январе лето?» – подумал Алёша и обратился с этим вопросом к старшему брату Диме.

Найдите на карте в атласе город Рио-де-Жанейро. Как бы Вы ответили на вопрос Алёши?

Ответ: _____

ИЛИ

16 Туристы из групп **А** и **Б** разместились на ночлег в окрестностях реки Быстрой в точках, обозначенных на карте соответствующими буквами. Туристы из группы **А** развели большой костёр.



Определите, могли ли туристы из группы **Б** видеть ночью костёр, который развели туристы из группы **А**. Свой ответ обоснуйте.

Ответ: _____

Система оценивания проверочной работы**Часть 1**

Полный правильный ответ на каждое из заданий 2–5 и 7–9 оценивается 1 баллом. Если в ответе допущена хотя бы одна ошибка (один из элементов ответа записан неправильно или не записан), выставляется 0 баллов.

Полный правильный ответ на задание 6 оценивается 2 баллами. Если в ответе допущена одна ошибка, выставляется 1 балл, если допущено две или более ошибки – 0 баллов.

Номер задания	Правильный ответ	
2	Анды	
3	2	2
4	13	
5	14 (в любой последовательности)	
6	235	
7	на правом	
8	запад; на запад; в западном; 3	
9	250 (допускается погрешность ± 10 метров)	

1 Запишите названия материков, обозначенных на карте буквами А и Б.

Содержание верного ответа и указания по оцениванию	Баллы
1) Правильно указано название материка А – Австралия; 2) правильно указано название материка Б – Северная Америка	
Ответ содержит названные выше элементы	1
Все ответы, которые не соответствуют вышеуказанному критерию выставления оценки в 1 балл	0
<i>Максимальный балл</i>	<i>1</i>

ИЛИ

Запишите названия океанов, обозначенных на карте буквами В и Г.

Содержание верного ответа и указания по оцениванию	Баллы
1) Правильно указано название океана В – Атлантический; 2) правильно указано название океана Г – Индийский	
Ответ содержит названные выше элементы	1
Все ответы, которые не соответствуют вышеуказанному критерию выставления оценки в 1 балл	0
<i>Максимальный балл</i>	<i>1</i>

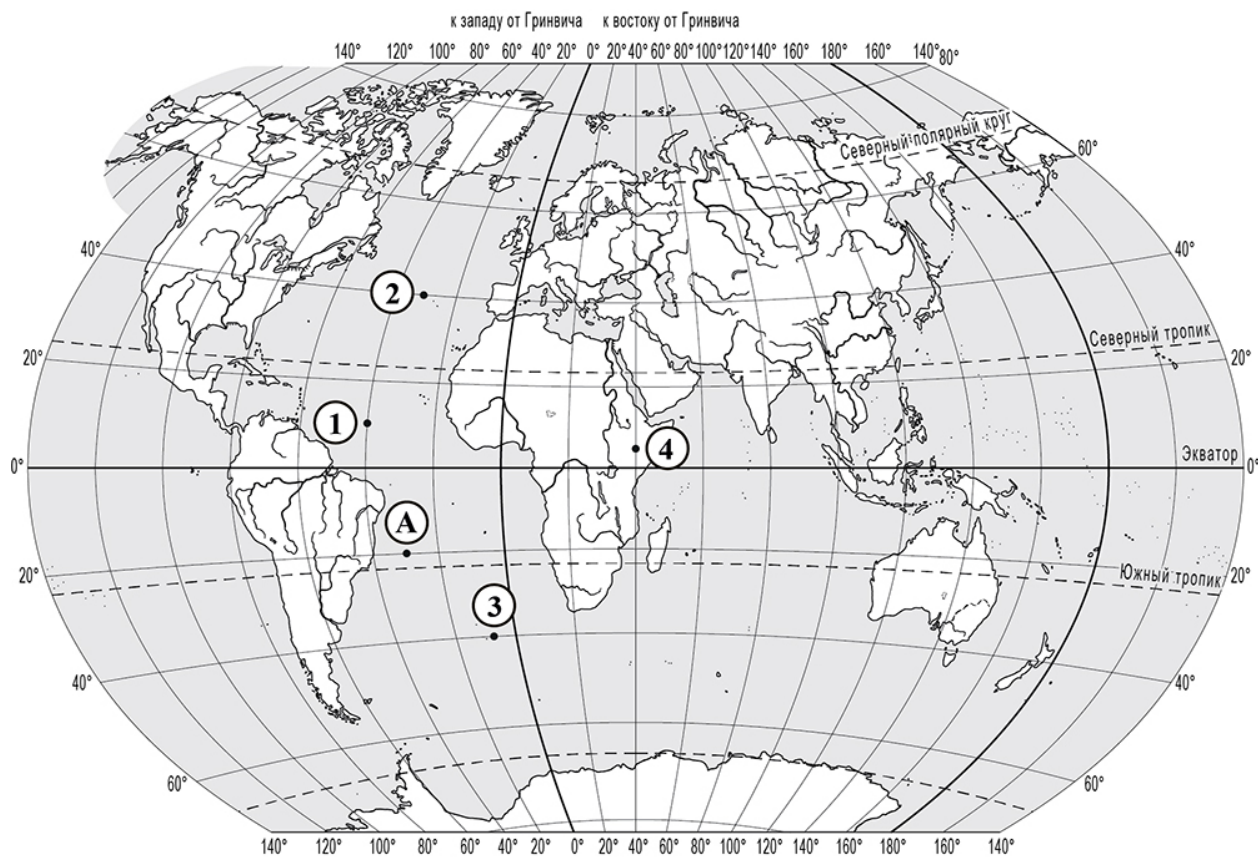
Система оценивания проверочной работы

Часть 2

Полный правильный ответ на каждое из заданий 10, 11, 14 и 15 оценивается 1 баллом. Если в ответе допущена хотя бы одна ошибка (один из элементов ответа записан неправильно или не записан), выставляется 0 баллов.

Номер задания	Правильный ответ	
10	3	
11	4	
14	321	231
15	4	2

12 Определите географические координаты точки, обозначенной на карте буквой А.



Содержание верного ответа и указания по оцениванию	Баллы
Правильный ответ должен содержать следующие <u>элементы</u> : 1) 20° ю. ш.; 2) 30° з. д.	
Ответ включает в себя оба названных выше элемента	2
Ответ включает в себя один (любой) из названных выше элементов	1
Все ответы, которые не соответствуют вышеуказанным критериям выставления оценок в 1 и 2 балла	0
<i>Максимальный балл</i>	2

- 13 Протяжённость Атлантического океана по экватору в градусах составляет 59° . Определите протяжённость Атлантического океана по экватору в километрах, если известно, что длина дуги 1° экватора равна 111 км. Запишите решение задачи.

Содержание верного ответа и указания по оцениванию (допускаются иные формулировки ответа, не искажающие его смысла)	Баллы
Решение: $59 \times 111 \text{ км} = 6549 \text{ км}$ Ответ: 6549 км. (Если в решении использовалось значение длины дуги 1° экватора, равное 111,3 км, то ответ 6566,7 км засчитывается как верный.)	
Правильно приведена запись решения, и указан верный ответ	1
Все случаи, которые не соответствуют вышеуказанному критерию выставления оценки в 1 балл	0
<i>Максимальный балл</i>	<i>1</i>

- 16 Прочитайте текст и выполните задание.

Максим получил от учителя географии задание сделать доклад о землетрясениях, зафиксированных за прошедшую неделю, используя информацию из Интернета. Максим нашёл сообщения о трёх землетрясениях, произошедших в Южной Америке. Эти землетрясения ощущались на территориях Перу и Чили. Во всех случаях сообщалось, что эпицентры землетрясений располагались в акватории Тихого океана недалеко от западного побережья материка, а очаги их находились на глубине от 8 до 30 километров. Когда Максим закончил доклад, учитель обратился к классу с заданием: «Объясните, почему у западного побережья Южной Америки часто происходят землетрясения».

Запишите свой ответ на этот вопрос.

Содержание верного ответа и указания по оцениванию (допускаются иные формулировки ответа, не искажающие его смысла)	Баллы
В ответе говорится, что у западного побережья Южной Америки находится граница литосферных плит, ИЛИ что у западного побережья Южной Америки происходит столкновение литосферных плит	
Ответ содержит названный выше элемент	1
Все ответы, которые не соответствуют вышеуказанному критерию выставления оценки в 1 балл	0
<i>Максимальный балл</i>	<i>1</i>

ИЛИ

16

Прочитайте текст и выполните задание.

Значение путешествия Марко Поло

В своё знаменитое путешествие по Азии Марко Поло отправился в 1271 году. В родную Венецию он вернулся только в 1295 году. Вернувшись на родину, он написал сочинение «Книга о разнообразии мира». В ней Марко Поло не только описал природу Китая, Индии и других стран, в которых он побывал, но и передал позаимствованную им у китайских путешественников географическую информацию о странах Африки, выходящих к Индийскому океану. Для европейцев его книга стала ценным источником информации для создания географических карт.

Определите, мог ли Христофор Колумб использовать информацию из книги Марко Поло при поиске пути в Индию. Свой ответ обоснуйте.

Содержание верного ответа и указания по оцениванию (допускаются иные формулировки ответа, не искажающие его смысла)	Баллы
В ответе говорится, что Христофор Колумб мог использовать информацию из книги Марко Поло, так как Колумб путешествовал двумя веками позже	
Ответ содержит названный выше элемент	1
Все ответы, которые не соответствуют вышеуказанному критерию выставления оценки в 1 балл	0
<i>Максимальный балл</i>	<i>1</i>

ИЛИ

Прочитайте текст и выполните задание.

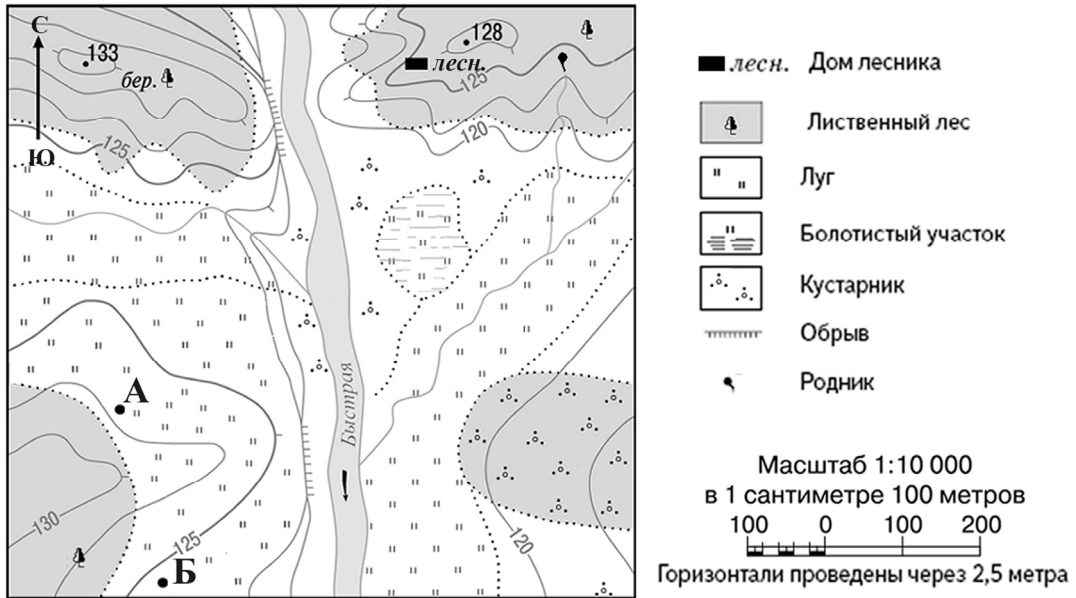
Алёша живёт в Санкт-Петербурге. Он учится в 4-м классе. На зимних каникулах он вместе с родителями и старшим братом Димой собирался отправиться в туристическую поездку в Бразилию, в знаменитый город Рио-де-Жанейро. Он нашёл город на карте в Интернете, и ему стало интересно, какая там будет погода. На сайте прогнозов погоды он прочитал такой прогноз: «На следующей неделе в Рио-де-Жанейро будет как всегда летом жарко – днём температура воздуха будет подниматься до +30 °С, но каждый день ожидаются дожди». «Почему там в январе лето?» – подумал Алёша и обратился с этим вопросом к старшему брату Диме.

Найдите на карте в атласе город Рио-де-Жанейро. Как бы Вы ответили на вопрос Алёши?

Содержание верного ответа и указания по оцениванию (допускаются иные формулировки ответа, не искажающие его смысла)	Баллы
В ответе говорится, что Рио-де-Жанейро находится в другом полушарии и в январе это полушарие получает больше солнечного тепла, поскольку там в это время лето, ИЛИ Рио-де-Жанейро находится в Южном полушарии, в январе земная ось наклонена южным концом к Солнцу, и когда у нас зима, в Южном полушарии лето	
Ответ содержит названный выше элемент	1
Все ответы, которые не соответствуют вышеуказанному критерию выставления оценки в 1 балл	0
<i>Максимальный балл</i>	<i>1</i>

ИЛИ

16 Туристы из групп **А** и **Б** разместились на ночлег в окрестностях реки Быстрой в точках, обозначенных на карте соответствующими буквами. Туристы из группы **А** развели большой костёр.



Определите, могли ли туристы из группы **Б** видеть ночью костёр, который развели туристы из группы **А**. Свой ответ обоснуйте.

Содержание верного ответа и указания по оцениванию (допускаются иные формулировки ответа, не искажающие его смысла)	Баллы
В ответе говорится, что туристы из группы Б не могли видеть костёр, который развели туристы из группы А , потому что между точками А и Б находится холм, ИЛИ что туристы из группы Б не могли видеть костёр, который развели туристы из группы А , потому что туристам из группы Б увидеть костёр мешал рельеф местности	
Ответ содержит названный выше элемент	1
Все ответы, которые не соответствуют вышеуказанному критерию выставления оценки в 1 балл	0
<i>Максимальный балл</i>	<i>1</i>

Система оценивания выполнения всей работы

Максимальный первичный балл за выполнение работы – **18**.

Рекомендации по переводу первичных баллов в отметки по пятибалльной шкале

Отметка по пятибалльной шкале	«2»	«3»	«4»	«5»
Первичные баллы	0–4	5–9	10–15	16–18