

Информатика ОГЭ 2026

Тренировочный вариант #2

Инструкция по выполнению работы

Работа состоит из двух частей, включающих в себя 16 заданий. Часть 1 содержит 10 заданий с кратким ответом; часть 2 содержит 6 заданий, которые необходимо выполнить на компьютере.

На выполнение работы по информатике отводится 2 часа 30 минут (150 минут). Вы можете самостоятельно определять время, которое отводите на выполнение заданий, но рекомендуемое время на выполнение заданий части 1 – 30 минут, на выполнение заданий части 2 – 2 часа (120 минут).

Ответы к заданиям 1–12 записываются в виде числа, слова, последовательности букв или цифр. Ответ запишите в поле ответа в тексте работы, а затем перенесите в бланк ответов № 1.

Результатом выполнения каждого из заданий 13–16 является отдельный файл. Формат файла, его имя и каталог для сохранения Вам сообщат организаторы экзамена.

Все бланки заполняются яркими чёрными чернилами. Допускается использование гелевой или капиллярной ручки.

При выполнении заданий можно пользоваться черновиком. **Записи в черновике, а также в тексте контрольных измерительных материалов не учитываются при оценивании работы.**

Баллы, полученные Вами за выполненные задания, суммируются. Постарайтесь выполнить как можно больше заданий и набрать наибольшее количество баллов.

После завершения работы проверьте, чтобы ответ на каждое задание в бланке ответов № 1 был записан под правильным номером.

Желаем успеха!

Часть 1

Ответами к заданиям 1–10 являются число, слово, последовательность букв или цифр. Ответы сначала укажите в тексте работы, а затем перенесите в БЛАНК ОТВЕТОВ № 1 справа от номера соответствующего задания, начиная с первой клеточки, без пробелов, запятых и других дополнительных символов. Каждый символ пишете в отдельной клеточке в соответствии с приведёнными в бланке образцами.

1

В кодировке Windows-1251 каждый символ кодируется 8 битами. Вова написал текст (в нём нет лишних пробелов):

«Вздыхать и думать про себя:
Когда же чёрт возьмёт тебя!»

Ученик вычеркнул из текста одно слово. Заодно он вычеркнул ставший лишним пробел – два пробела не должны идти подряд. При этом размер нового предложения в данной кодировке оказался на 7 байт меньше, чем размер исходного предложения. Напишите в ответе вычеркнутое слово.

Ответ: _____

2

Ваня шифрует русские слова, записывая вместо каждой буквы её номер в алфавите (без пробелов). Номера букв даны в таблице.

А	1	Й	11	У	21	Э	31
Б	2	К	12	Ф	22	Ю	32
В	3	Л	13	Х	23	Я	33
Г	4	М	14	Ц	24		
Д	5	Н	15	Ч	25		
Е	6	О	16	Ш	26		
Ё	7	П	17	Щ	27		
Ж	8	Р	18	Ъ	28		
З	9	С	19	Ы	29		
И	10	Т	20	Ь	30		

Некоторые шифровки можно расшифровать несколькими способами. Например, 311333 может означать «ВАЛЯ», может – «ЭЛЯ», а может – «ВААВВВ».

Даны четыре шифровки:

6543210
1210530
2033410
2102030

Только одна из них расшифровывается единственным способом. Найдите её и расшифруйте. Получившееся слово запишите в качестве ответа.

Ответ: _____

3

Дано четыре числа: 6843, 4562, 3561, 1234. Для какого из приведённых чисел истинно высказывание:

(Первая цифра чётная) **И НЕ** (Последняя цифра нечётная)?

В ответе запишите это число.

Ответ: _____

4

Между населёнными пунктами *A*, *B*, *C*, *D*, *E* построены дороги, протяжённость которых приведена в таблице.

	A	B	C	D	E
A		6	1		1
B	6			1	
C	1			2	2
D		1	2		1
E	1		2	1	

Определите длину кратчайшего пути между пунктами *A* и *B*, проходящего через пункт *E* (при условии, что передвигаться можно только по указанным в таблице дорогам). Каждый пункт можно посетить только один раз.

Ответ: _____

5

У исполнителя Квадратор две команды, которым присвоены номера:

- 1. возведи в квадрат**
- 2. прибавь 3**

Первая из них возводит число на экране во вторую степень, вторая прибавляет к числу 3. Составьте алгоритм получения **из числа 1 числа 262**, содержащий не более 5 команд. В ответе запишите только номера команд.

(Например, 11221 – это алгоритм:

возведи в квадрат

возведи в квадрат

прибавь 3

прибавь 3

возведи в квадрат,

который преобразует число 2 в 484.)

Если таких алгоритмов более одного, то запишите любой из них.

Ответ: _____

6

Ниже приведена программа, записанная на пяти языках программирования.

Алгоритмический язык	Паскаль
<pre> алг нач цел s, k ввод s ввод k если s < 6 и k > 6 то вывод "YES" иначе вывод "NO" все кон </pre>	<pre> var s, k: integer; begin readln(s); readln(k); if (s < 6) and (k > 6) then writeln("YES") else writeln("NO") end. </pre>
Бейсик	Python
<pre> DIM k, s AS INTEGER INPUT s INPUT k IF s < 6 AND k > 6 THEN PRINT "YES" ELSE PRINT "NO" END IF </pre>	<pre> s = int(input()) k = int(input()) if s < 6 and k > 6: print("YES") else: print("NO") </pre>
C++	
<pre> #include <iostream> using namespace std; int main() { int s, k; cin >> s; cin >> k; if (s < 6 && k > 6) cout << "YES" << endl; else cout << "NO" << endl; return 0; } </pre>	

Было проведено 9 запусков программы, при которых в качестве значений переменных s и k вводились следующие пары чисел:

(1, 11); (5, 9); (8, -12); (6, 6); (3, 11); (-10, -12); (-10, 11); (7, 1); (-12, 7).

Сколько было запусков, при которых программа напечатала «YES»?

Ответ: _____

7

Доступ к файлу **lesson.xls**, находящемуся на сервере **personalsite.com**, осуществляется по протоколу **ftp**. Фрагменты адреса файла закодированы цифрами от 1 до 7. Запишите последовательность этих цифр, кодирующую адрес указанного файла в сети Интернет.

- 1) personalsite
- 2) ftp
- 3) /
- 4) .com
- 5) lesson
- 6) ://
- 7) .xls

Ответ: _____

8

В языке запросов поискового сервера для обозначения логической операции «ИЛИ» используется символ «|», а для обозначения логической операции «И» – символ «&».

В таблице приведены запросы и количество найденных по ним страниц некоторого сегмента сети Интернет.

Запрос	Найдено страниц (в тысячах)
<i>Юрта</i>	81
<i>Индеец</i>	88
<i>Вигвам</i>	107
<i>Индеец Вигвам Юрта</i>	231
<i>Индеец & Вигвам</i>	17
<i>Индеец & Юрта</i>	0

Какое количество страниц (в сотнях тысяч) будет найдено по запросу

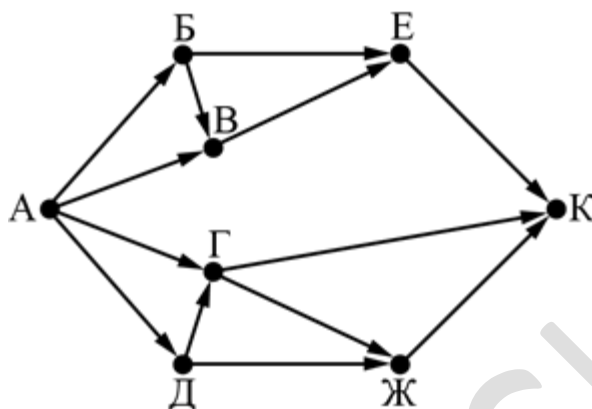
Юрта & Вигвам?

Считается, что все запросы выполнялись практически одновременно, так что набор страниц, содержащих все искомые слова, не изменялся за время выполнения запросов.

Ответ: _____

9

На рисунке – схема дорог, связывающих города A , B , B , $Г$, $Д$, $Е$, $Ж$ и $К$. По каждой дороге можно двигаться только в одном направлении, указанном стрелкой. Сколько существует различных путей из города A в город $К$?



Ответ: _____

10

Переведите число 98 из десятичной системы счисления в двоичную систему счисления. В ответе укажите полученное число.

Ответ: _____

Часть 2

Задания этой части (11–16) выполняются на компьютере. Ответами к заданиям 11, 12 являются слово или число, которые следует записать в БЛАНК ОТВЕТОВ № 1 справа от номера соответствующего задания, начиная с первой клеточки. Каждый символ пишите в отдельной клеточке в соответствии с приведёнными в бланке образцами. Результатом выполнения заданий 13–16 является отдельный файл (для одного задания – один файл). Формат файла, его имя и каталог для сохранения Вам сообщат организаторы экзамена.

11

В одном из произведений А.П. Чехова, текст которого приведён в подкаталоге каталога **Проза**, есть героиня по прозвищу Печончиха. С помощью поисковых средств операционной системы и текстового редактора или браузера выясните имя этой женщины.

Ответ: _____

12

Сколько всего файлов с расширениями **.htm** и **.tiff** содержится в подкаталогах **Айвазовский** и **Перов** каталога **ДЕМО-12/Живопись**, а также в подкаталогах **Есенин** и **Лермонтов** каталога **ДЕМО-12/Поэзия**? В ответе укажите только число.

Ответ: _____

Выберите ОДНО из предложенных ниже заданий: 13.1 или 13.2.

13.1

Используя информацию и иллюстративный материал, содержащийся в каталоге ДЕМО-13, создайте презентацию из трёх слайдов на тему «Жимолость». В презентации должны содержаться краткие иллюстрированные сведения о растении и пример его использования в кулинарии. Все слайды должны быть выполнены в едином стиле, каждый слайд должен быть озаглавлен.

Презентацию сохраните в файле, имя которого Вам сообщат организаторы экзамена. Файл ответа необходимо сохранить в формате *.odt.

Требования к оформлению работы

1. Ровно три слайда без анимации. Параметры страницы (слайда): экран (16:9), ориентация альбомная.

2. Содержание, структура, форматирование шрифта и размещение изображений на слайдах:

- первый слайд – титульный слайд с названием презентации, в подзаголовке титульного слайда в качестве информации об авторе презентации указывается идентификационный номер участника экзамена;

- второй слайд – основная информация в соответствии с заданием, размещённая по образцу на рисунке макета слайда 2:

- заголовок слайда;
- два изображения;
- два блока текста;

- третий слайд – дополнительная информация по теме презентации, размещённая по образцу на рисунке макета слайда 3:

- заголовок слайда;
- три изображения;
- три блока текста.

На макетах слайдов существенным является наличие всех объектов, включая заголовки, их взаимное расположение. Выравнивание объектов, ориентация изображений выполняются произвольно в соответствии с замыслом автора работы и служат наилучшему раскрытию темы.

	<p>Макет 1 слайда Тема презентации</p>
	<p>Макет 2 слайда Основная информация по теме презентации</p>
	<p>Макет 3 слайда Дополнительная информация по теме презентации</p>

В презентации должен использоваться единый тип шрифта (рубленый, с засечками или моноширинный).

Размер шрифта для названия презентации на титульном слайде – 40 пунктов, для подзаголовка на титульном слайде и заголовков слайдов – 24 пункта, для подзаголовков на втором и третьем слайдах и для основного текста – 20 пунктов.

Текст не должен перекрывать основные изображения и сливаться с фоном.

13.2

Создайте в текстовом редакторе документ и напишите в нём следующий текст, точно воспроизведя всё оформление текста, имеющееся в образце.

Данный текст должен быть набран шрифтом размером 14 пунктов обычного начертания. Отступ первой строки абзацев основного текста – 1 см. Расстояние между строками текста не менее одинарного, но не более полуторного междустрочного интервала. Основной текст выровнен по ширине; заголовок текста, текст в ячейках первой и седьмой строк таблицы, первого столбца таблицы – по центру; в ячейках второго столбца применено выравнивание по левому краю. В основном тексте и таблице есть слова, выделенные полужирным шрифтом, курсивом или подчёркиванием.

Таблица выровнена на странице по центру горизонтали. Ширина таблицы меньше ширины основного текста.

При этом допустимо, чтобы ширина Вашего текста отличалась от ширины текста в примере, поскольку ширина текста зависит от размеров страницы и полей. В этом случае разбиение текста на строки должно соответствовать стандартной ширине абзаца.

Интервал между заголовком текста и текстом, между абзацами текста, между текстом и таблицей не менее 12 пунктов, но не более 24 пунктов.

Текст сохраните в файле, имя которого Вам сообщат организаторы.

Файл ответа необходимо сохранить в формате *.odt.

ДЕЛОВОЙ ЦЕНТР

«Деловой центр» – станция Московского метрополитена на *Большой кольцевой линии*. Связана пересадкой с одноимённой станцией Солнцевской линии и станцией «Выставочная» *Филёвской линии*. Расположена в *Пресненском районе (ЦАО)*.

В оформлении использованы отсылки к дизайну центра «Москва-Сити», частью которого является станция. Колонны и потолок облицованы металлом, ограждения балконов и витражи сделаны из стекла. На потолке установлены панели голубого цвета.

<u>Информация о станции</u>	
Дата открытия	26 февраля 2018 г.
Проектное название	«Международная»
Тип	<i>колонная трёхпролётная глубокого заложения</i>
Глубина заложения, м	26,5
Координаты	55°44'56" с. ш. 37°32'22" в. д.
<u>Размеры</u>	
Длина платформы, м	163
Ширина платформы, м	14,9

14

В электронную таблицу занесли данные о численности населения городов разных стран. На рисунке приведены первые строки получившейся таблицы.

	А	В	С
1	Город	Численность населения	Страна
2	Асмун	91,40	Египет
3	Винер-Нойштадт	39,94	Австрия
4	Люлебургаз	100,79	Турция
5	Фёклабрук	11,95	Австрия

В столбце А указано название города; в столбце В – численность населения (тыс. человек); в столбце С – название страны.

Всего в электронную таблицу были занесены данные по 1000 городов. Порядок записей в таблице произвольный.

Откройте файл с данной электронной таблицей (расположение файла Вам сообщат организаторы экзамена). На основании данных, содержащихся в этой таблице, выполните задания.

1. Какова суммарная численность населения в приведённых в таблице городах России? Ответ на этот вопрос с точностью до одного знака после запятой (в тыс. человек) запишите в ячейку F2.

2. Сколько городов среди представленных в таблице имеют население не менее миллиона человек? Ответ на этот вопрос запишите в ячейку F3 таблицы.

3. Постройте круговую диаграмму, отображающую соотношение количества городов Испании, Италии и Франции, представленных в таблице. Левый верхний угол диаграммы разместите вблизи ячейки G6. В поле диаграммы должны присутствовать легенда (обозначение, какой сектор диаграммы соответствует каким данным) и числовые значения данных, по которым построена диаграмма.

Полученную таблицу необходимо сохранить под именем, указанным организаторами экзамена.

15

Исполнитель Робот умеет перемещаться по лабиринту, начерченному на плоскости, разбитой на клетки. Между соседними (по сторонам) клетками может стоять стена, через которую Робот пройти не может.

У Робота есть девять команд. Четыре команды – это команды-приказы:

вверх вниз влево вправо

При выполнении любой из этих команд Робот перемещается на одну клетку соответственно: вверх ↑, вниз ↓, влево ←, вправо →. Если Робот получит команду передвижения сквозь стену, то он разрушится.

Также у Робота есть команда **закрасить**, при которой закрашивается клетка, в которой Робот находится в настоящий момент.

Ещё четыре команды – это команды проверки условий. Эти команды проверяют, свободен ли путь для Робота в каждом из четырёх возможных направлений:

сверху свободно снизу свободно слева свободно справа свободно

Эти команды можно использовать вместе с условием «если», имеющим следующий вид:

если условие то
последовательность команд
все

Здесь *условие* – одна из команд проверки условия.

Последовательность команд – это одна или несколько любых команд-приказов.

Например, для передвижения на одну клетку вправо, если справа нет стенки и закрашивания клетки, можно использовать такой алгоритм:

если справа свободно то
вправо
закрасить
все

В одном условии можно использовать несколько команд проверки условий, применяя логические связки **и**, **или**, **не**, например:

если (справа свободно) и (не снизу свободно) то
вправо
все

Для повторения последовательности команд можно использовать цикл «пока», имеющий следующий вид:

нц пока условие
последовательность команд
кц

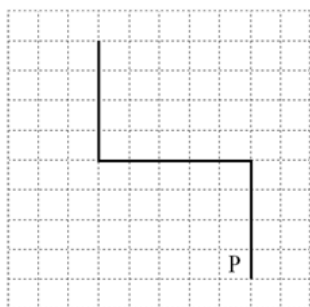
Например, для движения вправо, пока это возможно, можно использовать следующий алгоритм:

нц пока справа свободно
вправо
кц

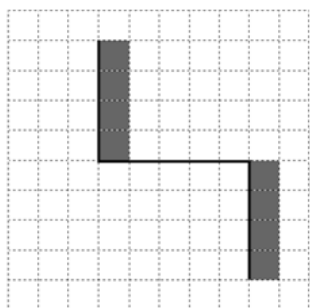
Выполните задание

На бесконечном поле имеются две вертикальные стены и одна горизонтальная, соединяющая нижний конец левой и верхний конец правой вертикальных стен. Длины стен неизвестны. Робот находится в клетке, расположенной слева от нижнего края правой вертикальной стены, рядом со стеной.

На рисунке указан один из возможных способов расположения стен и Робота (Робот обозначен буквой «Р»).



Напишите для Робота алгоритм, закрашивающий все клетки, примыкающие к вертикальным стенам справа. Робот должен закрасить только клетки, удовлетворяющие данному условию. Например, для приведённого выше рисунка Робот должен закрасить следующие клетки (см. рисунок).



Конечное расположение Робота может быть произвольным. Алгоритм должен решать задачу для произвольного размера поля и любого допустимого расположения стен внутри прямоугольного поля. При исполнении алгоритма Робот не должен разрушиться, выполнение алгоритма должно завершиться.

Алгоритм может быть выполнен в среде формального исполнителя или записан в текстовом редакторе.

Сохраните алгоритм в формате программы Кумир или в текстовом файле. Название файла и каталог для сохранения Вам сообщат организаторы экзамена.

16

Напишите программу, которая в последовательности целых чисел определяет количество чётных чисел, кратных 9. Программа получает на вход целые числа, количество введённых чисел неизвестно, последовательность чисел заканчивается числом 0 (0 – признак окончания ввода, не входит в последовательность).

Количество чисел не превышает 1000. Введённые числа по модулю не превышают 30 000.

Программа должна вывести одно число: количество чётных чисел, кратных 9.

Пример работы программы:

Входные данные	Выходные данные
-32 18 17 0	1