

**Проверочная работа
по БИОЛОГИИ**

7 КЛАСС

Вариант 1

Инструкция по выполнению работы

На выполнение работы по биологии отводится 45 минут. Работа включает в себя 10 заданий.

Ответы на задания запишите в поля ответов в тексте работы. В случае записи неверного ответа зачеркните его и запишите рядом новый.

При выполнении работы не разрешается пользоваться учебником, рабочими тетрадями и другим справочным материалом.

При необходимости можно пользоваться черновиком. Записи в черновике проверяться и оцениваться не будут.

Советуем выполнять задания в том порядке, в котором они даны. В целях экономии времени пропускайте задание, которое не удаётся выполнить сразу, и переходите к следующему. Если после выполнения всей работы у Вас останется время, то Вы сможете вернуться к пропущенным заданиям.

Желаем успеха!

Заполняется учителем, экспертом или техническим специалистом

Обратите внимание: в случае, если какие-либо задания не могли быть выполнены целым классом по причинам, связанным с отсутствием соответствующей темы в реализуемой школой образовательной программе, в форме сбора результатов ВПР всем обучающимся класса за данное задание вместо балла выставляется значение «Тема не пройдена». В соответствующие ячейки таблицы заполняется н/п.


Таблица для внесения баллов участника

Номер задания	1.1	1.2	2	3	4	5	6.1	6.2	7.1	7.2	8	9	10.1	10.2	Сумма баллов	Отметка за работу
Баллы																

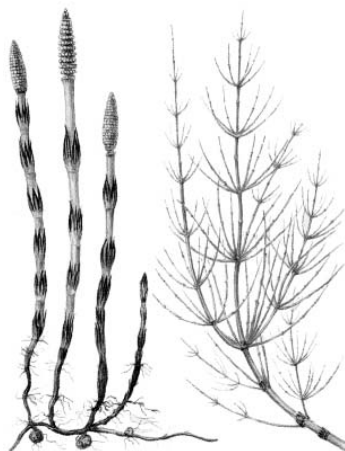
1

Рассмотрите изображения различных объектов живой природы.

1.1. Подпишите их названия, используя слова из предложенного списка: *хвощовые, однодольные, двудольные, хвойные.*




А. _____



Б. _____



В. _____



Г. _____

1.2. Три из изображённых объектов объединены общим признаком. Выпишите название объекта, «выпадающего» из общего ряда. Объясните свой выбор.

Ответ. _____

2

Каково значение бактерий в жизни человека? Назовите одно из них.

Ответ. _____

3

Елизавета и Кирилл собрали и подготовили для гербария образцы растений. Для каждого растения им необходимо составить «паспорт», соответствующий положению этого растения в общей классификации организмов. Помогите ребятам записать в таблицу **слова (словосочетание)** из предложенного списка в такой последовательности, чтобы получился «паспорт» растения.

Список слов (словосочетание):

- 1) Овёс
- 2) Растения
- 3) Овёс посевной
- 4) Покрытосеменные
- 5) Однодольные

Царство	Отдел	Класс	Род	Вид

4

Известно, что **сфагнум болотный** – споровое растение, образующее запасы ценного горючего ископаемого. Используя эти сведения, выберите из приведённого ниже списка два утверждения, относящиеся к описанию **данных** признаков этого растения.

Запишите в ответе **цифры**, соответствующие выбранным ответам.

- 1) Сфагнум произрастает в заболоченных лесах, на болотах.
- 2) Растения ежегодно нарастают верхней частью, а снизу отмирают; ризоидов нет.
- 3) Сфагнум способствует заболачиванию лесов и зарастанию водоёмов.
- 4) Тело сфагнума содержит вещество, убивающее бактерий, в связи с чем этот мох почти не гниёт и образует отложения торфа.
- 5) После оплодотворения на верхушке мха вырастает спорофит – коробочка со спорами.

Ответ.

--	--

5

Выберите из предложенного списка и вставьте в текст пропущенные слова, используя для этого их цифровые обозначения. Впишите номера выбранных слов на места пропусков в тексте.

Значение злаков

Многие виды злаков используются человеком в пищевой промышленности. Тростник культивируют для получения из его стеблей _____(А). Плоды хлебных злаков под названием _____(Б) используются для производства муки. У кукурузы идут в продажу початки, которые представляют собой соцветия, образованные из _____(В) цветков.

Список слов:

- 1) женский
- 2) масло
- 3) семянка
- 4) мужской
- 5) зерновка
- 6) сахар

Запишите в таблицу выбранные цифры под соответствующими буквами.

Ответ.

А	Б	В

6

6.1. Установите соответствие между характеристиками и группами растений: к каждой позиции, данной в первом столбце, подберите соответствующую позицию из второго столбца.

ХАРАКТЕРИСТИКИ

- А) произошли от древних зелёных водорослей
- Б) зародыш не имеет покровных оболочек
- В) формируют семязачатки
- Г) образуют плоды или шишки
- Д) оплодотворение происходит в воде
- Е) опыляются ветром или насекомыми

ГРУППЫ РАСТЕНИЙ

- 1) Семенные
- 2) Споровые

Запишите в таблицу выбранные цифры под соответствующими буквами.

Ответ.

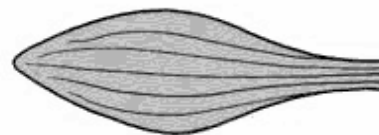
А	Б	В	Г	Д	Е

6.2. Приведите по три примера растений, относящихся к указанным группам. Запишите их названия в таблицу.

Споровые	Семенные

7

7.1. К какому классу относят растение, лист которого показан на рисунке?



- 1) Однодольные
- 2) Хвойные
- 3) Двудольные
- 4) Папоротниковые

Ответ.

7.2. Какое число семядолей, вероятнее всего, будет у растения, лист которого изображён на рисунке? Почему?

Ответ. _____

8

Верны ли следующие суждения об особенностях бактерий?

- А. Бактерии размножаются делением надвое или с помощью спор.
- Б. Споры бактерий могут длительное время храниться во внешней среде, сохраняя свою жизнеспособность.

- 1) верно только А
- 2) верно только Б
- 3) оба суждения верны
- 4) оба суждения неверны

Ответ.

9

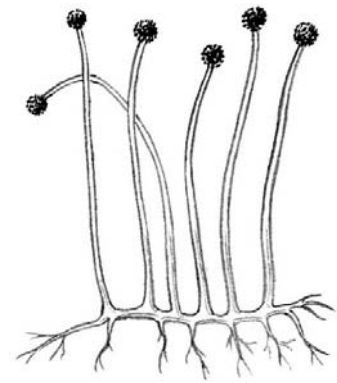
Рассмотрите изображения шести представителей мира грибов. Предложите основание, согласно которому эти грибы можно разделить на две группы – по три представителя в каждой.



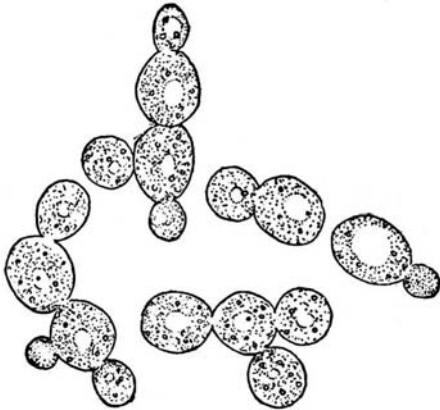
Подберёзовик



Дубовик



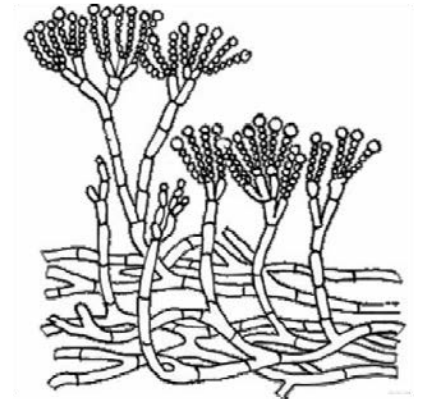
Мукор



Дрожжи



Гладыш



Пеницилл

Заполните таблицу: запишите в неё основание, по которому были разделены грибы, общее название для каждой группы грибов и перечислите грибы, которые Вы отнесли к этой группе.


Номер группы	Какое основание позволило разделить грибы?	Как называется данная группа грибов?	Какие грибы относятся к данной группе?
Группа 1			
Группа 2			



10

10.1. Рассмотрите изображения растений: ульва, горошек мышиный, можжевельник. Подпишите их названия под соответствующими изображениями.

Под каждым названием растения укажите среду его обитания: наземно-воздушная, водная.

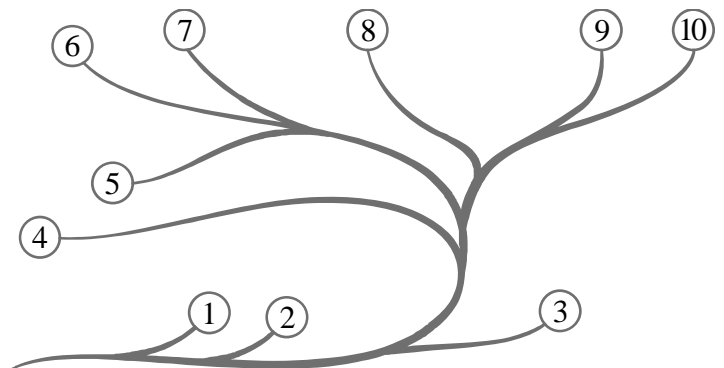


□

Название			
Среда обитания			

10.2. Рассмотрите схему, отражающую развитие растительного мира Земли.

- 1 – Зелёные водоросли
- 2 – Красные водоросли
- 3 – Бурые водоросли
- 4 – Мхи
- 5 – Плауны
- 6 – Папоротники
- 7 – Хвощи
- 8 – Голосеменные
- 9 – Однодольные
- 10 – Двудольные



Какими цифрами на схеме обозначены группы организмов, к которым относят изображённые на рисунках растения? Запишите в таблицу номера соответствующих групп.

□

Ульва	Можжевельник	Горошек мышиный