

**КОНТРОЛЬНЫЕ ИЗМЕРИТЕЛЬНЫЕ МАТЕРИАЛЫ
ПО ОЦЕНКЕ ЧИТАТЕЛЬСКОЙ ГРАМОТНОСТИ ОБУЧАЮЩЕГОСЯ****5 класс****Вариант № 1****Инструкция по выполнению работы**

Проверочная работа включает в себя 32 задания. На выполнение работы отводится 1 час 30 минут (90 минут).

Внимательно читайте каждое задание и предлагаемые варианты ответа. Отвечайте только после того, как Вы поняли вопрос и проанализировали все варианты ответа.

Выполняйте задания в том порядке, в котором они даны. Для экономии времени пропускайте задание, которое не удаётся выполнить сразу, и переходите к следующему. Если после выполнения всей работы у Вас останется время, Вы сможете вернуться к пропущенным заданиям.

Баллы, полученные Вами за выполненные задания, суммируются. Постарайтесь выполнить как можно больше заданий и набрать как можно больше баллов.

Желаем успеха!***Познакомьтесь с информацией и выполните задания 1–9.*****В гостях у Деда Мороза****Текст 1**

На берегу реки Сухоны в пригороде Великого Устюга расположен один из самых знаменитых домов, где живёт всеми любимый Дедушка Мороз. Деревянный терем укрыт среди высоких елей в самом сердце его вотчины.

В течение всего года в зависимости от сезона мероприятия и шоу-программа меняются. Попасть на территорию можно как самостоятельно, так и вместе с туристической группой, по заранее приобретённой путёвке. В преддверии новогодних каникул на первом этаже Дома Деда Мороза устанавливается праздничная ёлка, а территория всей вотчины подсвечивается гирляндами. В период каникул самый большой наплыв людей, поэтому поездку сюда лучше спланировать заранее.

Здесь так много всего интересного! Например, почтовое отделение, куда приходят письма Деду Морозу – около 200 000 в год, и на все он отвечает! Отсюда своим близким можно отправить открытку со специальным штемпелем.

Адрес Деда Мороза
162 390, Россия, Вологодская область,
город Великий Устюг, Почта Деда Мороза.



В вотчине гости знакомятся не только с волшебными предметами, но и со вполне «земными» ремёслами. На территории есть столярная мастерская и кузница, а умельцы фольклорного центра «Горница» за чаепитием делятся секретами традиционных русских промыслов и проводят мастер-классы по работе с берестой, льном и другими материалами.

Ожидаете ли вы увидеть среди всей этой зимней сказки тропические растения? А они здесь есть! В вотчине круглый год работает зимний сад, в котором цветут розы и кактусы, растут ананасы и лимоны, а в пышных зарослях воркуют попугаи и журчат фонтаны.

Ещё одно интересное место резиденции Деда Мороза в Великом Устюге – ледник. Это терем с ледяными скульптурами, где даже в жару температура не поднимается выше –11 °С.

Обязательный пункт маршрута – зоопарк вотчины с оленями, медведями, филинами, лисами. Звери обитают здесь не в тесных клетках, а в просторных вольерах посреди леса.



На территории вотчины есть ледяные горки, верёвочный парк. Пожалуй, самое необычное развлечение – катание на печи Емели.



Если вы устали исследовать все местные чудеса пешком, садитесь на снегоход или сани с лошадьми, а летом – на паровозик. Всех, кто замёрз, в лесной аптеке напоят горячим чаем, расскажут о целебных свойствах северных трав, а в ресторане «Снежинка» накормят блюдами русской кухни. Поблизости от ресторана в торговых рядах продаются разнообразные сувениры с новогодней тематикой.

В этом сказочном месте можно остаться на несколько дней – в вотчине есть уютная гостиница с резными наличниками на окнах и деревянные коттеджи, похожие на пряничные домики.

Текст 2

Цены в 2022 году

Стоимость билетов варьируется в зависимости от сезона, возраста посетителя и наличия у него льгот. Цены растут с приближением новогодних каникул и достигают пика 1–10 января.

Отдельно посетить Дом Деда Мороза не получится. Экскурсия туда входит в комплексный маршрут прогулки по всей вотчине. В минимальный экскурсионный пакет «Сказка Деда Мороза» включены:

- 1) проход на территорию;
- 2) прогулка по зоне с аниматорами «Тропа сказок»;
- 3) посещение зимнего сада и почтового отделения;
- 4) экскурсия по Дому Деда Мороза;
- 5) развлечения в зоне с аттракционами.

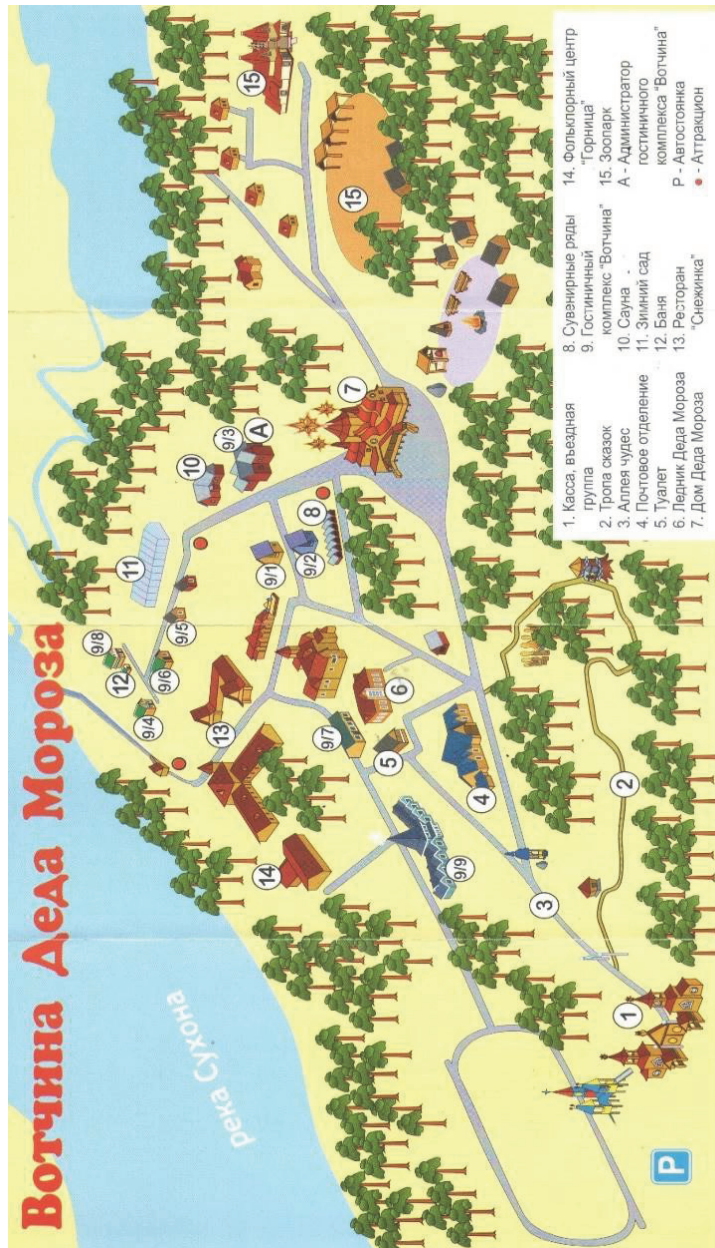
Цена пакета «Сказка Деда Мороза» в период с 16 ноября 2021 г. по февраль 2022 г. для взрослых – 1650 рублей, для школьников с 6 до 17 лет – 1450 рублей, для детей с 3 до 5 лет – 1050 рублей.

Право на льготный проход в любое время вне зависимости от сезона имеют инвалиды и действующие военнослужащие.

Посетители, прибывшие в вотчину самостоятельно, без туристической группы, обслуживаются в кассе в порядке живой очереди. Дети до 14 лет допускаются на территорию только в сопровождении взрослых. Выбрать пакет и оплатить вход на территорию вотчины можно в кассе у главных ворот или на официальном сайте.

Вотчина Деда Мороза

На территории вотчины находятся: Дом Деда Мороза; аттракционы с горками и детский городок; кузница и столярная мастерская; ледник с тронем Деда Мороза; фольклорный центр «Горница»; зоосад и каскад прудов; почтовое отделение; верёвочный парк; лесная аптека; зимний сад.



(По материалам сайта:

https://www.tourister.ru/world/europe/russia/city/velikiy_ustyug/placeofinterest/18351)

1 Выберите утверждения, которые соответствуют информации из **текста 1**. Запишите их номера.

- 1) Стоимость билетов меняется в зависимости от сезона, возраста посетителя и наличия у него льгот.
- 2) Можно купить отдельный билет в Дом Деда Мороза и не посещать другие экскурсионные объекты.
- 3) Оплатить посещение Вотчины Деда Мороза можно на сайте или в кассах.
- 4) Посетители, прибывшие в вотчину самостоятельно, обслуживаются без очереди.

Ответ: _____.

2 В текстах часто встречается слово «вотчина». Догадитесь, что оно обозначает.

Выберите верное толкование этого значения слова. Запишите номер ответа.

- 1) родина
- 2) избушка
- 3) владение
- 4) город

Ответ:

3 В **тексте 1** Вы прочитали предложение «Деревянный терем укрыт среди высоких елей в самом сердце его вотчины». Как Вы поняли выражение «в самом сердце его вотчины»?

Выберите верное толкование значения выражения. Запишите номер ответа.

- 1) в сердце человека
- 2) во внутреннем мире человека
- 3) в центре вотчины
- 4) в сердце Деда Мороза

Ответ:

4 В тексте 1 Вы прочитали выражение «посетители обслуживаются в порядке живой очереди». Как Вы понимаете смысл этого выражения? Запишите номер верного ответа.

- 1) очередь требует непосредственного присутствия всех ожидающих
- 2) очередь стоит среди природы
- 3) живые люди стоят в гости к ледяному Деду Морозу
- 4) посетители с животными тоже стоят в очереди

Ответ:

5 Сколько стоит билет в Вотчину Деда Мороза? Установите соответствие между возрастом посетителя и ценой его билета. К каждому элементу первого столбца подберите соответствующий элемент из второго столбца.

ВОЗРАСТ	ЦЕНА
А) взрослые	1) бесплатно
Б) школьники 6–17 лет	2) 1050 рублей
В) дети 3–5 лет	3) 1450 рублей
	4) 1650 рублей

Запишите в таблицу выбранные цифры под соответствующими буквами.

Ответ:	А	Б	В

6 Придумайте три вопроса к текстам, которые начинаются со слов «что», «где» и «когда». Запишите эти вопросы.

Ответ:
Что _____ ?

Где _____ ?

Сколько _____ ?

7 Никите 11 лет, его другу Алексею 10 лет. Они решили посетить Вотчину Деда Мороза самостоятельно, без сопровождения взрослых. Смогут ли они это сделать?

да нет

Объясните, почему Вы выбрали этот ответ.

8 Внимательно рассмотрите карту Вотчины Деда Мороза. Отметьте на карте цифрами:

- 1 – вход в вотчину;
- 2 – Дом Деда Мороза;
- 3 – почтовое отделение;
- 4 – зоопарк;
- 5 – мельницу.



- 9 Напишите открытку Деду Морозу. Обратите внимание на то, как правильно её оформить! Не забудьте написать индекс почты Деда Мороза, с ним письмо придёт намного быстрее.



Образец написания цифр индекса



Открытка:

От кого _____
 Откуда _____

 Индекс места отправления

Место
марки

Кому _____

 Куда _____

 Индекс места назначения _____



Прочитайте тексты и выполните задания 10–16.

Восстание Спартака

Текст 1

Рабские восстания обычно кончались поражениями и отличались одной особенностью: мятежные рабы жестоко мстили свободным людям за свои былые унижения, но даже и не думали отменять рабовладельческие порядки. В захваченных ими областях возникали временные рабские государства, в которых бывшие невольники делались господами, а бывшие свободные – рабами. Вожди повстанцев, как правило, провозглашали себя царями.

В противоположность им Спартак сражался за свободу, пытаясь увести своих товарищей из страны рабства. Он не хотел подражать тем порядкам, от которых пострадал сам. И соратников своих он старался отучить от рабских пороков, чтобы из них получилась не разбойничья шайка, а дисциплинированное войско, достойное свободных людей. Поэтому даже враги-римляне вспоминали о нём с уважением. А во всемирной истории, то есть в памяти человечества, благородный предводитель рабов занял почётное место рядом с другими великими полководцами древнего мира.

Текст 2

Спартак происходил из Фракии – небольшой горной страны, подчинённой Македонии. Фракийцы считались смелыми воинами и искусными наездниками. Фракия была родиной мифического певца Орфея и греческого бога вина и веселья Диониса.

Когда римляне завоевали Македонию, свободолюбивые фракийцы ещё долго сопротивлялись захватчикам. Спартак попал в плен к римлянам. Чтобы спасти жизнь, он притворно перешёл на их сторону, бежал и снова воевал с ними, был ранен и опять оказался в плену. Его хотели казнить, но за необычайную физическую силу отправили в гладиаторы.

Гладиаторами в Риме называли рабов, которых для развлечения публики заставляли с оружием в руках сражаться друг против друга на аренах цирков. Когда один из гладиаторов падал, другой ставил ему на грудь ногу и смотрел на зрителей. Если они поднимали вверх правую руку, побеждённый оставался живым. Если зрители протягивали руку вперёд и опускали вниз большой палец – это значило: добей его.



Текст 3

Спартак с конницей укрылся в лесу близ вражеского лагеря и в полдень следующего дня врзался со своими всадниками в ряды римских легионов, вышедших за продовольствием в окрестности, и за каких-нибудь полчаса уничтожил свыше четырёх тысяч римских солдат. Римляне были поражены, увидев, что те, кого они ещё только вчера вечером, казалось бы, заперли между морем и возведённой ими

стенной, угрожают им с тыла. А когда они взялись за оружие, чтобы прийти на помощь своим разбитым легионам, фракиец со всеми конниками умчался от них, направляясь в Кавлон.

– Ах, клянусь богами ада! – вскричал Марк Красс, ударив себя кулаком по голове. – Да что же это такое?.. Вот-вот, кажется, он попал в железное кольцо, а глядь – ускользает из моих рук! Я разбил, уничтожил его войско, а он собирает новое и нападает на меня с ещё большей силой. Я объясняю, что война заканчивается, а она вспыхивает ещё сильнее прежнего!.. Великие боги! Да это злой дух, не иначе! Вампир, жаждущий крови! Ненасытный волк-оборотень, пожирающий живые существа!

– Нет, он просто-напросто великий полководец, – ответил молодой Катон, прославившийся отвагой, проявленной им в этой войне.

Текст 4

Спартак узнал, что в Брундиции находится и Лукулл, возвратившийся после победы над Митридатом, он понял, что всё погибло, и пошёл на Красса с большой тогда своей армией. Произошла грандиозная битва, чрезвычайно ожесточённая вследствие отчаяния, охватившего такое большое количество людей. Спартак был ранен в бедро дротиком: опустившись на колено и выставив вперёд щит, он отбивался от нападавших, пока не пал вместе с большим числом окружавших его. Остальное его войско, находясь в полном беспорядке, было изрублено. Говорят, что число убитых и ustanovить было нельзя. Римлян пало около 1000 человек. Тело Спартака не было найдено. Большое число спартаковцев ещё укрылось в горах, куда бежали после битвы. Красс двинулся на них. Разделившись на четыре части, они отбивались, пока не погибли все, за исключением 6000, которые были схвачены и повешены вдоль дороги из Капуи в Рим.

Текст 5



Гладиаторы сражались в доспехах самых воинственных племён, по виду вооружения они так и назывались «самнитами», «фракийцами», «галлами». На шлемах «галлов» изображалась рыба-мурма, поэтому они носили также прозвище мурмилоны. Против тяжеловооруженного мурмилона нередко выступал легковооружённый «рыбак» – ретиарий, орудовавший трезубцем и сетью. Поединок продолжался, пока один из бойцов не погибал или не падал раненым на песок арены. Судьбу поверженного гладиатора определяли зрители: храброго бойца они приказывали пощадить, а робкого приговаривали к смерти. Победитель получал денежную награду, а иногда и свободу, если восхищённая публика требовала этого громким криком. В амфитеатре воля народа выполнялась словно закон, принятый в народном собрании.

Гладиаторские сражения были позорным явлением римской жизни. Случилось так, что именно рабы-гладиаторы положили начало великой рабской войне в Италии.

По материалам книги

Бутромеев В.П. Детский Плутарх. Великие и знаменитые. Древний Рим.

От Ромула до Аттилы.

Джованьоли Р. Спартак.

Хрестоматия по истории древнего Рима.

Трухина Н.Н. История Древнего Рима.

10 Как называли гладиаторов, подобных тому, что изображён слева на рисунке к тексту 5?

Ответ: _____.

11 Используя тексты, объясните смысл понятия «гладиатор».

Ответ:

12 Используя тексты, назовите государство, под властью которого находилась родина Спартака до её завоевания Римом.

Ответ: _____.

13 На какую особенность большинства восстаний, поднятых рабами, указывает автор одного из текстов?

Ответ:

14 Укажите букву, которой на карте, представленной в тексте 3, обозначено сражение, описываемое в тексте 4.

Ответ: _____.

15 Какой из приведённых текстов является отрывком из художественного произведения? Укажите порядковый номер этого текста.

Ответ: _____.

16 Укажите цифру, которой на карте, представленной в тексте 3, обозначен объект, упоминаемый в тексте 3.

Ответ: _____.

Прочитайте тексты и выполните задания 17–24.

Текст 1

Извержение вулкана Кракатау

Извержение вулкана Кракатау в 1883 г. считается одним из самых разрушительных в истории: более 35 тысяч человек погибли в результате извержения и вызванного им цунами. Были полностью уничтожены 165 населённых пунктов, ещё в 132 произошли серьёзные разрушения.

Извержение началось в мае 1883 г. и завершилось серией мощных взрывов 26 и 27 августа 1883 г. В результате значительная часть территории острова-вулкана была уничтожена, остались только три небольших части – острова Раката, Сергун, Раката-Кечил. 29 декабря 1927 г. примерно в этом месте произошло подводное извержение и появился новый вулкан, названный Анак-Кракатау, что означает «дитя Кракатау»¹.



Литография 1889 г., изображающая извержение вулкана Кракатау

Дата	1883 г.
Дата начала	20 мая 1883 г.
Дата окончания	21 октября 1883 г.
Место	Кракатау
Географические координаты	6° ю. ш. 105° в. д.

¹ По материалам Википедии.

Извержение вулкана

Текст 2




Рис. 1 (а и б). Извержение вулкана Анак-Кракатау в Индонезии в 2018 г.

Вулкан Анак-Кракатау уже несколько месяцев извергает пепел и лаву. Исследователи изучили спутниковые снимки вулкана, чтобы определить, сколько камней и вулканического пепла попало в море при извержении. Они подсчитали, что за последнюю неделю вулкан потерял более двух третей своего объёма: 150–170 млн м³ исчезло, осталось 40–70 млн м³. Извержение вулкана вызвало в субботу цунами в Зондском проливе, заявили учёные.

Информационное сообщение. 17:32, сб, 29 декабря 2018 г.




Рис. 2 (а и б). Спутниковые снимки показывают изменения территории Анак-Кракатау (изображение: ЕРА)

Текст 3

В Индонезии началось извержение вулкана Анак-Кракатау

Известный вулкан Анак-Кракатау выбросил огромный столб пепла и дыма на высоту до 15 км, происходили излияния лавы. Последний раз вулкан извергался в 2018 г., и вот новое извержение. После того извержения территория его надводной части значительно уменьшилась.

В результате нынешнего извержения Анак-Кракатау возникла огромная волна – цунами. В прибрежных провинциях островов Суматра и Ява погибли не менее 400 человек, получили ранения более 1400 человек, около 16 000 человек лишились крова.

Информационное сообщение от 11 апреля 2020 г.

17

В текстах говорится о четырёх извержениях вулканов, в том числе подводном. Укажите последовательно годы, в которые они происходили, от самого раннего извержения до самого недавнего. Запишите годы в верной последовательности в поле для ответа.

Ответ:

			11 апреля 2020 год
год	год	год	

18 В тексте № 1 имеется противоречие в описании фактов об извержении вулкана Кракатау. Какое из утверждений верно описывает это противоречие? Запишите номер выбранного утверждения.

- 1) В тексте говорится, что извержение началось весной, а в таблице указано число – 20 мая.
- 2) В тексте не приводятся географические координаты вулкана Кракатау, а в таблице они указаны.
- 3) В тексте говорится, что извержение закончилось 26–27 августа 1883 г., а в таблице указано 21 октября 1883 г.
- 4) В тексте приводятся описания разрушений, вызванных извержением, в таблице эта информация отсутствует.

Ответ:

19 Какие приведённые ниже утверждения соответствуют информации, содержащейся в текстах №№ 1–3? Запишите номера всех выбранных утверждений.

- 1) В результате всех извержений вулканов, о которых идёт речь в текстах, возникали цунами.
- 2) Вулкан Анак-Кракатау появился на месте вулкана Кракатау.
- 3) Вулкан Анак-Кракатау является спящим вулканом.
- 4) В результате извержения территория вулкана Кракатау увеличилась в три раза.
- 5) Все извержения вулканов происходили на территории государства Индонезия.

Ответ: _____.

20 На рисунках 1(б) и 2(а, б) изображены три острова рядом с вулканом. Что говорится в текстах об образовании этих островов? Как они называются? Как называется вулкан, извержение которого показано на рисунках?

Ответ: _____

21 Укажите число, месяц и год появления вулкана Анак-Кракатау.

Ответ: _____.

22 В текстах встречаются географические термины, которые в курсе географии 5 класса используются нечасто, но значение которых при чтении текста вполне понятно.

Для каждого термина из первого столбца найдите верное толкование его значения из второго столбца.

ТЕРМИН	ТОЛКОВАНИЕ ТЕРМИНА
А) пролив	1) гигантские морские волны, вызванные подводным землетрясением или извержением вулкана
Б) цунами	2) большое волнение на море, вызванное сильным ветром
	3) искусственный канал, соединяющий два моря
	4) узкое водное пространство, разделяющее участки суши и соединяющее отдельные части Мирового океана

Запишите в таблицу выбранные цифры под соответствующими буквами.

Ответ:

А	Б

23 В текстах говорится о нескольких извержениях вулканов. Какая особенность строения земной коры в районе, о котором идёт речь, определяет частые извержения вулканов? Свой ответ запишите.

Ответ: _____

- 24 Используя информацию из текстов, дайте описание географического положения вулкана-острова Кракатау. Вставьте в текст из списка номера слов, соответствующие пропущенным словам.

Вулкан Кракатау находился в А) _____ проливе. Он имел географические координаты Б) _____ ю.ш. и В) _____ в.д. Вулкан-остров был частью территории государства Г) _____.

Список слов:

- 1) Зондский
- 2) Малаккский
- 3) 105°
- 4) 6°
- 5) Индонезия
- 6) Австралия

Запишите номера слов под соответствующими буквами.

	А	Б	В	Г
Ответ:				

Прочитайте тексты и выполните задания 25–32.

Текст 1

МОНГОЛЬСКИЙ ДЗЕРЕН – ГОРДОСТЬ ЗАБАЙКАЛЬЯ

Дзерен (монгольский дзерен), или зобастая антилопа – некрупная антилопа со стройными ногами и лировидно изогнутыми рогами у самцов, живущая в степи.



Второе название антилопа получила за то, что у самцов сильно развита гортань, которая делает низ шеи выпуклым. Подобно другим антилопам, этот вид животных отряда парнокопытных весь год держится большими стадами. На своих твёрдых копытах они каждый день пробегают большие расстояния в поисках новых пастбищ. В сухих степях мало воды, и антилопы могут подолгу не пить. Скорость движения и выносливость взрослых животных, при массе тела взрослого самца до 40 кг, невероятна. При виде опасности животное может скакать, делая 75–80 км в час, взлетая при 4–6-метровых прыжках до 2 м в высоту. Так антилопа может бежать час и более.

Когда-то в прошлом дзерены вольготно паслись на бескрайних степных просторах Центральной Азии. До появления человека у этих антилоп был только один враг – волк. Когда первые люди пришли в степь, они стали не только охотиться на дзеренов, но и осваивать степные экосистемы под пастбища для домашних животных. В результате антилоп становилось все меньше и меньше. В настоящее время они встречаются в степях и полупустынях Монголии, в Китае.

До конца 1930-х годов в нашей стране дзерены были многочисленны в Туве, но позже популяция резко сократилась. В настоящее время дзерен в России постоянно встречается лишь в Даурском заповеднике и его окрестностях на юге Забайкальского края.

С наступлением холодов дзерены собираются в большие стада и отправляются к зимним пастбищам. На малоснежных равнинах они могут найти достаточно сухой травы, чтобы прокормиться всю зиму. Дзерены привыкли кочевать на большие расстояния. Но переходя границу заповедника, антилопы часто становятся жертвой человеческой жадности и жестокости. В Китае этот вид почти исчез.

Не все люди понимают, что эти красивые животные – настоящая гордость Забайкалья, символ наших степей. Если люди не смогут их сохранить, забайкальские степи останутся навеки пустыми. Монгольский дзерен включён в Красную книгу РФ и Красную книгу региона.

Текст 2

КРАСНАЯ КНИГА РОССИЙСКОЙ ФЕДЕРАЦИИ

Красная книга РФ – аннотированный список редких и находящихся под угрозой исчезновения животных, растений и грибов.

В книге представлены следующие категории живых организмов.

«0» – вероятно исчезнувшие. Организмы, известные ранее на территории Российской Федерации, нахождение которых в природе не подтверждено (для беспозвоночных – в последние 100 лет, для позвоночных животных – в последние 50 лет).

«1» – находящиеся под угрозой исчезновения. Организмы, численность особей которых уменьшилась до критического уровня таким образом, что в ближайшее время они могут исчезнуть.

«2» – сокращающиеся в численности. Организмы с неуклонно сокращающейся численностью, которые при дальнейшем воздействии факторов, снижающих численность, могут в короткие сроки попасть в категорию находящихся под угрозой исчезновения.

«3» – редкие. Организмы, которые имеют малую численность и распространены на ограниченной территории или мелкими группами распространены на значительных территориях.

«4» – неопределённые по статусу. Организмы, которые, вероятно, относятся к одной из предыдущих категорий, но достаточных сведений об их состоянии в природе в настоящее время нет, либо они не в полной мере соответствуют критериям всех остальных категорий.

«5» – восстанавливаемые и восстанавливающиеся. Организмы, численность и распространение которых под воздействием естественных причин или в результате принятых мер охраны начали восстанавливаться и приближаются к состоянию, когда не будут нуждаться в срочных мерах по сохранению и восстановлению.

Текст 3

ПАМЯТНАЯ СЕРИЯ

Это уникальная серия памятных монет России. Она была начата Государственным Банком СССР в 1991 г. двумя недрагоценными биметаллическими монетами номиналом 5 рублей. Банк России продолжил чеканить монеты в рамках серии «Красная книга». С тех пор менялся не только номинал монет этой серии, но и металл, из которого они чеканились. В состав серии «Красная книга» входят недрагоценные монеты достоинством 10 и 50 рублей, а также более полусотни серебряных монет достоинством 1 и 2 рубля. К последним относится монета с изображением монгольского дзерена из серии «Красная книга», серебро, 1 рубль, 2006 г.

Текст 4

**ДАУРСКИЙ ГОСУДАРСТВЕННЫЙ ПРИРОДНЫЙ
БИОСФЕРНЫЙ ЗАПОВЕДНИК**



Заповедник в Юго-Восточном Забайкалье организован в основном для охраны птичьих гнездовий.

Состоит из нескольких изолированных озёрных и степных участков общей площадью 45 790 га. Климат резко континентальный, с холодной морозной, малоснежной зимой и жарким сухим летом с большим суточным перепадом температур. Продолжительность вегетационного периода 120–150 дней, вероятность заморозков сохраняется ещё в первой декаде июня, а заморозки на почве, связанные с осенним похолоданием, могут быть уже во второй половине августа.

В фауне заповедника 4 вида рыб, 3 вида амфибий (монгольская жаба, сибирская лягушка, дальневосточная квакша), 3 вида пресмыкающихся, более 315 видов птиц и 52 вида млекопитающих. Более 100 видов птиц внесены в красные книги различного ранга (даурский журавль, реликтовые чайки и др.). Из 52 видов зверей 4 внесены в Красную книгу России. Список млекопитающих включает даурского ежа, 4 вида землероек-бурозубок, 6 видов рукокрылых, даурскую пищуху, 2 вида зайцев, 22 вида грызунов, хищников семейств собачьих (4 вида), куньих (6 видов), кошачьих (2 вида), парнокопытных (4 вида). Территория заповедника – единственное место России, где размножается и постоянно обитает дзерен.



25 Используя содержание текста 1, запишите номер, под которым изображён монгольский дзерен.



Ответ:

26 Используя содержание текста 2, определите категорию живых организмов, к которой следует отнести монгольских дзеренов. Запишите номер верного ответа.

- 1) «1»
- 2) «2»
- 3) «3»
- 4) «0»

Ответ:

27 Какие из предложений соответствуют содержанию текста 1? Запишите номера выбранных утверждений.

- 1) В прошлые столетия ареал обитания животных простирался до степей Поволжья.
- 2) Дзерены не привыкли кочевать на большие расстояния.
- 3) При виде опасности животное может скакать со скоростью 75–80 км в час.
- 4) В начале XX в. дзеренов в России можно было встретить только на территории Даурского заповедника и в его окрестностях, а также на юге Забайкальского края.
- 5) Наибольшей опасности дзерены подвергаются на территории Китая.

Ответ: _____.

28 Используя содержание текста 4, ответьте на вопрос. Почему Даурский заповедник первоначально был организован для охраны птичьих гнездовий? Запишите номер верного ответа.

- 1) территория заповедника находится в удалении от мест проживания людей
- 2) климат на территории заповедника благоприятен для обитания большого числа птиц
- 3) на территории заповедника гнездятся птицы, занесённые в Красную книгу
- 4) территорию заповедника легко защитить от браконьеров

Ответ:

29 Используя содержание текста 4, определите верные характеристики классов. Для каждого слова из первого столбца подберите один соответствующий элемент из второго столбца, обозначенный цифрой.

КЛАСС	ХАРАКТЕРИСТИКИ
А) Млекопитающие	1) животные с голой кожей
Б) Амфибии	2) растения с длинным вегетационным периодом
	3) животные, покрытые перьями
	4) животные, покрытые шерстью или иголками

Запишите в таблицу выбранные цифры под соответствующими буквами.

Ответ:

А	Б

30 В тексте 1 говорится о среде обитания монгольских дзеренов. Используя три графы, составьте пищевую цепь, в которую входит дзерен.

Ответ:



31 При чтении текстов встречаются слова, которые употребляются в повседневной жизни. Из текстов можно определить их смысл (содержание). Для каждого слова из первого столбца найдите одно верное толкование его смысла в тексте из второго столбца, обозначенное буквой.

СЛОВО

ТОЛКОВАНИЕ СЛОВА

- | | |
|-------------------------|--|
| А) вид
Б) экосистема | 1) совокупность условий среды (влажность, температура), которые предпочитает животное
2) территория обитания организмов одного вида
3) совокупность живых организмов и факторов неживой природы на определённой территории
4) совокупность организмов, сходных по внешнему виду и процессам жизнедеятельности |
|-------------------------|--|

Запишите в таблицу выбранные цифры под соответствующими буквами.

А	Б

Ответ:

32 С какой целью государство выпустило монету с изображением дзерена? Используя содержание текста 2, решите, в каком случае можно будет говорить об успешности данной акции.

Ответ:

Ответы и критерии оценивания выполнения заданий

1	Ответ	
	13	
	Критерии оценивания выполнения задания	Баллы
	Указан верный ответ	1
	Другие ответы или ответ отсутствует	0

2	Ответ	
	3	
	Критерии оценивания выполнения задания	Баллы
	Указан верный ответ	1
	Другие ответы или ответ отсутствует	0

3	Ответ	
	3	
	Критерии оценивания выполнения задания	Баллы
	Указан верный ответ	1
	Другие ответы или ответ отсутствует	0

4	Ответ	
	1	
	Критерии оценивания выполнения задания	Баллы
	Указан верный ответ	1
	Другие ответы или ответ отсутствует	0

5	Ответ	
	432	
	Критерии оценивания выполнения задания	Баллы
	Указан верный ответ	1
	Другие ответы или ответ отсутствует	0

6	Возможный ответ	
	Возможные вопросы Что можно увидеть в резиденции Деда Мороза? Где расположена резиденция Деда Мороза? Сколько стоит детский входной билет в резиденцию Деда Мороза?	
	Критерии оценивания выполнения задания	Баллы
	Верно сформулированы три вопроса, которые отражают содержание текстов	2
	Верно сформулировано только два вопроса. ИЛИ Сформулировано три вопроса, но один из них не соответствует содержанию текстов (на него нельзя получить ответ из текстов) Другие ответы или ответ отсутствует	1 0

7	Возможный ответ	
	Выбран ответ «нет». Дети до 14 лет допускаются на территорию только в сопровождении взрослых	
	Критерии оценивания выполнения задания	Баллы
	Приведено верное объяснение в соответствии с выбранным ответом Другие ответы или ответ отсутствует	1 0

8	Ответ	
		
	Критерии оценивания выполнения задания	Баллы
	Указаны все элементы верного ответа Другие ответы или ответ отсутствует	1 0

9	Критерии оценивания выполнения задания	
	Написан текст открытки, нет ошибок в оформлении адреса	2
	Написан текст открытки, допущены одна-две ошибки в оформлении адреса	1
	Не написан текст открытки, И/ИЛИ допущено три и более ошибки в оформлении адреса	0

10	Ответ	
	Ретиарии; рыбаки	
	Критерии оценивания выполнения задания	Баллы
	Название гладиатора определено правильно Название гладиатора определено неправильно / не определено	1 0

11	Возможный ответ	
	Смысл понятия: рабы, которых для развлечения публики заставляли с оружием в руках сражаться друг против друга на аренах цирков. Смысл понятия может быть приведён в иной, близкой по смыслу формулировке	
	Критерии оценивания выполнения задания	Баллы
	Правильно раскрыт смысл понятия Смысл понятия раскрыт неправильно / не раскрыт	1 0

12	Ответ	
	Македония	
	Критерии оценивания выполнения задания	Баллы
	Указан правильный ответ Ответ неправильный / не указан	1 0

13	Возможный ответ	
	Мятежные рабы жестоко мстили свободным людям за свои былые унижения, но даже и не думали отменять рабовладельческие порядки. Правильный ответ может быть указан в другой, близкой по смыслу формулировке	
	Критерии оценивания выполнения задания	Баллы
	Указан верный ответ Другие ответы или ответ отсутствует	1 0

14	Ответ	
	Б	
	Критерии оценивания выполнения задания	Баллы
	Указан правильный ответ Ответ неправильный / не указан	1 0

15	Ответ	
	3	
	Критерии оценивания выполнения задания	Баллы
	Правильно указан порядковый номер текста	1
Порядковый номер текста указан неправильно / не указан		0

16	Ответ	
	3	
	Критерии оценивания выполнения задания	Баллы
	Указан правильный ответ	1
Ответ неправильный / не указан		0

17	Ответ	
	1883; 1927; 2018; 2020	
	Критерии оценивания выполнения задания	Баллы
	Указан верный ответ	1
	Другие ответы или ответ отсутствует	0

18	Ответ	
	3	
	Критерии оценивания выполнения задания	Баллы
	Указан верный ответ	1
	Другие ответы или ответ отсутствует	0

19	Ответ	
	1, 2, 5	
	Критерии оценивания выполнения задания	Баллы
	Указаны все три элемента верного ответа	2
	Указаны все три элемента верного ответа и дополнительно приведено не более одного неверного элемента. ИЛИ Допущена одна ошибка в указании элементов ответа	1
	Другие ответы или ответ отсутствует	0

20	Возможный ответ		
	В ответе присутствуют следующие элементы верного ответа: 1) острова – части вулкана Кракатау, сохранившиеся после его извержения; 2) острова называются Раката, Сергун, Раката-Кечил; 3) извергается вулкан Анак-Кракатау		
	Критерии оценивания выполнения задания	Баллы	
	В ответе присутствуют все три указанных элемента	2	
	В ответе присутствуют два любых указанных элемента	1	
	Другие ответы или ответ отсутствует		0

21	Ответ	
	29 декабря 1927 г.	
	Критерии оценивания выполнения задания	Баллы
	Указан верный ответ	1
Другие ответы или ответ отсутствует		0

22	Ответ	
	4, 1	
	Критерии оценивания выполнения задания	Баллы
	Указаны все элементы верного ответа	2
	Указан один элемент верного ответа и приведено не более одного неверного элемента. ИЛИ Указан один элемент верного ответа и никакой другой ответ не назван	1
Другие ответы или ответ отсутствует		0

23	Возможный ответ	
	Частые извержения вулканов объясняются наличием разломов в земной коре ИЛИ положением территории в зоне взаимодействия литосферных плит	
	Критерии оценивания выполнения задания	Баллы
	Приведено одно из возможных объяснений	2
	В ответе говорится, что территория расположена в сейсмическом поясе	1
	Другие ответы или ответ отсутствует	

24	Ответ	
	1, 4, 3, 5	
	Критерии оценивания выполнения задания	Баллы
	Указаны все элементы верного ответа	2
	Верно указано три элемента верного ответа, допущена одна ошибка. ИЛИ Верно указано три элемента верного ответа, один элемент не назван	1
	Другие ответы или ответ отсутствует	

25	Ответ	
	1	
	Критерии оценивания выполнения задания	Баллы
	Указан верный ответ	1
Другие ответы или ответ отсутствует		0

26	Ответ	
	3	
	Критерии оценивания выполнения задания	Баллы
	Указан верный ответ	1
Другие ответы или ответ отсутствует		0

27	Ответ	
	3,5	
	Критерии оценивания выполнения задания	Баллы
	Указаны оба элемента ответа, и другие элементы не приведены	2
	Указаны оба элемента верного ответа, и дополнительно приведено не более одного неверного элемента. ИЛИ Допущена одна ошибка в указании элементов ответа	1
	Другие ответы или ответ отсутствует	0

28	Ответ	
	3	
	Критерии оценивания выполнения задания	Баллы
	Указан верный ответ	1
	Другие ответы или ответ отсутствует	0

29	Ответ	
	4, 1	
	Критерии оценивания выполнения задания	Баллы
	Указаны оба элемента ответа	1
	Другие ответы или ответ отсутствует	0

30	Ответ	
	Ответ может содержать следующие объекты: трава ⇒ дзюрен ⇒ волк	
	Критерии оценивания выполнения задания	Баллы
	В правильном порядке указано не менее трёх объектов	1
	Другие ответы или ответ отсутствует	0

31	Ответ	
	4, 3	
	Критерии оценивания выполнения задания	Баллы
	Указаны оба элемента ответа	2
	Допущена одна ошибка. ИЛИ Указан лишь один элемент верного ответа	1
Другие ответы или ответ отсутствует		0

32	Возможный ответ		
	1) Привлечь внимание общественности к сохранению исчезающего вида. 2) Когда исчезающий вид попадёт в категорию 5 Красной книги Российской Федерации (увеличение численности дзерена). ИЛИ 1) Для сбора денег от продажи монеты для поддержания заповедника. 2) При улучшении состояния заповедника / увеличении численности особей редких видов		
	Критерии оценивания выполнения задания	Баллы	
	Приведено два верных элемента ответа	2	
	Приведен только один верный элемент ответа	1	
	Другие ответы или ответ отсутствует		0