

4 Расположите перечисленные части Мирового океана с запада на восток в том порядке, в котором они располагаются на карте мира, начиная с самого западного.

- 1) Гибралтарский пролив
- 2) Мексиканский залив
- 3) Персидский залив

Запишите в таблицу получившуюся последовательность цифр.

Ответ:

--	--	--

5 Прочитайте приведённый ниже текст, в котором пропущен ряд слов (словосочетаний). Выберите из предлагаемого списка слова (словосочетания), которые необходимо вставить на место пропусков.

ГЕОГРАФИЧЕСКИЕ ОСОБЕННОСТИ ФРАНЦИИ

Франция относится к числу высокоразвитых стран Западной Европы. Она обладает высокоразвитой современной промышленностью, главная роль в которой принадлежит _____ (А). Большая часть электроэнергии в стране производится на _____ (Б). Франция является одним из крупнейших производителей сельскохозяйственной продукции в Зарубежной Европе. Как и в большинстве экономически развитых стран, более половины объема продукции сельского хозяйства приходится на _____ (В).

Выбирайте последовательно одно слово (словосочетание) за другим, вставляя на места пропуска слова (словосочетания) из списка в нужной форме. Обратите внимание на то, что слов (словосочетаний) в списке больше, чем Вам потребуется для заполнения пропусков. Каждое слово (словосочетание) может быть использовано только **один** раз.

Список слов (словосочетаний):

- | | |
|--------------------|-------------------|
| 1) ГЭС | 4) машиностроение |
| 2) АЭС | 5) металлургия |
| 3) растениеводство | 6) животноводство |

В данной ниже таблице приведены буквы, обозначающие пропущенные слова (словосочетания). Запишите в таблицу под каждой буквой номер выбранного Вами слова (словосочетания).

Ответ:

А	Б	В

6 Какие три из перечисленных стран имеют наибольшую среднюю плотность населения? Запишите цифры, под которыми указаны эти страны.

- 1) Индонезия
- 2) Россия
- 3) Бангладеш
- 4) Франция
- 5) Канада
- 6) Монголия

Ответ:

--	--	--

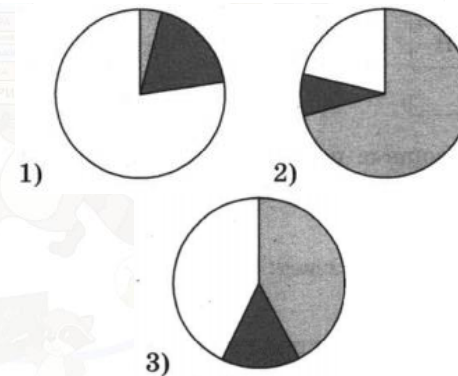
7 Установите соответствие между страной и диаграммой, отражающей распределение её экономически активного населения по секторам экономики: к каждой позиции, данной в первом столбце, подберите соответствующую позицию из второго столбца.

СТРАНА

РАСПРЕДЕЛЕНИЕ ЭКОНОМИЧЕСКИ АКТИВНОГО НАСЕЛЕНИЯ

■ – промышленность ■ – сельское хозяйство □ – сфера услуг

- А. Швеция
- Б. Таиланд
- В. Эфиопия



Запишите в таблицу выбранные цифры под соответствующими буквами.

Ответ:

А	Б	В





8 Что из перечисленного является примерами нерационального природопользования? Запишите все цифры, под которыми они указаны.

- 1) использование отходов пищевой промышленности для получения биотоплива
- 2) очистка полей от валунов
- 3) проведение лесозаготовительных работ по берегам рек
- 4) осушение болот в верховьях рек
- 5) облесение склонов и оврагов

Ответ: _____.

9 Какие три города России, которые являются крупными центрами производства металлического алюминия. Запишите в таблицу цифры, под которыми указаны эти города.

- 1) Ижевск
- 2) Надвоицы
- 3) Норильск
- 4) Шелехов
- 5) Саяногорск
- 6) Орск

Ответ:

--	--	--

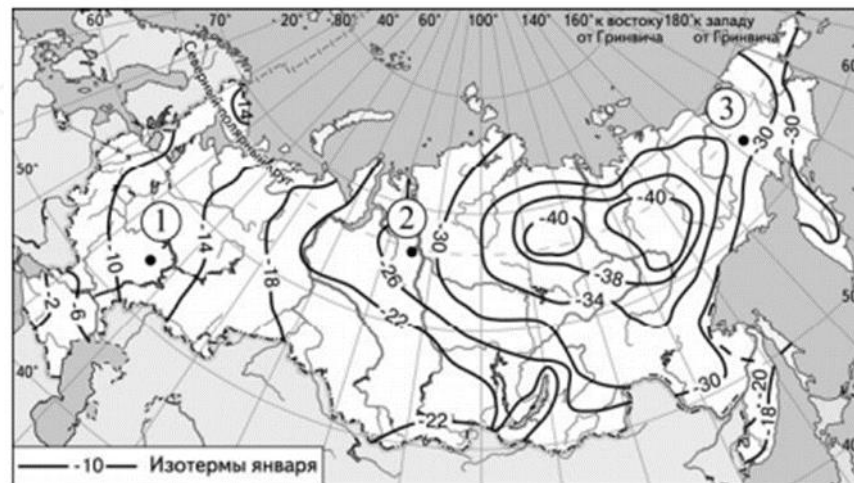
10 На основе анализа данных приведённой ниже таблицы укажите регионы, в которых в период с 2011 по 2013 г. ежегодно происходило увеличение объёмов производства. Запишите **цифры**, под которыми они указаны.

Динамика объёмов производства продукции животноводства
(в % к предыдущему году)

		2011 г.	2012 г.	2013 г.
1	Рязанская область	100,8	105,7	102,0
2	Ненецкий АО	89,3	96,5	105,9
3	Вологодская область	101,3	102,5	103,7
4	Новгородская область	104,4	105,4	112,9

Ответ: _____.

11 С помощью карты сравните значения многолетних максимумов температуры воздуха в точках, обозначенных на карте цифрами 1, 2, 3. Расположите эти точки в порядке повышения этих значений.



Запишите получившуюся последовательность цифр без пробелов.

Ответ:

--	--	--

12 В каких из высказываний содержится информация о миграциях населения? Запишите все цифры, под которыми они указаны.

- 1) В 2012 г. среднегодовая численность занятых в экономике РФ составляла 67 969 тыс. человек, что на 242 тыс. человек больше, чем в 2011 г.
- 2) В 2012 г. впервые за последние 20 лет в РФ показатель естественного прироста населения (на 1 тыс. жителей) повысился с отрицательных значений до нуля.
- 3) В 2013 г. в РФ средняя ожидаемая продолжительность жизни населения при рождении составляла 70,7 года.
- 4) В 2015 г. в России число родившихся превысило число умерших на 32 038 человек.
- 5) С 2011 по 2015 г. число женщин, приходящихся на 1000 мужчин, в половой структуре населения России несколько уменьшилось.

Ответ: _____.

13 Расположите события в геологической истории Земли в хронологическом порядке, начиная с самого раннего.

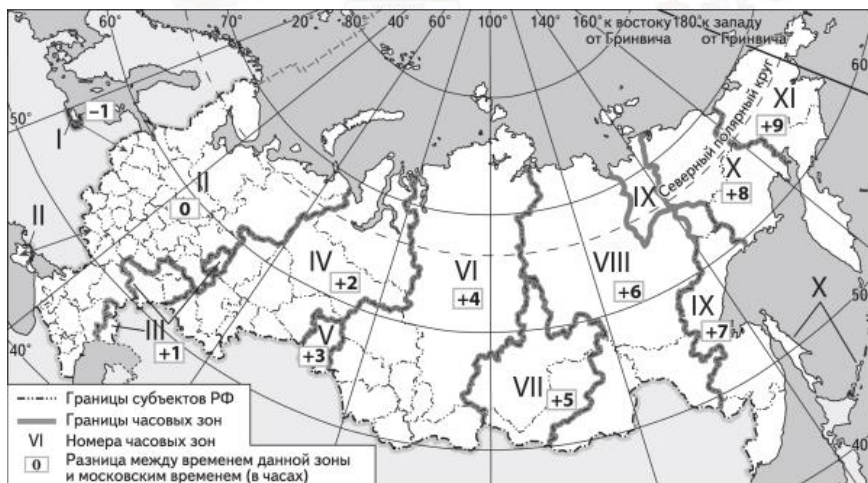
- 1) На территории Европы начало неогена сопровождалось резким обновлением наземной фауны.
- 2) На протяжении силурийского периода часть территории континентальных платформ была занята мелководными морскими бассейнами.
- 3) Особенно в каменноугольный период поражают гигантские стрекозоподобные с размахом крыльев до 2 метров и таракановые длиной до 3 сантиметров.

Запишите в таблицу получившуюся последовательность цифр.

Ответ:

--	--	--

14 Самолет вылетел из Петропавловска-Камчатского (IX часовая зона) в Новосибирск (IV часовая зона) в 17 часов по местному времени Петропавловска-Камчатского. Расчётное время полёта составляет 6 часов. Сколько времени будет в Новосибирске, когда самолёт приземлится? Ответ запишите цифрами.



Ответ запишите в виде числа.

Ответ: _____ ч.

15 На сегодняшний день среди основных видов потребляемого в мире топлива примерно 25% приходится на уголь. Уголь по-прежнему является одним из основных видов топлива во многих странах мира. Учащиеся нашли в интернете информацию о том, что величина разведанных запасов угля в Польше в 2018 г. составляла 26 352 миллионов тонн, при этом показатель ресурсобеспеченности на этот год составлял 216 лет.

Определите, какова была величина добычи угля в Польше в 2018 г.

Ответ: _____ млн. т.

16 На численность населения субъектов Российской Федерации заметное влияние оказывают как естественное движение населения, так и миграции. Проанализировав данные таблицы, определите величину миграционного прироста (убыли) населения Томской области в 2013 г. Запишите решение задачи.

Показатель	2013г.	2014г.	2015г.
Численность постоянного населения на 1 января, человек	1 064 245	1 070 128	1 074 453
Среднегодовая численность населения, человек	1 060 174	1 063 255	1 065 188
Естественный прирост населения, человек, значение показателя за год	2 128	2 033	1 934

Ответ: _____ чел.

17 Определите страну по её краткому описанию.

Равнинная страна, не имеющая выхода к морю, расположена на крайнем западе степной зоны Евразии. Специализируется на производстве пшеницы, кукурузы, виноградарстве и садоводстве. Столицу разделяет на две части крупнейшая река. Страна в основном экспортирует продукцию машиностроения и другие промышленные товары. Население страны отнесено к финно-угорским народам.

Ответ: _____.



18

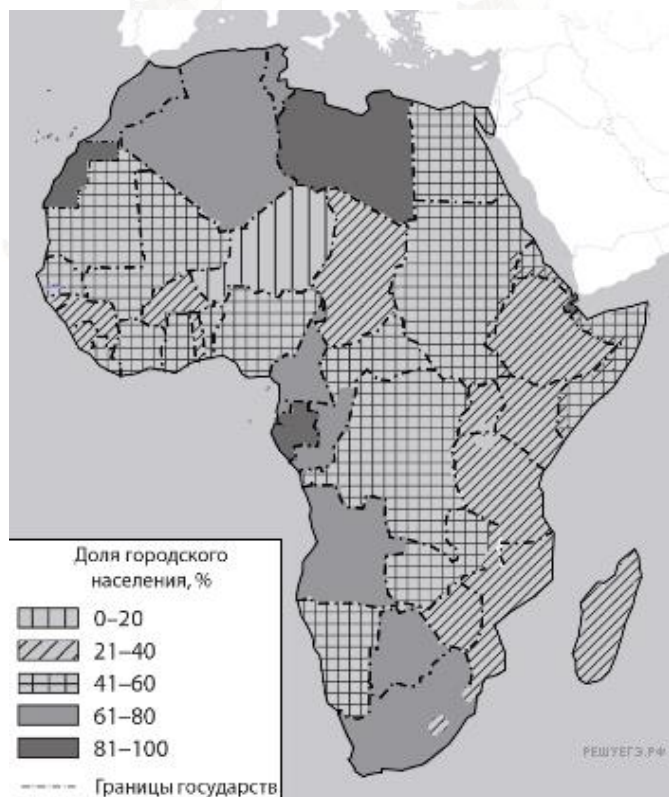
Определите регион России по его краткому описанию.

Эта область граничит с двумя республиками в составе РФ. Второй по численности город области, не являясь городом-миллионером, образует с многочисленными близлежащими городами и другими населёнными пунктами агломерацию численностью более 1,3 млн человек. Более 90% населения составляют русские. Из малочисленных народов в области проживают шорцы и телеуты. Отрасли специализации промышленности области: угольная промышленность, чёрная и цветная металлургия.

Ответ: _____ область.

Задания 19 и 20 выполняются с использованием приведённой ниже карты и справочных материалов.

Африка. Доля городского населения



19

Расположите перечисленные страны в порядке возрастания в них доли городского населения в общей численности населения, начиная со страны с наименьшим значением этого показателя.

- 1) ЮАР
- 2) Нигерия
- 3) Чад

Запишите в таблицу получившуюся последовательность цифр.

Ответ:

--	--	--

20

Сергею необходимо построить картограмму «Евразия. Доля городского населения», используя такую же интервальную шкалу, как на приведённой выше карте Африки.

Установите соответствие между страной и условным обозначением, которое необходимо использовать для отображения доли городского населения каждой из перечисленных стран на карте: к каждой позиции, данной в первом столбце, подберите соответствующую позицию из второго столбца.

СТРАНА	УСЛОВНОЕ ОБОЗНАЧЕНИЕ
А) Турция	1) 0–20
Б) Пакистан	2) 21–40
В) Афганистан	3) 41–60
	4) 61–80
	5) 81–100

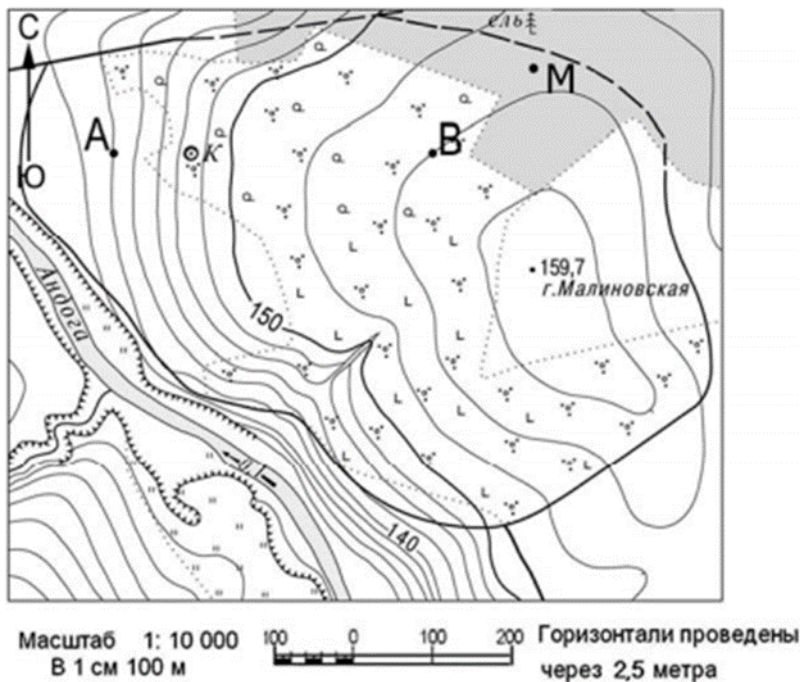
Запишите в таблицу получившуюся последовательность цифр.

Ответ:

А	Б	В



Задания 21 и 22 выполняются с использованием приведённого ниже фрагмента топографической карты.



21 Определите азимут от точки В на точку М. Ответ запишите цифрами.

Ответ: _____ град.

22 В бланке ответов № 2 укажите номер задания и постройте профиль рельефа местности по линии А – В. Для этого перенесите основу для построения профиля на бланк ответов, используя горизонтальный масштаб – в 1 см 50 м и вертикальный масштаб – в 1 см 10 м. Укажите на профиле знаком «Х» положение колодца.

Задания 23–25 выполняются с использованием приведённого ниже текста. Ответ на задание 23 запишите в поле ответа в тексте работы, а затем перенесите в БЛАНК ОТВЕТОВ № 1. Для записи ответов на задания 24 и 25 используйте БЛАНК ОТВЕТОВ № 2. Запишите сначала номер задания (24 или 25), а затем развёрнутый ответ на него. Ответы записывайте чётко и разборчиво.

СЕЛЕНГА

Монголия намерена построить в бассейне реки Селенга несколько ГЭС: «Шурэн» (мощность 245 МВт) на самой Селенге, а также «Эгийн-гол» (315 МВт) и «Орхон» (100 МВт) на реке Орхон, позже — «Чаргайт» (25 МВт) на реке Дэлгер-Мурен, которая, сливаясь с рекой Идэр, образует Селенгу. Планируется, что годовая выработка электроэнергии на этих сооружениях составит от 117 млн кВт·ч до 870 млн кВт·ч. Также в Монголии разрабатывается проект «Орхон-Гоби», который предусматривает переброску воды реки по системе трубопроводов в пустыню Гоби для нужд горнодобывающей промышленности.

Прошли общественные слушания, на которых обсуждались эти проекты. При обсуждении представители России заявили, что осуществление проектов может негативно повлиять на водоснабжение населённых пунктов в районе Байкала, вызвать изменение экосистемы Байкала, привести к понижению уровня воды в уникальном озере. Также были высказаны опасения, что изменение режима реки может привести к деградации почв и растительности в пойме Селенги. После слушаний специалисты Монголии заявили, что тщательным образом оценят возможные последствия строительства ГЭС для окружающей среды и представят новый вариант проекта в 2019 г.

23 По территории какого субъекта Российской Федерации протекает река Селенга?

Ответ: _____.

24 Какое влияние на режим реки Селенга может оказать создание ГЭС и водохранилищ, о которых говорится в тексте?

25 Объясните, почему осуществление проектов, о которых говорится в тексте, может вызвать понижение уровня воды в озере Байкал.



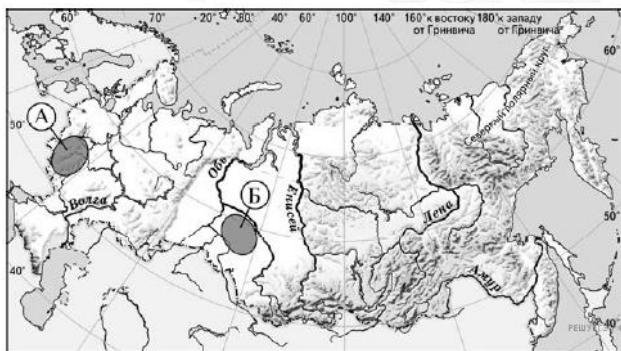
Для записи ответов на задания 26–31 используйте БЛАНК ОТВЕТОВ № 2. Запишите сначала номер задания (26, 27 и т.д.), а затем развёрнутый ответ на него. Ответы записывайте чётко и разборчиво.

26 На основе анализа данных таблицы справочных материалов предположите, какая из стран: Колумбия или Нигер – находилась в 2017 г. выше в рейтинге ООН по индексу человеческого развития (ИЧР). Для обоснования Вашего ответа запишите необходимые числовые данные из таблицы и вычисления, на основании которых Вы сделали своё предположение.

27 Используя данные справочных материалов, сравните доли населения, занятого в сельском хозяйстве, и доли сельского хозяйства в общих объёмах экспорта Парагвая и Туниса. Сделайте вывод о том, в какой из этих стран сельское хозяйство играет большую роль в экономике. Для обоснования Вашего ответа запишите необходимые числовые данные и вычисления.

28 Какие особенности ЭГП Нижегородской области способствуют развитию в ней автомобилестроения? Укажите две особенности. Если Вы укажете более двух особенностей, оцениваться будут только две, указанные первыми.

29 Определите, на какой из территорий, обозначенных буквами на карте, наиболее вероятно развитие водной эрозии почв. Для обоснования Вашего ответа приведите два довода. Если Вы приведёте более двух доводов, оцениваться будут только два, указанных первыми.



30 Определите географическую долготу точки, если известно, что в полночь по солнечному времени Гринвичского меридиана местное солнечное время в ней 1 час 20 минут. Запишите решение задачи.

31 Глобальные климатические изменения на территории России проявляются очень заметно. Среднегодовая температура воздуха на территории нашей страны растёт в среднем на 0,43 °С за десятилетие. При этом наиболее интенсивные изменения наблюдаются в Российской Зоне Севера, где потеплело на 0,6 °С. Происходящие и ожидаемые изменения климата оказывают существенное воздействие на социально-экономическое развитие Российской Зоны Севера, жизнь и здоровье населения этой зоны. Существуют разные оценки последствий происходящих изменений климата. Одни специалисты считают, что последствия для Российской Зоны Севера будут положительными, другие говорят о возможных отрицательных последствиях. Выберите одну из упомянутых выше точек зрения и приведите два любых довода, подтверждающие её.

Проверьте, чтобы каждый ответ на бланках ответов №1 и №2 был записан рядом с правильным номером задания.

О проекте «Пробный ЕГЭ каждую неделю»

Данный ким составлен командой всероссийского волонтерского проекта «ЕГЭ 100баллов» <https://vk.com/ege100ballov> и безвозмездно распространяется для любых некоммерческих образовательных целей.

Нашли ошибку в варианте?

Напишите нам, пожалуйста, и мы обязательно её исправим!

Для замечаний и пожеланий: https://vk.com/topic-10175642_47937899
(также доступны другие варианты для скачивания)

СОСТАВИТЕЛЬ ВАРИАНТА:

ФИО:	Домненко Анна Евгеньевна
Предмет:	География
Аккаунт ВК:	https://vk.com/anuta_dom



Основные демографические показатели некоторых стран Южной Америки и Африки в 2017 г.

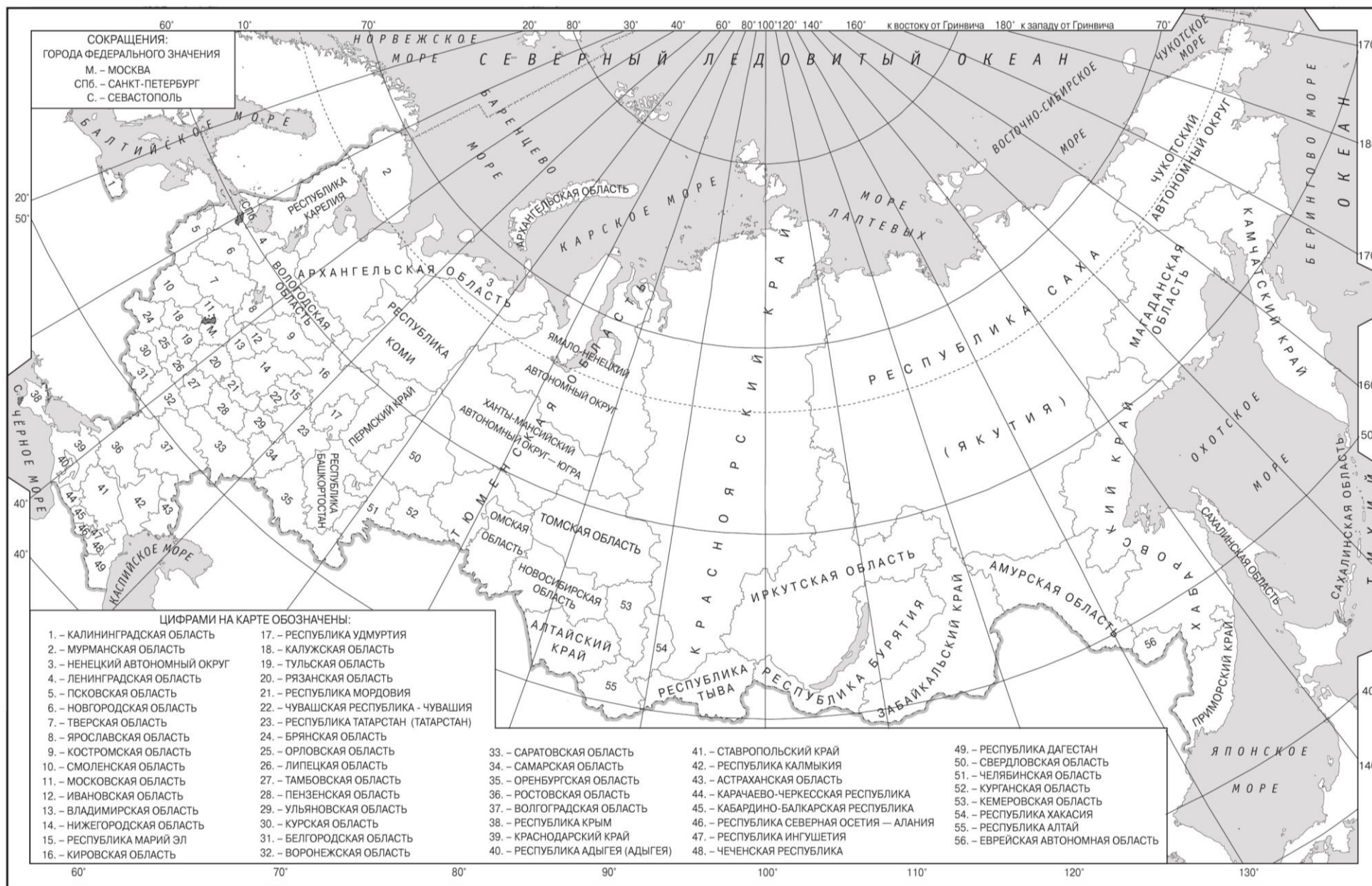
Страна	Численность населения, млн человек	Рождаемость, ‰	Смертность, ‰	Плотность населения, человек на км ²	Доля городского населения, %	Ожидаемая продолжительность жизни, лет	Доля лиц в возрасте младше 15 лет, %	Доля лиц в возрасте старше 65 лет, %
Аргентина	42,7	16	6	16	91	77	25	12
Боливия	11,3	23	7	11	70	69	32	7
Бразилия	207,9	14	6	25	86	75	23	8
Венесуэла	31,4	19	5	36	88	75	28	7
Гвиана (Фр)	0,3	21	8	4	85	78	33	5
Колумбия	49,8	15	6	45	76	76	26	8
Парагвай	6,9	21	6	18	60	73	30	6
Перу	32,2	19	6	26	79	75	27	7
Уругвай	3,5	14	9	20	95	77	21	15
Чили	18,6	14	6	25	87	80	21	11
Эквадор	17,0	20	5	69	65	76	29	7
Алжир	42,7	26	4	18	73	77	29	6
Ангола	30,4	45	10	25	45	60	48	2
Египет	97,0	27	6	101	43	72	33	4
Кения	51,0	31	6	92	27	67	41	3
Ливия	6,4	20	5	4	79	72	29	4
Мали	19,4	45	10	16	42	60	47	2
Марокко	35,1	19	5	81	79	75	25	6
Нигер	22,2	48	10	18	16	60	50	3
Судан	40,6	34	8	23	36	64	41	4
Танзания	57,5	39	7	69	34	65	45	3
Тунис	11,6	19	6	76	68	76	24	8
Уганда	44,1	41	9	229	24	63	48	3
Чад	14,9	45	13	13	23	53	47	2
Эфиопия	105,0	33	7	110	20	65	41	4

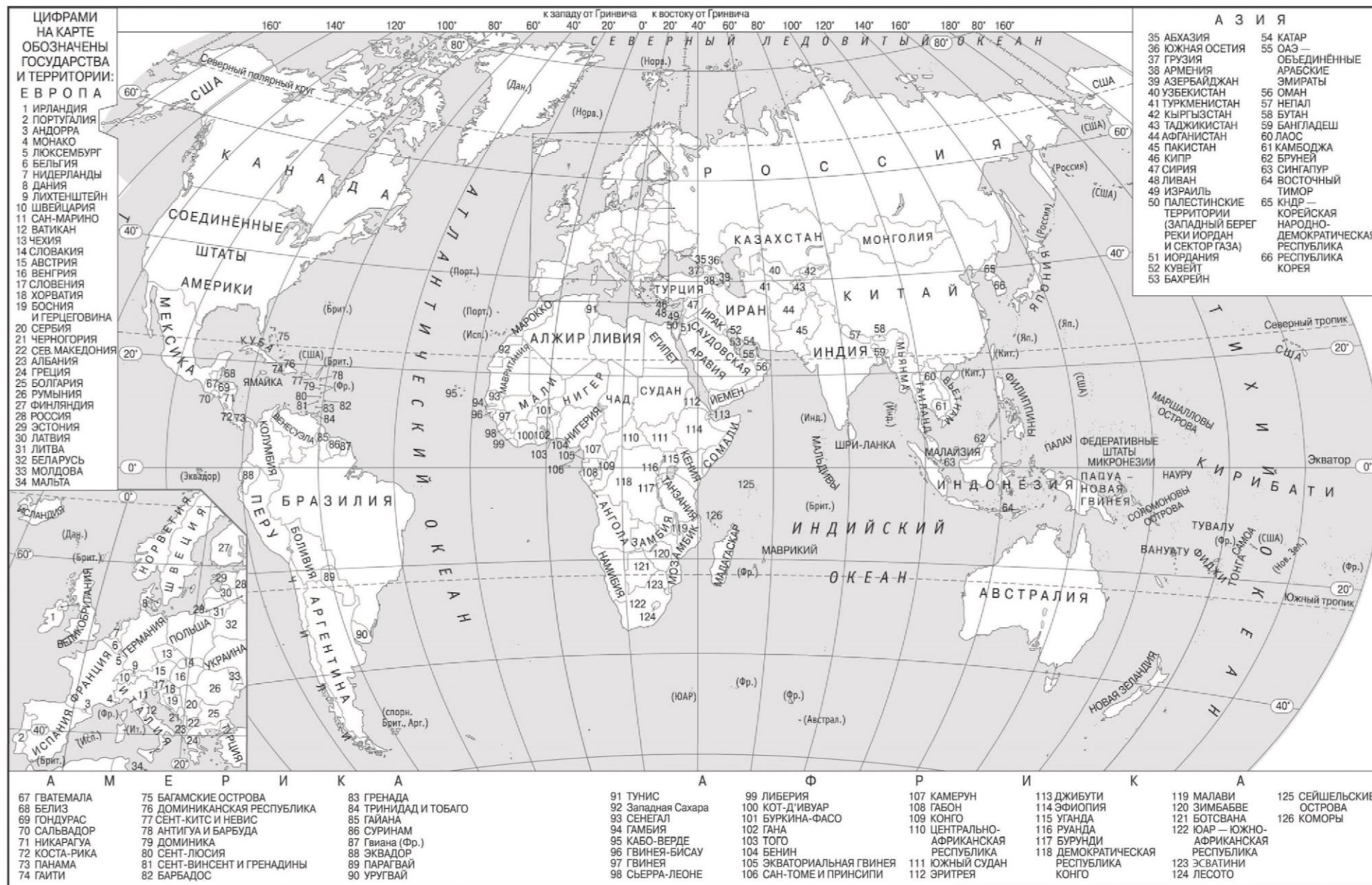


Показатели социально-экономического развития некоторых стран Южной Америки и Африки в 2017 г.

Страна	Объём ВВП, млрд долл.	Структура ВВП, %			Структура занятости населения, %			Объём экспорта, млрд долл.	Объём сельско- хозяйственного экспорта, млрд долл.
		Сфера услуг	Промыш- ленность	Сельское хозяйство	Сфера услуг	Промыш- ленность	Сельское хозяйство		
Аргентина	922,1	61,1	28,1	10,8	66	29	5	58,43	37,4
Боливия	85,8	48,2	37,8	13,8	49	22	29	7,7	1,6
Бразилия	3243,2	72,7	20,7	6,6	59	32	9	217,7	90,4
Венесуэла	452,7	54,9	40,4	4,7	70	22	8	31,6	0,03
Колумбия	711,6	62,1	30,8	7,2	62	21	17	37,8	8,3
Парагвай	69,7	54,5	27,7	17,9	55	19	26	8,6	5,5
Перу	420,2	59,9	32,7	7,4	57	18	25	44,9	9,6
Суринам	8,6	57,3	31,1	11,6	69	19	12	2,1	0,15
Уругвай	76,5	69,7	24,1	6,2	73	14	13	7,8	6,06
Чили	453,8	63,0	32,2	4,2	67	24	9	68,3	23,0
Эквадор	193,8	60,1	32,9	7,0	55	18	27	19,1	11,0
Алжир	642,6	47,4	39,3	13,3	59	31	10	34,9	0,42
Ангола	193,6	32,2	57,6	10,2	34	15	49	33,1	0,03
Египет	1204,0	54,0	34,3	11,7	50	26	24	25,6	4,9
Кения	163,2	47,5	18,0	34,5	42	20	38	5,7	3,2
Мали	41,9	40,5	17,7	41,8	11	28	61	2,8	0,6
Марокко	291,3	56,5	29,5	14,0	43	20	37	25,3	5,5
Ливия	31,3	46,2	52,8	1,0	59	24	17	15,6	0,1
Нигер	21,9	39,0	19,5	41,5	20	5	75	1,2	0,4
Судан	177,8	57,8	2,6	39,6	41	7	52	3,0	2,0
Танзания	166,7	47,6	29,0	23,4	50	28	22	4,5	1,7
Тунис	133,3	63,7	26,2	10,1	52	34	14	14,2	1,6
Уганда	89,1	50,7	21,1	28,2	23	7	70	2,8	1,4
Чад	28,6	33,4	14,2	52,4	9	4	87	1,2	0,05
Эфиопия	198,5	43,6	21,6	34,8	22	9	69	3,2	1,3







Система оценивания экзаменационной работы по географии

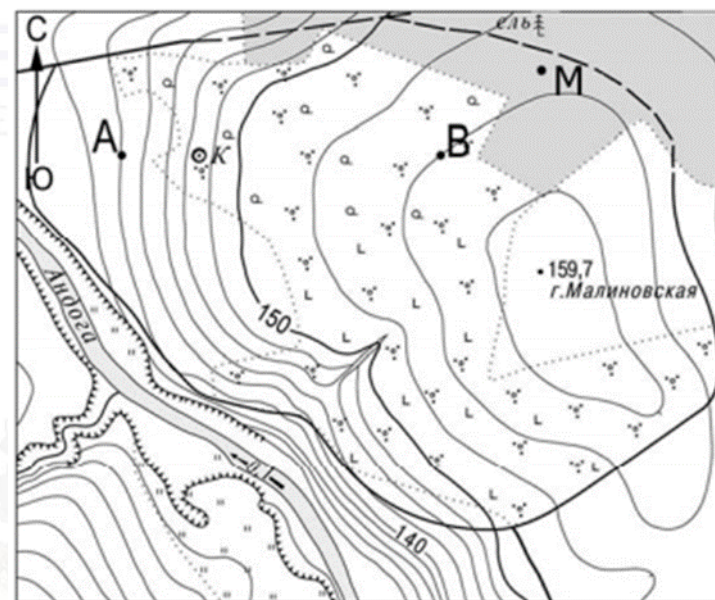
Часть 1

Правильные ответы на задания 1–4, 6, 7, 9–11, 13–21, 23 оцениваются 1 баллом. Задание считается выполненным верно, если ответ записан в той форме, которая указана в инструкции по выполнению задания.

Правильное выполнение заданий 5, 8 и 12 оценивается 2 баллами. Ответы на эти задания оцениваются следующим образом: полное правильное выполнение задания – 2 балла; выполнение задания с одной ошибкой (одной неверно указанной, в том числе лишней, цифрой наряду со всеми верными цифрами) ИЛИ неполное выполнение задания (отсутствие одной необходимой цифры) – 1 балл; неверное выполнение задания (при указании двух или более ошибочных цифр) – 0 баллов.

Номер задания	Правильный ответ
1	Чад
2	231
3	312
4	213
5	426
6	134
7	132
8	34
9	245
10	134
11	321
12	24
13	231
14	18
15	122
16	3755
17	Венгрия
18	Кемеровская
19	321
20	432
21	47;48;49;50;51
23	Республика Бурятия

Критерии оценивания заданий с развёрнутым ответом



Масштаб 1: 10 000
В 1 см 100 м
Горизонтали проведены через 2,5 метра



- 22 В бланке ответов № 2 укажите номер задания и постройте профиль рельефа местности по линии А – В. Для этого перенесите основу для построения профиля на бланк ответов, используя горизонтальный масштаб – в 1 см 50 м и вертикальный масштаб – в 1 см 10 м. Укажите на профиле знаком «Х» положение колодца.

Содержание верного ответа и указания по оцениванию (допускаются иные формулировки ответа, не искажающие его смысла)		Баллы
1) На рисунке в ответе длина горизонтальной линии основы профиля равна 80 ± 2 мм и расстояние от левой вертикальной линии основы профиля до колодца - 20 ± 2 мм; 2) форма профиля соответствует эталону 3) участок 1 более крутой, чем участок 3.		
К1	Умение пользоваться масштабом	
	Ответ включает в себя 1-й и 2-й элементы	2
	Ответ включает в себя только 1-й элемент	1
Все ответы, которые не соответствуют вышеуказанным критериям выставления оценок в 1 и 2 балла		0
К2	Умение строить профиль рельефа	
	Ответ включает в себя 3-й элемент	1
	Все ответы, которые не соответствуют вышеуказанному критерию выставления оценки в 1 балл	0
<i>Максимальный балл: 3</i>		

* Примечание. Форма профиля считается совпадающей с эталоном, если она соответствует всем следующим четырём условиям: 1) участки со спусками (подъёмами) соответствуют участкам со спусками (подъёмами) на эталоне; 2) профиль не выходит за пределы высот, существующих в пределах участка территории, на которой проходит профиль; 3) на профиле присутствуют все точки с высотами, которые должны быть на нём согласно данным карты; 4) расстояния от левой вертикальной оси профиля до точек с высотами, обозначенными на основе профиля, отличаются от соответствующих расстояний на эталоне не более чем на 4 мм.

- 24 Какое влияние на режим реки Селенга может оказать создание ГЭС и водохранилищ, о которых говорится в тексте?

Содержание верного ответа и указания по оцениванию (допускаются иные формулировки ответа, не искажающие его смысла)	Баллы
Не будет половодий (разливов; перестанет повышаться уровень воды в реке)	
Ответ включает в себя названный выше элемент	1
Все ответы, которые не соответствуют вышеуказанному критерию выставления оценки в 1 балл	0
<i>Максимальный балл: 1</i>	

- 25 Объясните, почему осуществление проектов, о которых говорится в тексте, может вызвать понижение уровня воды в озере Байкал.

Содержание верного ответа и указания по оцениванию (допускаются иные формулировки ответа, не искажающие его смысла)	Баллы
Строительство ГЭС на реке Селенга и сооружение плотин в ее нижнем течении приведет к снижению уровня воды в ней, разливов воды в период половодья не будет. Река Селенга несет свои воды в озеро Байкал. Если уровень воды в реке снизится, то и в озере Байкал тоже произойдет понижение уровня воды.	
Ответ включает в себя названный выше элемент	1
Все ответы, которые не соответствуют вышеуказанному критерию выставления оценки в 1 балл	0
<i>Максимальный балл: 1</i>	

- 26 На основе анализа данных таблицы справочных материалов предположите, какая из стран: Колумбия или Нигер – находилась в 2017 г. выше в рейтинге ООН по индексу человеческого развития (ИЧР). Для обоснования Вашего ответа запишите необходимые числовые данные из таблицы и вычисления, на основании которых Вы сделали своё предположение.

Содержание верного ответа и указания по оцениванию (допускаются иные формулировки ответа, не искажающие его смысла)	Баллы
1) В ответе делается предположение, что выше в рейтинге ООН по ИЧР находился Колумбии. В обосновании говорится, что: 2) в Колумбии более высокая средняя ожидаемая продолжительность жизни ИЛИ приводятся значения показателя средней ожидаемой продолжительности жизни: 76 лет в Аргентине и 60 лет в Нигере; 3) в Колумбии выше ВВП на душу населения, и приводятся значения показателя ВВП: 14289 долл. в Колумбии и 986 долл.	



в Нигере. ИЛИ в Колумбии выше ВВП на душу населения, и приводятся вычисления: 711600: 49,8 в Колумбии и 21900: 22,2 в Нигере.	
Ответ включает в себя три названных выше элемента	2
Ответ включает в себя два (1-й и 2-й) из названных выше элементов. ИЛИ Ответ включает в себя два (1-й и 3-й) из названных выше элементов	1
Все ответы, которые не соответствуют вышеуказанным критериям выставления оценок в 1 и 2 балла	0
<i>Максимальный балл: 2</i>	

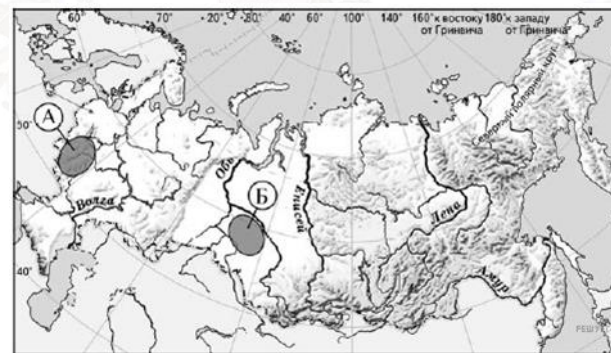
27 Используя данные справочных материалов, сравните доли населения, занятого в сельском хозяйстве, и доли сельского хозяйства в общих объёмах экспорта Парагвая и Туниса. Сделайте вывод о том, в какой из этих стран сельское хозяйство играет большую роль в экономике. Для обоснования Вашего ответа запишите необходимые числовые данные и вычисления.

Содержание верного ответа и указания по оцениванию (допускаются иные формулировки ответа, не искажающие его смысла)	Баллы
В ответе говорится, что: 1) Доля населения, занятого в сельском хозяйстве, в Парагвае выше, чем в Тунисе, ИЛИ приводятся значения: 26% в Парагвае и 14% в Тунисе; 2) Доля сельского хозяйства в общем объёме экспорта Парагвае выше, чем в общем объёме экспорта Туниса; 3) Для определения доли сельского хозяйства в общем объёме экспорта Парагвая приводятся вычисления: 5,5: 8,6; для определения доли сельского хозяйства в общем объёме экспорта Туниса приводятся вычисления: 1,6: 14,2 ИЛИ приводятся значения: 64,0% в Парагвае и 11,3% в Тунисе; 4) Сельское хозяйство играет большую роль в экономике Парагвая.	
Ответ включает в себя четыре названных выше элемента	2
Ответ включает в себя три любых из названных выше элементов.	1
Все ответы, которые не соответствуют вышеуказанным критериям выставления оценок в 1 и 2 балла	0
<i>Максимальный балл: 2</i>	

28 Какие особенности ЭГП Нижегородской области способствуют развитию в ней автомобилестроения? Укажите две особенности. Если Вы укажете более двух особенностей, оцениваться будут только две, указанные первыми.

Содержание верного ответа и указания по оцениванию (допускаются иные формулировки ответа, не искажающие его смысла)	Баллы
1) Положение на пересечении транспортных путей. 2) Близость к основным районам потребления.	
Ответ включает в себя оба названных выше элемента	2
Ответ включает в себя один (любой) из названных выше элементов. ИЛИ Ответ включает в себя оба названных элемента, но в нём присутствует географическая ошибка	1
Все ответы, которые не соответствуют вышеуказанным критериям выставления оценок в 1 и 2 балла	0
<i>Максимальный балл: 2</i>	

29 Определите, на какой из территорий, обозначенных буквами на карте, наиболее вероятно развитие водной эрозии почв. Для обоснования Вашего ответа приведите два довода. Если Вы приведёте более двух доводов, оцениваться будут только два, указанных первыми.



Содержание верного ответа и указания по оцениванию (допускаются иные формулировки ответа, не искажающие его смысла)	Баллы
В ответе говорится, что это территория А В обосновании говорится, что: 1) в пределах территории А большие перепады высот, или территория А находится на возвышенности; 2) в пределах территории А степень распаханности больше или в пределах территории А естественная растительность практически полностью уничтожена.	



Ответ включает в себя все названные выше элементы	2
Ответ включает в себя один из названных выше элементов.	1
Все ответы, которые не соответствуют вышеуказанным критериям выставления оценок в 1 и 2 балла	0
<i>Максимальный балл: 2</i>	

30

Определите географическую долготу точки, если известно, что в полночь по солнечному времени Гринвичского меридиана местное солнечное время в ней 1 час 20 минут. Запишите решение задачи.

Содержание верного ответа и указания по оцениванию (допускаются иные формулировки ответа, не искажающие его смысла)	Баллы
1) 1 час 20 минут представляем в виде обыкновенной дроби: $1\frac{1}{3}$. $15^\circ - 1$ час $1\frac{1}{3} * 15^\circ = 20^\circ$ в.д.	
2) Восточное полушарие, т.к. на Гринвиче время меньше, чем в искомом пункте	
Ответ включает в себя все названные выше элементы	2
Ответ включает в себя один из названных выше элементов.	1
Все случаи решения, которые не соответствуют вышеуказанным критериям выставления оценок в 1 и 2 балла	0
<i>Максимальный балл: 2</i>	

31

Глобальные климатические изменения на территории России проявляются очень заметно. Среднегодовая температура воздуха на территории нашей страны растёт в среднем на 0,43 °С за десятилетие. При этом наиболее интенсивные изменения наблюдаются в Российской Зоне Севера, где потеплело на 0,6 °С. Происходящие и ожидаемые изменения климата оказывают существенное воздействие на социально-экономическое развитие Российской Зоны Севера, жизнь и здоровье населения этой зоны. Существуют разные оценки последствий происходящих изменений климата. Одни специалисты считают, что последствия для Российской Зоны Севера будут положительными, другие говорят о возможных отрицательных последствиях.

Выберите одну из упомянутых выше точек зрения и приведите два любых довода, подтверждающие её.

Содержание верного ответа и указания по оцениванию (допускаются иные формулировки ответа, не искажающие его смысла)	Баллы
К1 Обоснование точки зрения Аргументы в пользу первой точки зрения: 1. сокращение расхода энергии в отопительный период;	

	2. улучшение условий транспортировки грузов в арктических морях; 3. облегчение доступа к арктическому шельфу и его освоения; 4. улучшение условий судоходства на реках (за счет увеличения их водности и продолжительности навигации); 5. улучшение условий для сельского хозяйства и расширение территорий, пригодных для его ведения; 6. расширение площади лесов и их продуктивности.	
	Аргументы в пользу второй точки зрения: 1. повышение риска для здоровья некоторой части населения или риск распространения инфекционных и паразитарных заболеваний; 2. рост повторяемости и интенсивности опасных гидрометеорологических явлений; 3. повышение пожароопасности в лесах; 4. деградация вечной мерзлоты с ущербом для строений и коммуникаций в северных регионах; 5. размыв речных берегов; 6. ухудшение условий судоходства на некоторых северных реках из-за их обмеления в результате размыва берегов потеплевшими водами и переотложения размываемого материала; 7. потеря части территории в результате размыва морских берегов и (или) повышения уровня Мирового океана.	
	В ответе выбрана точка зрения и приведены два довода	2
	В ответе приведен только один довод	1
	В ответе не приведены доводы ИЛИ приведены неправильные доводы	0
К2	Географическая грамотность <i>1 балл по критерию К2 может быть выставлен только в случае, если по критерию К1 выставлен 1 балл</i>	
	Отсутствуют фактические и теоретические ошибки (ошибки в использовании географической терминологии, в демонстрации знаний о географических связях и закономерностях).	1



ИЛИ Присутствует не более одной фактической или теоретической ошибки	
Все ответы, которые не соответствуют вышеуказанному критерию выставления оценки в 1 балл	0
<i>Максимальный балл: 3</i>	

В соответствии с Порядком проведения государственной итоговой аттестации по образовательным программам среднего общего образования (приказ Минпросвещения России и Рособрназора от 07.11.2018 № 190/1512, зарегистрирован Минюстом России 10.12.2018 № 52952)

«82. <...> По результатам первой и второй проверок эксперты независимо друг от друга выставляют баллы за каждый ответ на задания экзаменационной работы ЕГЭ с развёрнутым ответом. <...>

В случае существенного расхождения в баллах, выставленных двумя экспертами, назначается третья проверка. Существенное расхождение в баллах определено в критериях оценивания по соответствующему учебному предмету.

Эксперту, осуществляющему третью проверку, предоставляется информация о баллах, выставленных экспертами, ранее проверявшими экзаменационную работу».

1. Существенным считается расхождение в 2 балла, выставленных экспертами за выполнение любого из заданий 22, 26–31. Третий эксперт проверяет только те ответы на задания, которые вызвали столь существенное расхождение в оценивании.

2. Расхождение в результатах оценивания двумя экспертами ответа на одно из заданий 22, 24–31 заключается в том, что один эксперт указал на отсутствие ответа на задание, а другой выставил за выполнение этого задания ненулевой балл. В этом случае третий эксперт проверяет только ответы на задания, которые были оценены со столь существенным расхождением.



vk.com/ege100ballov

