

Часть 1

В этой части работы даны задания по истории России и истории зарубежных стран в Новое время.

1

Установите соответствие между событиями (процессами) и их участниками: к каждой позиции первого столбца подберите соответствующую позицию из второго столбца.

СОБЫТИЯ (ПРОЦЕССЫ)

УЧАСТНИКИ

- | | |
|--|--|
| <p>А) введение единой для всей страны денежной единицы – московского рубля</p> <p>Б) созыв Долгого парламента</p> <p>В) освобождение Москвы от польско-литовских интервентов</p> | <p>1) Филипп II</p> <p>2) Карл I</p> <p>3) К. Минин</p> <p>4) М.Б. Шеин</p> <p>5) Елена Глинская</p> |
|--|--|

Запишите в таблицу выбранные цифры под соответствующими буквами.

Ответ:

А	Б	В

2

Запишите термин, о котором идёт речь.

Основная часть Российского государства, не включённая Иваном IV в 1565–1572 гг. в опричнину.

Ответ: _____.

Прочтите отрывок из исторического источника и выполните задание 3.

«Но демон, всему завидующий и не могущий выносить созерцать добро и многочисленные превосходные деяния и добродетели прекрасного и благочестивого царя, – или по грехам нашим, или по иным причинам, Бог знает, – возбудил против него молодого человечешку и убогого монаха иеродиакона по имени Григорий и внушил ему желание царствовать. Он, удалившись в Польшу и имея с собою пособниками своего желания двух монахов, назвался сыном царя и великого князя великой России Ивана Васильевича по имени Димитрием, который в царствование царя Фёдора был убит в городе _____, где он находился под охраною, при содействии царя Бориса, как говорили многие, в бытность его боярином».

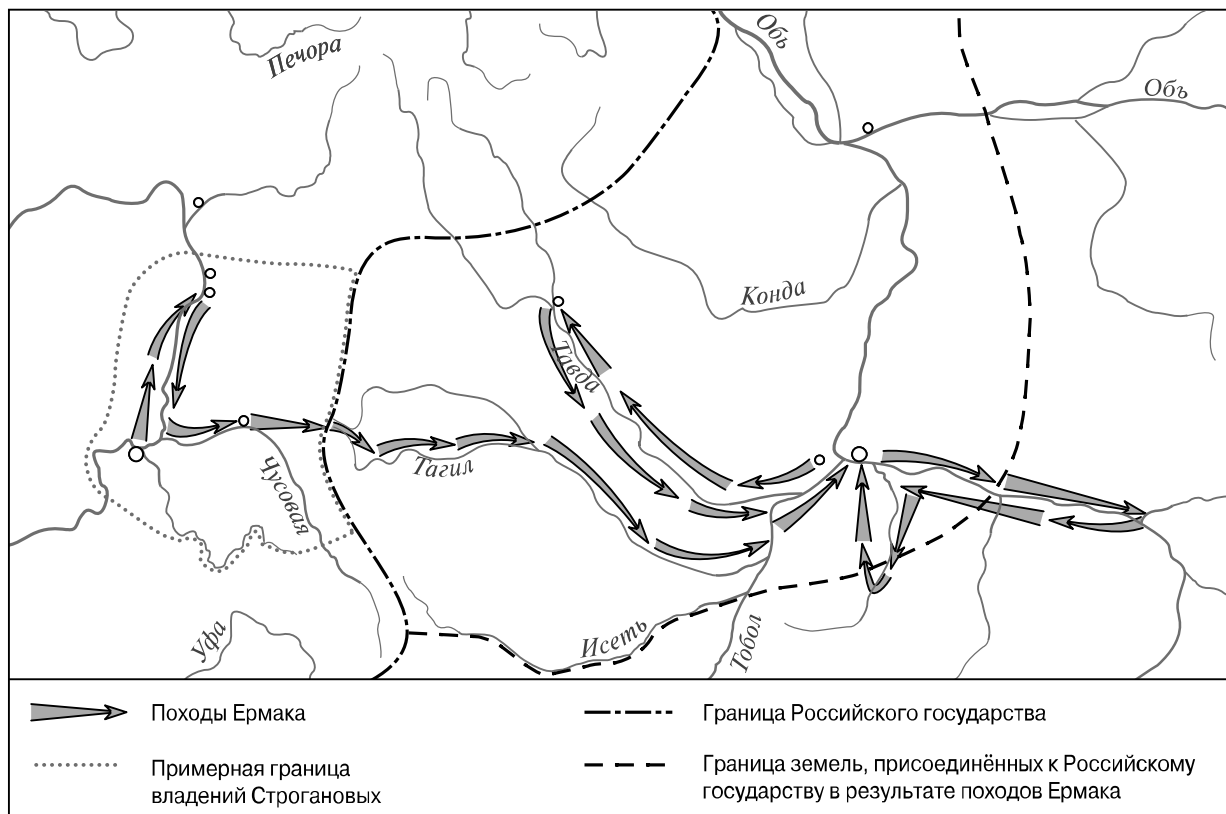

3

Укажите город, название которого пропущено в отрывке.

Ответ: _____

Укажите с точностью до десятилетия период, когда произошли описываемые события.

Ответ: _____



4 Укажите монарха, в период правления которого состоялись походы, обозначенные стрелками на карте.


Ответ: _____

5 Подпишите на карте город Кашлык и реку Иртыш.

Ознакомьтесь с приведённым перечнем и изображениями памятников культуры и выполните задания 6, 7.

- 1) «Домострой»
- 2) «Калязинская челобитная»

3)



4)



6

Какие из приведённых памятников культуры были созданы в XVI в.? Выберите **два** памятника культуры и запишите в таблицу цифры, под которыми они указаны.

Ответ:

--	--

7

В создании какого из приведённых памятников культуры принимал участие протопоп Сильвестр? Укажите порядковый номер этого памятника культуры.

Ответ:

--

8

Укажите время с точностью до половины века, когда в состав Российского государства вошла Псковская земля. Укажите одно любое событие (процесс) из истории зарубежных стран, относящееся к той же половине века. Не следует указывать событие (процесс) из истории международных отношений, одной из сторон которых была Россия.

Время с точностью до половины века: _____

Событие из истории зарубежных стран: _____

9

Какой из приведённых исторических фактов можно использовать для аргументации следующей точки зрения: «В первой половине XVII в. роль Земских соборов в принятии важнейших государственных решений была очень значима»? Укажите порядковый номер этого факта в списке.

- 1) введение заповедных лет
- 2) денежная реформа Елены Глинской
- 3) избрание на царство Михаила Романова

Ответ:

Объясните, как с помощью выбранного Вами факта можно аргументировать данную точку зрения.

Ответ: _____

10

Укажите с точностью до десятилетия время, к которому относится принятие царского титула российским монархом. Укажите российского монарха, чьим регентом была Елена Глинская. Приведите один любой факт, характеризующий принятие монархом этого титула.

Время: _____

Монарх: _____

Факт: _____

11

Используя знание исторических фактов, объясните, почему принятие царского титула российским монархом имело большое значение (важные последствия) в истории нашей страны.

Ответ: _____

