

ВСЕРОССИЙСКАЯ ПРОВЕРОЧНАЯ РАБОТА**ХИМИЯ
11 КЛАСС****Вариант 2****Инструкция по выполнению работы**

Проверочная работа включает в себя 15 заданий. На выполнение работы по химии отводится 1 час 30 минут (90 минут).

Оформляйте ответы в тексте работы согласно инструкциям к заданиям. В случае записи неверного ответа зачеркните его и запишите рядом новый.

При выполнении работы разрешается использовать следующие дополнительные материалы:

- Периодическая система химических элементов Д.И. Менделеева;
- таблица растворимости солей, кислот и оснований в воде;
- электрохимический ряд напряжений металлов;
- непрограммируемый калькулятор.

При выполнении заданий Вы можете использовать черновик. Записи в черновике проверяться и оцениваться не будут.

Советуем выполнять задания в том порядке, в котором они даны. Для экономии времени пропускайте задание, которое не удаётся выполнить сразу, и переходите к следующему. Если после выполнения всей работы у Вас останется время, Вы сможете вернуться к пропущенным заданиям.

Баллы, полученные Вами за выполненные задания, суммируются. Постарайтесь выполнить как можно больше заданий и набрать наибольшее количество баллов.

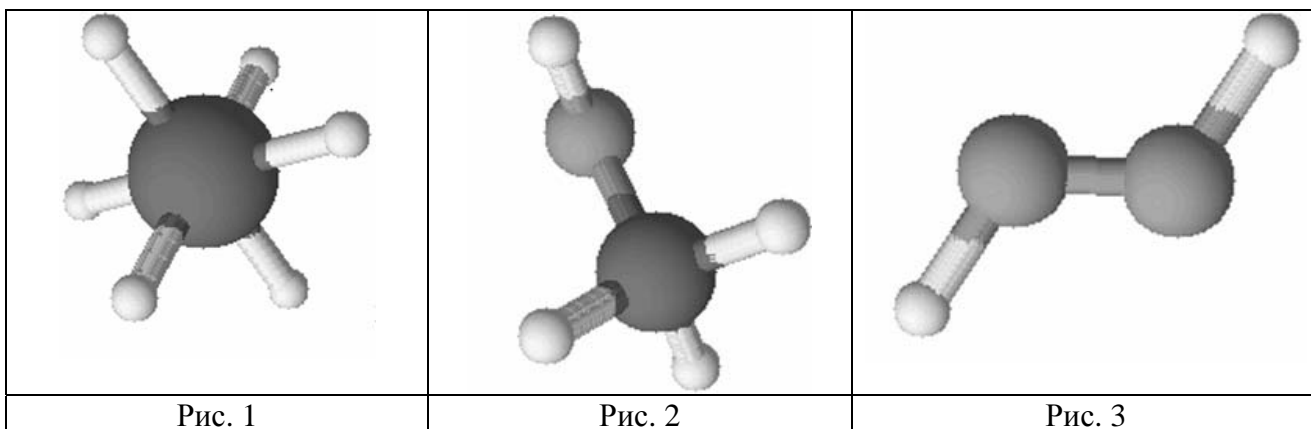
Желаем успеха!

Таблица для внесения баллов участника

Номер задания	1	2	3	4	5	6	7	8	9	10	11	12	13	14	15	Сумма баллов	Отметка за работу
Баллы																	

1

Одним из научных методов познания веществ и химических явлений является моделирование. Так, модели молекул отражают характерные признаки реальных объектов. На рис. 1–3 изображены модели молекул трёх веществ.



Проанализируйте данные модели молекул веществ и определите вещество:

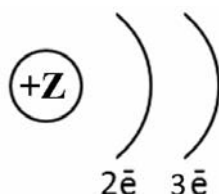
- 1) состав которого выражается формулой CH_3OH ;
- 2) содержит шесть одновалентных атомов.

Запишите в таблицу номера рисунков и укажите количество атомов в молекулах выбранных веществ.

Вещество	Номер рисунка	Количество атомов в молекуле
состав которого выражается формулой CH_3OH		
содержит шесть одновалентных атомов		

2

На рисунке изображена схема распределения электронов по энергетическим уровням атома некоторого химического элемента.



Рассмотрите предложенную схему и выполните следующие задания:

- 1) запишите в таблицу символ химического элемента, которому соответствует данная схема строения атома;
- 2) запишите номер периода и номер группы в Периодической системе химических элементов Д.И. Менделеева, в которых расположен этот элемент;
- 3) определите, к металлам или неметаллам относится простое вещество, которое образует этот элемент.

Ответ запишите в таблицу.

Ответ:	Символ химического элемента	№ периода	№ группы	Металл/неметалл

3

Периодическая система химических элементов Д.И. Менделеева – богатое хранилище информации о химических элементах, их свойствах и свойствах их соединений. Так, например, известно, что с увеличением порядкового номера химического элемента способность атомов принимать электроны – окислительная способность – в периодах усиливается, а в группах ослабевает.

Учитывая эти закономерности, расположите в порядке усиления окислительной способности следующие элементы: фосфор, кислород, азот. В ответе запишите символы элементов в нужной последовательности.

Ответ: _____

4

В приведённой ниже таблице дана некоторая информация о видах химической связи: ковалентной и ионной.

Химическая связь	
Ковалентная	Ионная
Образована атомами одного и того же элемента-неметалла или атомами различных неметаллов	Образована атомами металла и неметалла

Используя данную информацию определите, в каком из веществ: KCl, K, SiH₄ присутствует ковалентная связь, а в каком – ионная.

Запишите в соответствующие ячейки формулы выбранных веществ:

Вещество с ковалентной связью	
Вещество с ионной связью	

Прочитайте следующий текст и выполните задания 5–7.

Хлороводород (HCl) – довольно ядовитый газ с резким запахом. В промышленности его получают синтезом из простых веществ, в лаборатории – действием концентрированной серной кислоты на хлорид натрия. Хлороводород хорошо растворим в воде, его водный раствор называется соляной кислотой.

В соляной кислоте растворяются многие металлы, например, железо, цинк, магний. Так, при действии соляной кислоты на железо можно получить хлорид железа(II) (FeCl₂). Соляная кислота реагирует с многими оксидами металлов (например, оксидом меди (CuO) или оксидом кальция (CaO)) и гидроксидами (например, гидроксидами алюминия (Al(OH)₃) или натрия (NaOH)).

Соляная кислота входит в состав желудочного сока, способствуя перевариванию пищи. Избыток соляной кислоты в желудочном соке приводит к изжоге и развитию гастрита. Многие лекарственные препараты уменьшают кислотность желудочного сока, поскольку содержат компоненты (например, гидроксид алюминия), которые нейтрализуют соляную кислоту.

5

Сложные неорганические вещества условно можно распределить, то есть классифицировать, по четырём группам, как показано на схеме. В эту схему для каждой из четырёх групп *впишите* по одной химической формуле веществ из тех, о которых говорится в приведённом выше тексте.



6

1) Составьте молекулярное уравнение реакции получения хлороводорода из простых веществ.

Ответ: _____

2) Укажите тип реакции по её тепловому эффекту.

Ответ: _____

7

1) Составьте молекулярное уравнение упомянутой в тексте реакции между соляной кислотой и гидроксидом алюминия.

Ответ: _____

2) Укажите, к какому типу (соединения, разложения, замещения, обмена) относится эта реакция.

Ответ: _____

8

При исследовании минерализации бутилированной воды в ней были обнаружены следующие анионы: SO_4^{2-} , Cl^- , PO_4^{3-} . Для проведения качественного анализа к этой воде добавили раствор $\text{Fe}(\text{NO}_3)_3$.

1. Какие изменения в растворе можно наблюдать при проведении данного опыта (концентрация веществ достаточная для проведения анализа)?

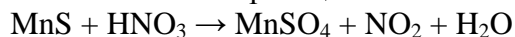
Ответ: _____

2. Запишите сокращённое ионное уравнение произошедшей химической реакции.

Ответ: _____

9

Дана схема окислительно-восстановительной реакции.



1. Составьте электронный баланс этой реакции.

Ответ: _____

2. Укажите окислитель и восстановитель.

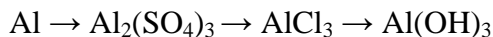
Ответ: _____

3. Расставьте коэффициенты в уравнении реакции.

Ответ: _____

10

Дана схема превращений:



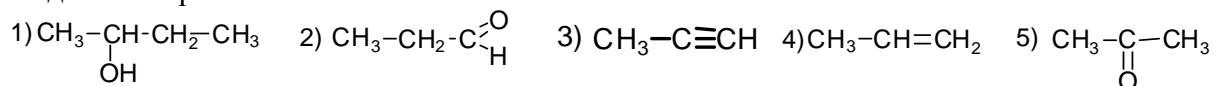
Напишите молекулярные уравнения реакций, с помощью которых можно осуществить указанные превращения.

1) _____

2) _____

3) _____

Для выполнения заданий 11–13 используйте вещества, структурные формулы которых приведены в перечне:



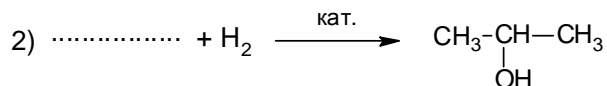
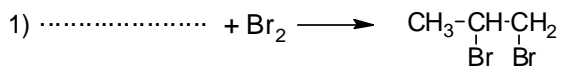
11

Из приведённого перечня выберите алкен и спирт. Запишите в таблицу номера, под которыми указаны эти соединения.

Алкен	Спирт

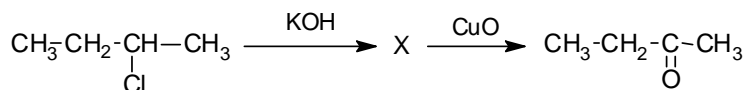
12

Составьте уравнения реакций: в предложенные схемы химических реакций впишите структурные формулы пропущенных веществ и расставьте коэффициенты.



13

Бутанон – бесцветная жидкость с характерным запахом, широко применяется в качестве растворителя лаков, красок, клеев, некоторых полимеров и т.п. Бутанон можно получить в соответствии с приведённой схемой превращений:



Определите вещество X, выбрав его из предложенного выше перечня веществ. Запишите уравнения двух реакций, с помощью которых можно осуществить эти превращения. Запишите название вещества X.

При написании уравнений реакций используйте структурные формулы органических веществ.

- 1) _____
- 2) _____
- 3) _____

14

Одним из важных понятий в экологии и химии является «предельно допустимая концентрация» (ПДК). ПДК — это такая концентрация вещества в окружающей среде, которая при повседневном воздействии в течение длительного времени не оказывает прямого или косвенного неблагоприятного влияния на настоящее или будущее поколение, не снижает работоспособности человека, не ухудшает его самочувствия и условий жизни.

ПДК хлора в воде плавательных бассейнов составляет $0,5 \text{ мг/м}^3$.

Для хлорирования воды в бассейне глубиной 1 м 80 см, шириной 10 м и длиной дорожки 15 м использовали 150 мг хлора. Определите и подтвердите расчётами, превышает ли концентрация хлора в воде данного бассейна значение ПДК. Предложите способ, позволяющий снизить концентрацию хлора в воде.

 Ответ: _____

15

Для приготовления сиропа для консервирования ягод взяли 1 л воды и 250 г сахара. Рассчитайте массу получившегося сиропа и массовую долю сахара в нём. Запишите подробное решение задачи.

 Ответ: _____

