

Всероссийская проверочная работа
ДЛЯ ОЦЕНКИ МЕТАПРЕДМЕТНЫХ РЕЗУЛЬТАТОВ ОБУЧЕНИЯ
в соответствии с федеральным государственным образовательным
стандартом среднего общего образования
для обучающихся по программам среднего профессионального образования,
завершивших в предыдущем учебном году освоение общеобразовательных предметов,
проходящих обучение по очной форме на базе основного общего образования.

Вариант 64418

Инструкция по выполнению работы

Проверочная работа включает в себя 22 задания.

На выполнение диагностической работы отводится 2 часа (120 минут).

Ответами к заданиям 1, 2, 5, 6, 8, 9–12, 17–21 являются цифра, последовательность цифр или слово (словосочетание).

Задания 3, 4, 7, 13–16, 22 требуют полного ответа (дать объяснение, описание или обоснование; высказать и аргументировать собственное мнение). В случае записи неверного ответа зачеркните его и запишите рядом новый.

При выполнении работы не разрешается пользоваться учебниками, рабочими тетрадями и другими справочными материалами.

При выполнении заданий Вы можете пользоваться черновиком. Записи в черновике проверяться и оцениваться не будут.

Советуем выполнять задания в том порядке, в котором они даны. В целях экономии времени пропускайте задание, которое не удаётся выполнить сразу, и переходите к следующему. Если после выполнения всей работы у Вас останется время, то Вы сможете вернуться к пропущенным заданиям.

Баллы, полученные Вами за выполненные задания, суммируются. Постарайтесь выполнить как можно больше заданий и набрать наибольшее количество баллов.

Желаем успеха!

Таблица для внесения баллов участника

Номер задания	1	2	3	4	5	6	7	8	9	10	11	12	13	14
Баллы														
Номер задания	15(1)	15(2)	16	17	18	19	20	21	22	Сумма баллов	Отметка за работу			
Баллы														

1

Установите соответствие между историческими деятелями и информацией, относящейся к ним: к каждой позиции первого столбца подберите соответствующую позицию из второго столбца.

ИСТОРИЧЕСКИЕ ДЕЯТЕЛИ

- А) А.Н. Туполев
Б) И.О. Дунаевский
В) С.М. Киров

ИНФОРМАЦИЯ

- 1) Первый секретарь Ленинградского обкома ВКП(б), убитый в Ленинграде в 1934 г.
2) советский композитор
3) первый Президент РФ
4) советский авиаконструктор

Запишите в таблицу выбранные цифры под соответствующими буквами.

□ Ответ:

А	Б	В

2

Прочитайте четыре предложения. Два из них содержат события, процессы, явления, являющиеся причинами (предпосылками). Другие два содержат последствия этих событий, процессов, явлений. Подберите для каждой из причин (предпосылок) соответствующее ей последствие. Номера соответствующих предложений запишите в таблицу.

- 1) Произошёл первый – апрельский – кризис Временного правительства.
2) Большевики потерпели неудачу на выборах в ноябре 1917 г.
3) Учредительное собрание было распущено.
4) 18 апреля 1917 г. министр иностранных дел П.Н. Миллюков обратился к правительствам союзных держав с нотой, подтверждающей продолжение участия России в Первой мировой войне.

	Номер предложения, содержащего			
	причину (предпосылку) 1	последствие 1	причину (предпосылку) 2	последствие 2
□ Ответ:				

3

Рассмотрите изображение и выполните задание.



Назовите международное событие, произошедшее в начале 1960-х гг., которому посвящена данная карикатура.

Ответ: _____

Объясните, почему это событие было важно а) для отношений между СССР и США, б) для всего человечества.

Ответ: _____



Ознакомьтесь с перечнем и изображениями памятников культуры и выполните задания 5 и 6.

- 1) поэма «Мцыри»;
- 2) повесть «А зори здесь тихие...»;



5

Какие из приведённых памятников культуры были созданы в XX в.? Выберите два памятника культуры и запишите в таблицу цифры, под которыми они указаны.

Ответ:

--	--

6

Создателем какого из приведённых памятников культуры является Б.Л. Васильев? Укажите порядковый номер этого памятника культуры.

Ответ:

--

7

Рассмотрите изображение и выполните задание.

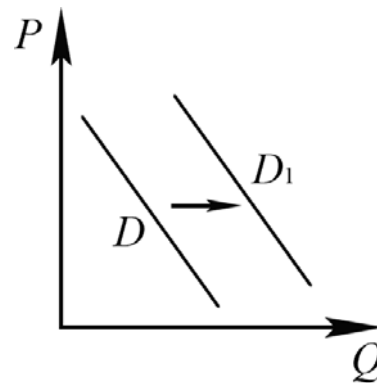


Укажите год, когда Красная армия вступила в город, название которого указано на плакате. Почему событие, которому посвящён плакат, не означало окончания Второй мировой войны?

Ответ: _____

8

На рисунке отражено изменение спроса на услуги агентств недвижимости на соответствующем рынке: линия спроса D переместилась в новое положение – D_1 . (P – цена; Q – количество.)



Какие из перечисленных факторов могут вызвать такое изменение? Запишите цифры, под которыми они указаны.

- 1) рост доходов населения
- 2) предоставление гражданам субсидий на приобретение жилья
- 3) сокращение количества агентств недвижимости
- 4) рост оплаты труда агентов недвижимости
- 5) уменьшение количества продающихся квартир

Ответ: _____.

9

Установите соответствие между примерами и видами налогов и сборов согласно Налоговому кодексу РФ: к каждой позиции, данной в первом столбце, подберите соответствующую позицию из второго столбца.

ПРИМЕРЫ

- А) сборы за пользование объектами животного мира
- Б) налог на имущество организаций
- В) земельный налог
- Г) торговый сбор
- Д) транспортный налог

ВИДЫ НАЛОГОВ И СБОРОВ В РФ

- 1) федеральные
- 2) региональные
- 3) местные

Запишите в таблицу выбранные цифры под соответствующими буквами.

Ответ:

А	Б	В	Г	Д

10

Конституция РФ устанавливает основы конституционного строя. Какие из перечисленных позиций относятся к основам конституционного строя РФ? Запишите цифры, под которыми они указаны.

- 1) правовое государство
- 2) приоритет государственной собственности
- 3) светское государство
- 4) социальное государство
- 5) унитарное государство

Ответ: _____.

11

Установите соответствие между полномочиями и субъектами государственной власти РФ, реализующими эти полномочия: к каждой позиции, данной в первом столбце, подберите соответствующую позицию из второго столбца.

ПОЛНОМОЧИЯ

СУБЪЕКТЫ
ГОСУДАРСТВЕННОЙ ВЛАСТИ
РФ

- | | |
|--|--|
| <p>А) осуществление мер по обеспечению обороны страны</p> <p>Б) утверждение военной доктрины РФ</p> <p>В) разрешение споров о компетенции между федеральными органами государственной власти</p> <p>Г) обеспечение исполнения федерального бюджета</p> <p>Д) осуществление управления федеральной собственностью</p> | <p>1) Президент РФ</p> <p>2) Конституционный Суд РФ</p> <p>3) Правительство РФ</p> |
|--|--|

Запишите в таблицу выбранные цифры под соответствующими буквами.

Ответ:

А	Б	В	Г	Д

12

Пётр, гражданин иностранного государства, работающий по контракту в РФ, решил обратиться с заявлением о приёме в гражданство РФ. Найдите в приведённом списке требования, которым он должен соответствовать для того, чтобы стать гражданином РФ по общему правилу. Запишите **цифры**, под которыми они указаны.

- 1) наличие законного источника средств к существованию
- 2) заключение брака с гражданкой РФ
- 3) приобретение собственности на территории РФ
- 4) обязательство соблюдать Конституцию РФ и законодательство РФ
- 5) владение русским языком
- 6) наличие высшего образования

Ответ: _____.

13

В государстве Z развиваются новейшие коммуникационные технологии и сервисы, внедряются инновации, осуществляется переход к электронике на всех уровнях производственной деятельности, постоянно возрастает роль науки и образования в жизни общества.

В ходе социологических опросов было установлено, что в государстве Z в период с 2013 по 2018 г. на 25% выросла доля учащихся школ, воспользовавшихся правом выбора наиболее удобной формы обучения в соответствии со своими целями и интересами. Школьники и их родители отмечают общую ориентированность системы образования на развитие и становление отношений взаимного уважения учащихся и педагогов, сохранение и укрепление здоровья учеников.

Социологические опросы показали, что в государстве Z преобладают семьи демократического типа.

Государство Z включает в себя восемь территориальных единиц, не обладающих политической самостоятельностью. Законодательную власть осуществляет парламент, а всенародно избираемый глава государства формирует правительство и возглавляет исполнительную власть.

1) К какому типу относится общество Z ?

2) Какую тенденцию развития образования иллюстрируют приведённые данные?

3) Что характеризует семью демократического типа? (Приведите любые две характеристики.)

4) Какой факт из условия задачи позволяет сделать вывод, что Z – унитарное государство?

Ответ на первый вопрос: _____

Ответ на второй вопрос: _____

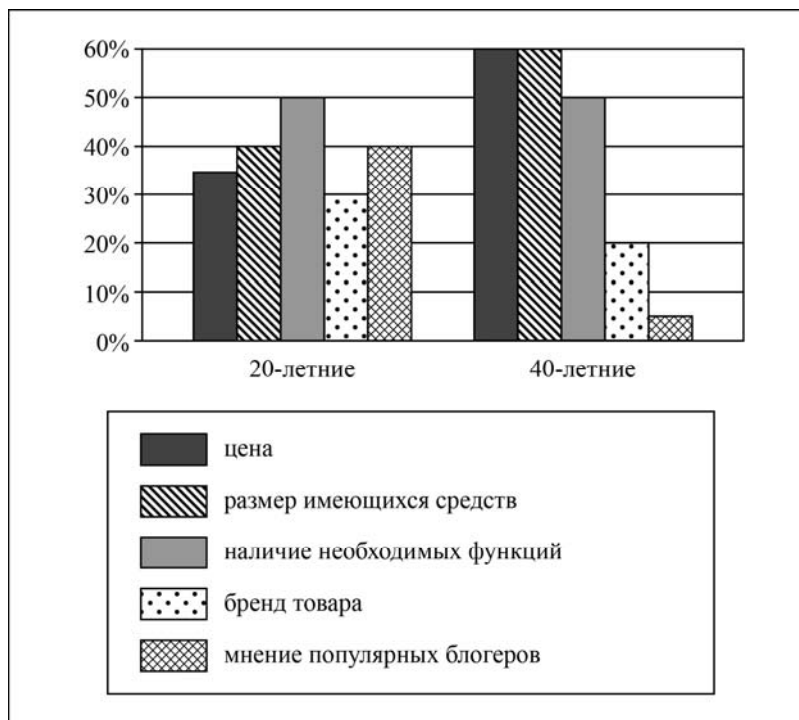
Ответ на третий вопрос: _____

Ответ на четвёртый вопрос: _____

14

В ходе социологического опроса покупателей в крупной сети магазинов им задавали вопрос о том, что в большей степени может повлиять на их выбор при покупке нового мобильного телефона. (При ответе можно было выбрать несколько вариантов.)

Полученные результаты (в % от числа опрошенных) представлены в виде диаграммы.



Сформулируйте по одному выводу: а) о сходстве; б) о различии в позициях групп опрошенных. Выскажите предположение о том, чем объясняются указанные Вами: а) сходство; б) различие.

Ответ: _____

15

Произошёл пожар в музее.

Назовите не менее четырёх правил безопасного поведения, которые необходимо выполнить в этом случае.

Ответ: _____

16

В тёплое время года многие люди любят гулять в лесу. Там обитает много кровососущих насекомых. Укусы этих насекомых опасны для людей. Объясните, в чём состоит опасность.

Назовите не менее двух действий, которые нужно предпринять, если человека в лесу укусили кровососущие насекомые.

Ответ: _____

17

Определите регион России по его краткому описанию.

Особенностью ЭГП этой области является наличие выхода к Государственной границе Российской Федерации с тремя европейскими странами. Более трети территории области занимают леса. Другой особенностью её природы является обилие озёр. Полезными ископаемыми область небогата: разведаны залежи торфа и строительных материалов. Основные отрасли промышленности: машиностроение, деревообрабатывающая, лёгкая и пищевая. В сельском хозяйстве преобладает молочное скотоводство; растениеводство специализируется на производстве кормовых культур.

Ответ: _____.

18

Прочитайте приведённый ниже текст, в котором пропущен ряд слов (словосочетаний). Выберите из предлагаемого списка слова (словосочетания), которые необходимо вставить на места пропусков.

Природные ресурсы Европейского Юга России

Природные ресурсы Европейского Юга разнообразны. В _____ (А) разведаны месторождения каменного угля. Запасы нефти сосредоточены в Чеченской Республике, Республике Ингушетия, Республике Дагестан; запасы природного газа – в Ставропольском крае, Республиках Адыгея, Дагестан. На _____ (Б) территориях Кабардино-Балкарской Республики разведаны вольфрамо-молибденовые руды. Значительны гидроресурсы района, но размещены они неравномерно: предгорья и Азовско-Черноморская равнина имеют густую речную сеть, а степные районы левобережья Дона и северо-восточные прикаспийские районы бедны водными ресурсами. На большей части равнинной территории, в степях распространены плодородные чернозёмы. В _____ (В) части они сменяются менее плодородными каштановыми почвами. Уникальны рекреационные ресурсы района.

Выбирайте последовательно одно слово (словосочетание) за другим, мысленно вставляя на места пропусков слова (словосочетания) из списка в нужной форме. Обратите внимание на то, что слов (словосочетаний) в списке больше, чем Вам потребуется для заполнения пропусков. Каждое слово (словосочетание) может быть использовано только один раз.

Список слов (словосочетаний):

- 1) Ростовская область
- 2) горные
- 3) равнинные
- 4) Краснодарский край
- 5) восточная
- 6) западная

В данной ниже таблице приведены буквы, обозначающие пропущенные слова (словосочетания). Запишите в таблицу под каждой буквой номер выбранного Вами слова (словосочетания).

Ответ:

А	Б	В

19

Установите соответствие между республикой в составе РФ и её столицей: к каждому элементу первого столбца подберите соответствующий элемент из второго столбца.

РЕСПУБЛИКА

- А) Адыгея
- Б) Калмыкия
- В) Удмуртская

СТОЛИЦА

- 1) Майкоп
- 2) Элиста
- 3) Ижевск
- 4) Сыктывкар

Запишите в таблицу выбранные цифры под соответствующими буквами.

Ответ:

А	Б	В

20

Потенциал российских регионов для развития туризма огромен. Каждый из них имеет рекреационные ресурсы, способные привлечь тысячи туристов из России и зарубежных стран. Определите субъект Российской Федерации по описанию его рекреационного потенциала.

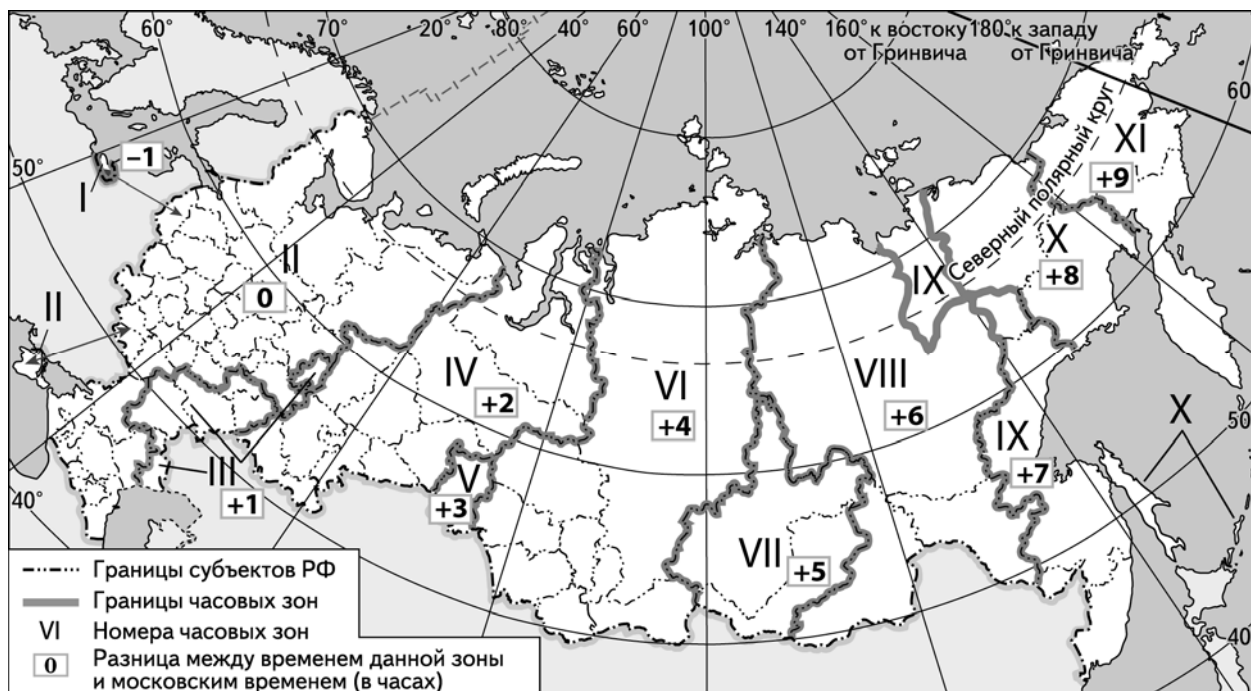
«Территория этой республики – уникальный мир, поражающий своей величественной природой и загадочностью. По сегодняшний день здесь сохранились нетронутыми самые чистые в Европе реки, озёра и леса. Культура этого региона – сплав северных славянских и финно-угорских племён. В республике на одном из островов в Онежском озере расположен Кижский погост – один из объектов Всемирного наследия ЮНЕСКО. Здесь можно увидеть две деревянные церкви XVIII века, а также восьмигранную деревянную колокольню, построенную в 1862 году.»

Ответ: _____

21

Парад в честь Дня Победы на Красной площади начинается в 10 часов по московскому времени. Трансляция парада ведётся в прямом эфире.

Используя карту, определите, в каких из перечисленных регионов эта трансляция начнётся не раньше 13 часов по местному времени этих регионов. Запишите цифры, под которыми они указаны.



- 1) Воронежская область
- 2) Курганская область
- 3) Амурская область
- 4) Камчатский край
- 5) Ямало-Ненецкий автономный округ
- 6) Республика Хакасия

Ответ: _____

22

Многие банки предоставляют возможность подключения автоплатежа за коммунальные услуги, который оформляется через личный кабинет клиента на сайте соответствующего банка.

1) Какие сведения должен указать клиент в своём личном кабинете?

Ответ: _____

2) Как Вы думаете, что будет происходить после запуска клиентом данной услуги?

Ответ: _____

3) В чём преимущество автоплатежа перед другими способами оплаты коммунальных услуг? (Укажите любые два преимущества.)

Ответ: _____

4) Как Вы думаете, почему некоторые граждане не заинтересованы в оформлении автоплатежа? (Выскажите своё предположение.)

Ответ: _____

