

**Всероссийская проверочная работа**  
**ДЛЯ ОЦЕНКИ МЕТАПРЕДМЕТНЫХ РЕЗУЛЬТАТОВ ОБУЧЕНИЯ**  
**в соответствии с федеральным государственным образовательным**  
**стандартом среднего общего образования**  
**для обучающихся по программам среднего профессионального образования,**  
**завершивших в предыдущем учебном году освоение общеобразовательных предметов,**  
**проходящих обучение по очной форме на базе основного общего образования.**

**Вариант 12750**

**Инструкция по выполнению работы**

Проверочная работа включает в себя 22 задания.

На выполнение диагностической работы отводится 2 часа (120 минут).

Ответами к заданиям 1, 2, 5, 6, 8, 9–12, 17–21 являются цифра, последовательность цифр или слово (словосочетание).

Задания 3, 4, 7, 13–16, 22 требуют полного ответа (дать объяснение, описание или обоснование; высказать и аргументировать собственное мнение). В случае записи неверного ответа зачеркните его и запишите рядом новый.

При выполнении работы не разрешается пользоваться учебниками, рабочими тетрадями и другими справочными материалами.

При выполнении заданий Вы можете пользоваться черновиком. Записи в черновике проверяться и оцениваться не будут.

Советуем выполнять задания в том порядке, в котором они даны. В целях экономии времени пропускайте задание, которое не удаётся выполнить сразу, и переходите к следующему. Если после выполнения всей работы у Вас останется время, то Вы сможете вернуться к пропущенным заданиям.

Баллы, полученные Вами за выполненные задания, суммируются. Постарайтесь выполнить как можно больше заданий и набрать наибольшее количество баллов.

***Желаем успеха!***

Таблица для внесения баллов участника

Номер задания	1	2	3	4	5	6	7	8	9	10	11	12	13	14
Баллы														
Номер задания	15(1)	15(2)	16	17	18	19	20	21	22	Сумма баллов	Отметка за работу			
Баллы														

1

Установите соответствие между историческими деятелями и информацией, относящейся к ним: к каждой позиции первого столбца подберите соответствующую позицию из второго столбца.

## ИСТОРИЧЕСКИЕ ДЕЯТЕЛИ

- А) М.Т. Калашников  
Б) В.П. Чкалов  
В) М.С. Горбачёв

## ИНФОРМАЦИЯ

- 1) Председатель Революционного военного совета РСФСР в период Гражданской войны  
2) Президент СССР  
3) командир экипажа самолёта, совершившего в 1937 г. первый беспосадочный перелёт через Северный полюс из Москвы в Америку  
4) советский и российский конструктор стрелкового оружия

Запишите в таблицу выбранные цифры под соответствующими буквами.

Ответ:

А	Б	В

2

Прочитайте четыре предложения. Два из них содержат события, процессы, явления, являющиеся причинами (предпосылками). Другие два содержат последствия этих событий, процессов, явлений. Подберите для каждой из причин (предпосылок) соответствующее ей последствие. Номера соответствующих предложений запишите в таблицу.

- 1) Встречи руководства СССР и США стали ежегодными.  
2) Началось проведение политики «нового политического мышления».  
3) Произошло выступление Государственного комитета по чрезвычайному положению (ГКЧП).  
4) Ускорился окончательный распад СССР.

		Номер предложения, содержащего			
		причину (предпосылку) 1		причину (предпосылку) 2	
		последствие 1		последствие 2	
Ответ:					

3

Рассмотрите изображение и выполните задание.



Укажите название процесса, кульминацией которого стало событие, годовщине которого посвящена данная марка.

Ответ: \_\_\_\_\_  
\_\_\_\_\_

Объясните, почему этот процесс а) был важен для всего человечества, б) оказался непродолжительным.

Ответ: \_\_\_\_\_  
\_\_\_\_\_  
\_\_\_\_\_  
\_\_\_\_\_  
\_\_\_\_\_  
\_\_\_\_\_  
\_\_\_\_\_  
\_\_\_\_\_  
\_\_\_\_\_  
\_\_\_\_\_



4

Прочтите отрывок из воспоминаний участника событий и выполните задание.

«Горючее, боеприпасы, обеспечение порядка в самом городе, охрана воинского имущества, остающегося после ухода войск, забота о семьях комсостава, проверка готовности частей, митинги личного состава – всё нужно было успеть сделать в считанные часы. И вместе с тем я уже думал о боях. За долгие годы службы я хорошо узнал, что такое война, и поэтому меня больше всего беспокоило, как встретит свой первый бой наш необстрелянный солдат.

Вот деталь, по которой читатель – представитель нового поколения, – возможно, поймёт ход мыслей комкора в первый день так неожиданно начавшейся войны. Выступая в поход по тревоге, я запретил выдавать командирам и сержантам защитного цвета петлицы и знаки различия. Командир должен резко выделяться в боевых порядках. Солдаты должны его видеть. И сам он должен чувствовать, что за его поведением следят, равняются по нему».

Укажите год, когда произошли описываемые события. Что больше всего, по его словам, беспокоило автора?

Назовите один любой военный конфликт, в котором могли получить военный опыт советские солдаты незадолго до событий, описываемых в данном отрывке.

□ Ответ: \_\_\_\_\_

\_\_\_\_\_

\_\_\_\_\_

\_\_\_\_\_

\_\_\_\_\_

\_\_\_\_\_

\_\_\_\_\_

\_\_\_\_\_

\_\_\_\_\_

\_\_\_\_\_

\_\_\_\_\_

\_\_\_\_\_

\_\_\_\_\_

\_\_\_\_\_

\_\_\_\_\_

\_\_\_\_\_

\_\_\_\_\_

\_\_\_\_\_

**Ознакомьтесь с перечнем и изображениями памятников культуры и выполните задания 5 и 6.**

- 1) роман «Преступление и наказание»;
- 2) рассказ «Один день Ивана Денисовича»;

3)



4)



5

Какие из приведённых памятников культуры были созданы в XX в.? Выберите два памятника культуры и запишите в таблицу цифры, под которыми они указаны.

Ответ:

6

Создателем какого из приведённых памятников культуры является А.И. Солженицын? Укажите порядковый номер этого памятника культуры.

Ответ:

7

Рассмотрите изображение и выполните задание.



Укажите год, когда произошло событие, которому посвящён данный плакат. Какую реакцию со стороны США и Евросоюза вызвало данное событие?

Ответ: \_\_\_\_\_

\_\_\_\_\_

\_\_\_\_\_

\_\_\_\_\_

\_\_\_\_\_

\_\_\_\_\_

\_\_\_\_\_

\_\_\_\_\_

\_\_\_\_\_

\_\_\_\_\_

\_\_\_\_\_

\_\_\_\_\_

\_\_\_\_\_

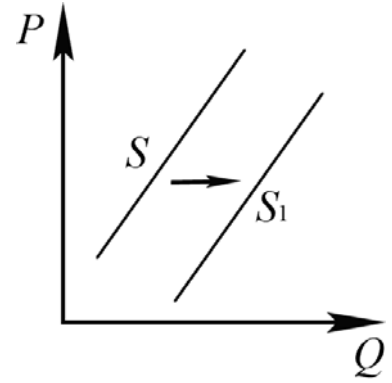
\_\_\_\_\_

\_\_\_\_\_

\_\_\_\_\_

8

На рисунке отражено изменение предложения молочных продуктов на соответствующем рынке: линия предложения  $S$  переместилась в новое положение –  $S_1$ . ( $P$  – цена;  $Q$  – количество.)



Какие из перечисленных факторов могут вызвать такое изменение? Запишите цифры, под которыми они указаны.

- 1) уменьшение стоимости кормов для коров
- 2) строительство новых заводов молочной продукции
- 3) банкротство нескольких молочных ферм
- 4) повышение цен на энергоносители
- 5) использование новых технологий переработки молока

Ответ: \_\_\_\_\_.

9

Установите соответствие между примерами и видами налогов и сборов согласно Налоговому кодексу РФ: к каждой позиции, данной в первом столбце, подберите соответствующую позицию из второго столбца.

ПРИМЕРЫ

ВИДЫ НАЛОГОВ И СБОРОВ В РФ

- А) земельный налог
- Б) государственная пошлина
- В) налог на прибыль организаций
- Г) налог на имущество организаций
- Д) налог на дополнительный доход от добычи углеводородного сырья

- 1) федеральные
- 2) региональные
- 3) местные

Запишите в таблицу выбранные цифры под соответствующими буквами.

Ответ:

А	Б	В	Г	Д

10

Выберите в приведённом списке положения, характеризующие основы конституционного строя РФ, и запишите **цифры**, под которыми они указаны.

- 1) В РФ признаются и защищаются равным образом частная, государственная, муниципальная и иные формы собственности.
- 2) Высшим непосредственным выражением власти народа являются референдум и свободные выборы.
- 3) Российская Федерация обеспечивает целостность и неприкосновенность своей территории.
- 4) Заключение трудового договора по общему правилу допускается с лицами, достигшими возраста 12 лет.
- 5) Уголовная ответственность наступает за приготовление только к тяжкому и особо тяжкому преступлениям.

Ответ: \_\_\_\_\_.

11

Установите соответствие между вопросами и субъектами государственной власти РФ, к ведению которых эти вопросы относятся: к каждой позиции, данной в первом столбце, подберите соответствующую позицию из второго столбца.

## ВОПРОСЫ

СУБЪЕКТЫ  
ГОСУДАРСТВЕННОЙ ВЛАСТИ  
РФ

- |  |  |
|--|--|
| <p>А) принятие и изменение Конституции Российской Федерации и федеральных законов, контроль за их соблюдением</p> <p>Б) кадры судебных и правоохранительных органов</p> <p>В) общие вопросы науки и культуры</p> <p>Г) федеральный бюджет</p> <p>Д) оборона и безопасность</p> | <p>1) только федеральный центр</p> <p>2) совместно федеральный центр и субъекты РФ</p> |
|--|--|

Запишите в таблицу выбранные цифры под соответствующими буквами.

Ответ:

А	Б	В	Г	Д



12

Вам предложено подготовить презентацию о видах юридической ответственности в РФ. Что из перечисленного может быть включено в слайд «Уголовная ответственность»? Запишите **цифры**, под которыми указаны соответствующие положения.

- 1) Уголовная ответственность является правовым последствием совершения преступления.
- 2) К этому виду ответственности может быть привлечён работник, регулярно опаздывающий к началу рабочего дня.
- 3) Наказание применяется в целях восстановления социальной справедливости, а также исправления осуждённого и предупреждения совершения им новых преступлений.
- 4) Видами наказания являются штраф, обязательные работы, арест, лишение свободы на определённый срок и др.
- 5) Уголовная ответственность бывает двух видов: ограниченная и полная.
- 6) За совершённый поступок к ответственности могут привлекаться физические и юридические лица.

□ Ответ: \_\_\_\_\_.

13

Граждане РФ Елена и Евгений накануне регистрации брака решили заключить брачный договор. По обоюдному согласию они включили в него пункты о правах и обязанностях в отношении своих будущих детей, о способах участия в доходах друг друга, о порядке несения каждым супругом семейных расходов, а также пункт об обязанности супруги обязательно согласовывать с супругом все вопросы, связанные с её трудоустройством.

- 1) Нотариус, к которому они обратились за удостоверением брачного договора, указал на необходимость исключить два пункта. О каких пунктах из перечисленных выше идёт речь?
- 2) Как Вы можете объяснить свой ответ?
- 3) Какое условие необходимо, чтобы составленный в письменной форме и удостоверенный у нотариуса брачный договор вступил в силу?
- 4) Какие ещё полномочия есть у нотариуса? (Укажите любые два таких полномочия.)

Ответ на первый вопрос: \_\_\_\_\_

Ответ на второй вопрос: \_\_\_\_\_

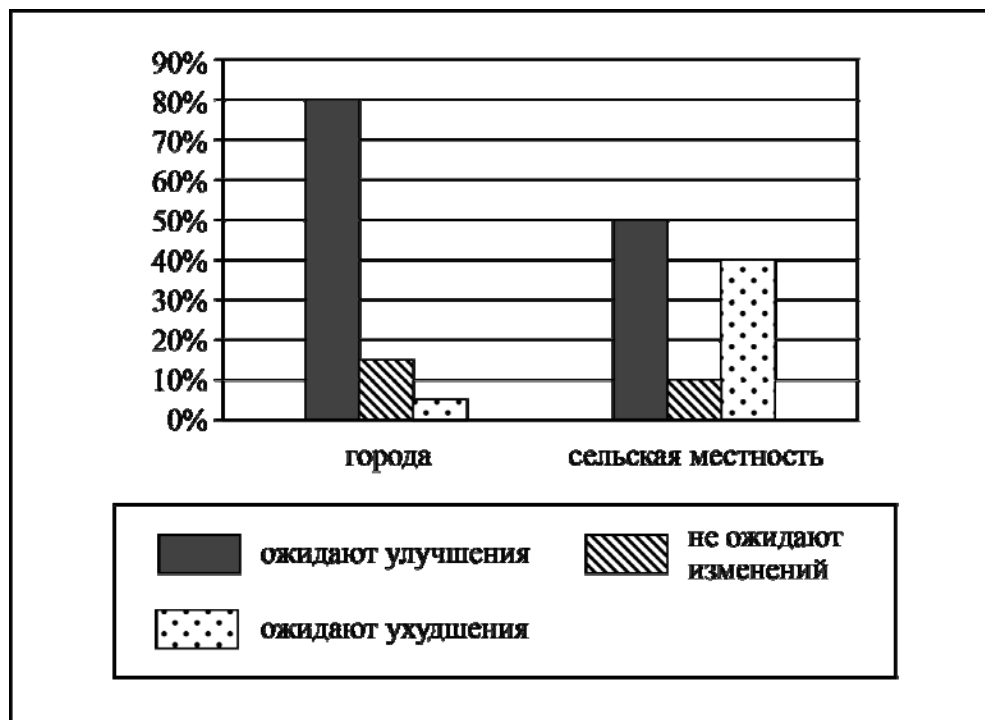
Ответ на третий вопрос: \_\_\_\_\_

Ответ на четвёртый вопрос: \_\_\_\_\_

14

В стране Z начался экономический подъём. В ходе социологического опроса совершеннолетних граждан страны Z им задавали вопрос: «Ожидаете ли вы улучшения своего материального положения в течение ближайших пяти лет?»

Результаты опроса (в % от числа отвечавших) представлены в виде диаграммы.



Сформулируйте по одному выводу: а) о сходстве; б) о различии в позициях групп опрошенных. Выскажите предположение о том, чем объясняются указанные Вами: а) сходство; б) различие.

Ответ: \_\_\_\_\_

\_\_\_\_\_

\_\_\_\_\_

\_\_\_\_\_

\_\_\_\_\_

\_\_\_\_\_

\_\_\_\_\_

\_\_\_\_\_

\_\_\_\_\_

\_\_\_\_\_

\_\_\_\_\_

\_\_\_\_\_

\_\_\_\_\_

\_\_\_\_\_

\_\_\_\_\_

\_\_\_\_\_

\_\_\_\_\_

\_\_\_\_\_

\_\_\_\_\_

\_\_\_\_\_

\_\_\_\_\_

\_\_\_\_\_

\_\_\_\_\_

\_\_\_\_\_

15

Назовите не менее четырёх действий безопасного поведения, которые гражданин должен выполнить в случае, если на его глазах произошло падение человека с высоты.

Ответ: \_\_\_\_\_

---

---

---

---

---

---

---

---

---

---

16

Водоворот может возникнуть как на реке, так и на акватории вблизи морского побережья. Он возникает, когда встречаются два противоположно направленных течения. Это может быть у препятствия, песчаной или каменной гряды. Водовороты могут быть постоянными (на реке) и временно возникающими, например, когда это связано с приливо-отливными течениями у морского побережья.

Человек купается в реке и попал в водоворот. Объясните, в чём состоит опасность данной ситуации.

Назовите не менее двух действий, которые нужно предпринять человеку, оказавшемуся в подобной ситуации.

Ответ: \_\_\_\_\_

---

---

---

---

---

---

---

---

---

---

17

Определите регион России по его краткому описанию.

Эта область относится к числу наиболее крупных по площади территории в России. Её побережье омывается водами двух морей. Много рек, болот и заболоченных земель. Большую часть территории занимает тайга. Административный центр – одновременно речной и морской порт. Средняя плотность населения менее 2,5 человека на 1 км<sup>2</sup>.

Ответ: \_\_\_\_\_.

18

Прочитайте приведённый ниже текст, в котором пропущен ряд слов. Выберите из предлагаемого списка слова, которые необходимо вставить на места пропусков.

### Географические особенности Европейского Севера России

Европейский Север как крупный район России имеет ряд географических особенностей. Большая часть территории района расположена в природной зоне \_\_\_\_\_(А). Суровые природные условия оказывают влияние на размещение населения. Район характеризуется \_\_\_\_\_(Б) показателем средней плотности населения. В районе получили развитие металлургия, машиностроение, химическая промышленность, отрасли ТЭК. Этот район является единственным среди районов Европейской части России, в котором традиционной отраслью сельского хозяйства является \_\_\_\_\_(В). Большое значение для хозяйства района имеет железнодорожный транспорт, обеспечивающий около 70% грузовых перевозок.

Выбирайте последовательно одно слово за другим, мысленно вставляя на места пропусков слова из списка в нужной форме. Обратите внимание на то, что слов в списке больше, чем Вам потребуется для заполнения пропусков. Каждое слово может быть использовано только один раз.

Список слов:

- 1) тайга
- 2) тундра
- 3) высокий
- 4) низкий
- 5) свиноводство
- 6) оленеводство

В данной ниже таблице приведены буквы, обозначающие пропущенные слова. Запишите в таблицу под каждой буквой номер выбранного Вами слова.

Ответ:

А	Б	В

19

Установите соответствие между республикой в составе РФ и её столицей: к каждому элементу первого столбца подберите соответствующий элемент из второго столбца.

### РЕСПУБЛИКА

- А) Хакасия
- Б) Бурятия
- В) Кабардино-Балкарская

### СТОЛИЦА

- 1) Абакан
- 2) Улан-Удэ
- 3) Уфа
- 4) Нальчик

Запишите в таблицу выбранные цифры под соответствующими буквами.

Ответ:

А	Б	В

20

Потенциал российских регионов для развития туризма огромен. Каждый из них имеет рекреационные ресурсы, способные привлечь тысячи туристов из России и зарубежных стран. Определите субъект Российской Федерации по описанию его рекреационного потенциала.

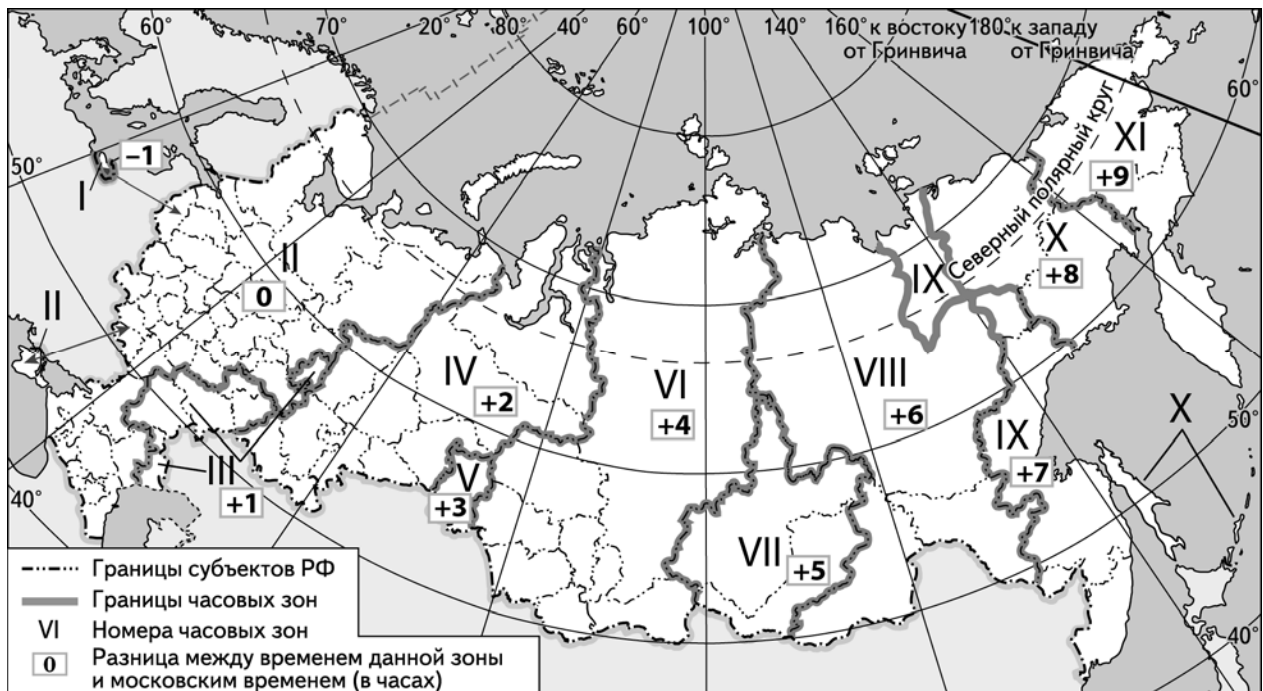
«Область обладает огромным потенциалом для развития культурно-познавательного туризма. Здесь можно посетить такие природные достопримечательности, как национальный парк "Русский Север" и Дарвинский государственный заповедник. Туристам предоставляется возможность побывать на пятидесятиметровом обрыве берега Онежского озера. Город Великий Устюг известен на всю Россию как "родина Деда Мороза"».

Ответ: \_\_\_\_\_

21

Матчи футбольной Лиги чемпионов УЕФА проходят по средам и начинаются в 22:00 по московскому времени.

Используя карту, определите, в каких из перечисленных регионов России прямая трансляция начинается в четверг. Запишите **цифры**, под которыми они указаны.



- 1) Волгоградская область
- 2) Иркутская область
- 3) Калининградская область
- 4) Кемеровская область
- 5) Республика Бурятия
- 6) Республика Карелия

Ответ: \_\_\_\_\_.

22

Многие банки предоставляют возможность подключения автоплатежа за коммунальные услуги, который оформляется через личный кабинет клиента на сайте соответствующего банка.

1) Какие сведения должен указать клиент в своём личном кабинете?

Ответ: \_\_\_\_\_  
\_\_\_\_\_  
\_\_\_\_\_  
\_\_\_\_\_  
\_\_\_\_\_  
\_\_\_\_\_

2) Как Вы думаете, что будет происходить после запуска клиентом данной услуги?

Ответ: \_\_\_\_\_  
\_\_\_\_\_  
\_\_\_\_\_  
\_\_\_\_\_  
\_\_\_\_\_  
\_\_\_\_\_

3) В чём преимущество автоплатежа перед другими способами оплаты коммунальных услуг? (Укажите любые два преимущества.)

Ответ: \_\_\_\_\_  
\_\_\_\_\_  
\_\_\_\_\_  
\_\_\_\_\_  
\_\_\_\_\_  
\_\_\_\_\_

4) Как Вы думаете, почему некоторые граждане не заинтересованы в оформлении автоплатежа? (Выскажите своё предположение.)

Ответ: \_\_\_\_\_  
\_\_\_\_\_  
\_\_\_\_\_  
\_\_\_\_\_  
\_\_\_\_\_  
\_\_\_\_\_

