

Всероссийская проверочная работа
по профильному учебному предмету «МАТЕМАТИКА»
для обучающихся по программам среднего профессионального образования,
завершивших в предыдущем учебном году освоение общеобразовательных предметов,
проходящих обучение по очной форме на базе основного общего образования.

Вариант 20292

Инструкция по выполнению работы

На выполнение работы по математике отводится 2 часа (120 минут). Работа включает в себя 15 заданий.

Ответы на задания запишите в поля ответов в тексте работы. В случае записи неверного ответа зачеркните его и запишите рядом новый.

При выполнении работы не разрешается пользоваться учебниками, рабочими тетрадями, справочниками, калькулятором.

При необходимости можно пользоваться черновиком. Записи в черновике проверяться и оцениваться не будут.

Советуем выполнять задания в том порядке, в котором они даны. Для экономии времени пропускайте задание, которое не удаётся выполнить сразу, и переходите к следующему. Если после выполнения всей работы у Вас останется время, то Вы сможете вернуться к пропущенным заданиям.

Баллы, полученные Вами за выполненные задания, суммируются. Постарайтесь выполнить как можно больше заданий и набрать наибольшее количество баллов.

Желаем успеха!

Таблица для внесения баллов участника

Номер задания	1	2	3	4	5	6	7	8	9	10	11	12	13	14	15	Сумма баллов	Отметка за работу
Баллы																	

1 Найдите значение выражения $\frac{7,3-2,5}{1,2}$.

Ответ: _____.

2 В городе 130 000 жителей, причём 40% — это пенсионеры. Сколько пенсионеров в этом городе?

Ответ: _____.

3 Площадь четырёхугольника можно вычислить по формуле $S = \frac{1}{2}d_1d_2 \sin \alpha$, где d_1 и d_2 — длины диагоналей четырёхугольника, α — угол между диагоналями. Пользуясь этой формулой, найдите площадь S , если $d_1 = 6$, $d_2 = 14$ и $\sin \alpha = \frac{6}{7}$.

Ответ: _____.

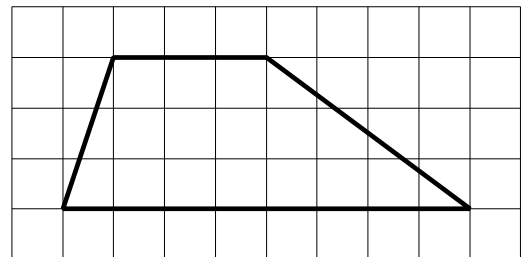
4 Найдите значение выражения $\frac{\sqrt{18}}{\sqrt{2}}$.

Ответ: _____.

5 Сырок стоит 16 рублей. Какое наибольшее число сырков можно купить на 205 рублей?

Ответ: _____.

6 На клетчатой бумаге с размером клетки 1×1 изображена трапеция. Найдите её площадь.



Ответ: _____.

7 Турист подбирает экскурсии. Сведения об экскурсиях представлены в таблице.


Номер экскурсии	Посещаемые объекты	Стоимость (руб.)
1	Загородный дворец	350
2	Загородный дворец, музей живописи	400
3	Парк, крепость	300
4	Загородный дворец, парк	200
5	Крепость	200
6	Музей живописи	150

Пользуясь таблицей, выберите набор экскурсий так, чтобы турист посетил четыре объекта: крепость, загородный дворец, парк и музей живописи, а суммарная стоимость экскурсий не превышала 650 рублей.

В ответе укажите какой-нибудь один набор номеров экскурсий без пробелов, запятых и других дополнительных символов.

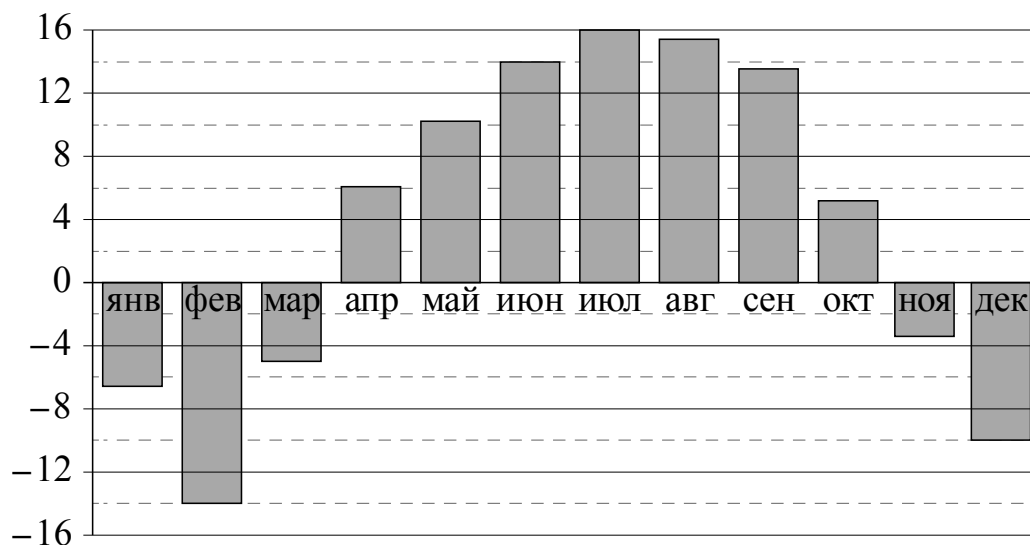
Ответ: _____.

8 Даны две кружки цилиндрической формы. Первая кружка в четыре с половиной раза выше второй, а вторая в полтора раза шире первой. Во сколько раз объём второй кружки меньше объёма первой?



Ответ: _____.

9 На диаграмме показана среднемесячная температура воздуха в Нижнем Новгороде за каждый месяц 1994 года. По горизонтали указываются месяцы, по вертикали — температура в градусах Цельсия. Определите по приведённой диаграмме, сколько было месяцев с положительной среднемесячной температурой.



Ответ: _____.

10

Перед волейбольным турниром измерили рост игроков волейбольной команды города N. Оказалось, что рост каждого из волейболистов этой команды больше 190 см и меньше 210 см. Выберите утверждения, которые верны при указанных условиях.

- 1) В волейбольной команде города N обязательно есть игрок, рост которого равен 220 см.
- 2) В волейбольной команде города N нет игроков с ростом 189 см.
- 3) Рост любого волейболиста этой команды меньше 210 см.
- 4) Разница в росте любых двух игроков волейбольной команды города N составляет более 20 см.

В ответе запишите номера выбранных утверждений без пробелов, запятых и других дополнительных символов.

Ответ: _____.

11

Научная конференция проводится в 3 дня. Всего запланировано 70 докладов: в первый день 28 докладов, остальные распределены поровну между вторым и третьим днями. На конференции планируется доклад профессора M. Порядок докладов определяется жеребьёвкой. Какова вероятность того, что доклад профессора M. окажется запланированным на последний день конференции?

Ответ: _____.

12

Найдите корень уравнения $\sqrt{22-3x} = 2$.

Ответ: _____.

13

Каждому из четырёх неравенств в левом столбце соответствует одно из решений в правом столбце. Установите соответствие между неравенствами и их решениями.

НЕРАВЕНСТВА

РЕШЕНИЯ

А) $\log_4 x > 1$

1) $0 < x < \frac{1}{4}$

Б) $\log_4 x > -1$

2) $x > \frac{1}{4}$

В) $\log_4 x < -1$

3) $0 < x < 4$

Г) $\log_4 x < 1$

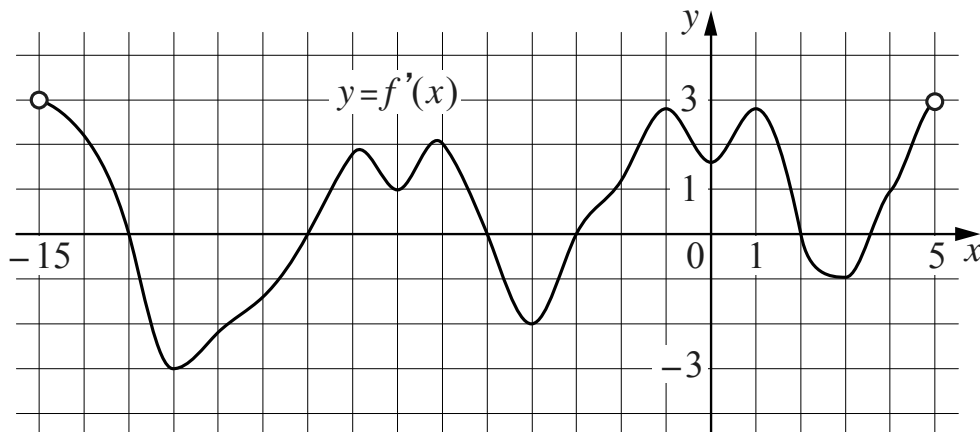
4) $x > 4$

Впишите в приведённую в ответе таблицу под каждой буквой соответствующий решению номер.

Ответ:

А	Б	В	Г

- 14 На рисунке изображён график $y = f'(x)$ — производной функции $f(x)$, определённой на интервале $(-15; 5)$. Найдите количество точек максимума функции $f(x)$, принадлежащих отрезку $[-11; 4]$.



□ Ответ: _____.

- 15 Теплоход проходит по течению реки до пункта назначения 775 км и после стоянки возвращается в пункт отправления. Найдите скорость течения, если скорость теплохода в неподвижной воде равна 28 км/ч, стоянка длится 5 часов, а в пункт отправления теплоход возвращается через 61 час. Ответ дайте в км/ч.

□ Ответ: _____.