

Всероссийская проверочная работа
по профильному учебному предмету «МАТЕМАТИКА»
для обучающихся по программам среднего профессионального образования,
завершивших в предыдущем учебном году освоение общеобразовательных предметов,
проходящих обучение по очной форме на базе основного общего образования.

Вариант 18885

Инструкция по выполнению работы

На выполнение работы по математике отводится 2 часа (120 минут). Работа включает в себя 15 заданий.

Ответы на задания запишите в поля ответов в тексте работы. В случае записи неверного ответа зачеркните его и запишите рядом новый.

При выполнении работы не разрешается пользоваться учебниками, рабочими тетрадями, справочниками, калькулятором.

При необходимости можно пользоваться черновиком. Записи в черновике проверяться и оцениваться не будут.

Советуем выполнять задания в том порядке, в котором они даны. Для экономии времени пропускайте задание, которое не удаётся выполнить сразу, и переходите к следующему. Если после выполнения всей работы у Вас останется время, то Вы сможете вернуться к пропущенным заданиям.

Баллы, полученные Вами за выполненные задания, суммируются. Постарайтесь выполнить как можно больше заданий и набрать наибольшее количество баллов.

Желаем успеха!

Таблица для внесения баллов участника

Номер задания	1	2	3	4	5	6	7	8	9	10	11	12	13	14	15	Сумма баллов	Отметка за работу
Баллы																	

1 Найдите значение выражения $0,55 \cdot \frac{11}{13} + 3$.

□ Ответ: _____.

2 Площадь земель фермерского хозяйства, отведённых под посадку сельскохозяйственных культур, составляет 49 гектаров и распределена между зерновыми культурами и картофелем в отношении 2:5 соответственно. Сколько гектаров занимает картофель?

□ Ответ: _____.

3 Площадь четырёхугольника можно вычислить по формуле $S = \frac{1}{2}d_1d_2 \sin \alpha$, где d_1 и d_2 — длины диагоналей четырёхугольника, α — угол между диагоналями. Пользуясь этой формулой, найдите площадь S , если $d_1 = 4$, $d_2 = 7$ и $\sin \alpha = \frac{2}{7}$.

□ Ответ: _____.

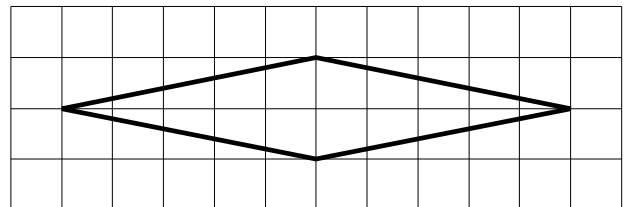
4 Найдите значение выражения $(\sqrt{22} - 1)(\sqrt{22} + 1)$.

□ Ответ: _____.

5 Сырок стоит 18 рублей. Какое наибольшее число сырков можно купить на 190 рублей?

□ Ответ: _____.

6 На клетчатой бумаге с размером клетки 1×1 изображён ромб. Найдите его площадь.



□ Ответ: _____.

7

Для обслуживания международного семинара необходимо собрать группу переводчиков. Сведения о кандидатах представлены в таблице.

Номер переводчика	Языки	Стоимость услуг (руб. в день)
1	Французский	3050
2	Французский, английский	6050
3	Английский, испанский	6800
4	Французский, немецкий	5850
5	Немецкий	1900
6	Испанский	3900

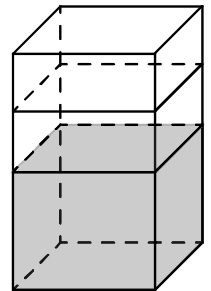
Пользуясь таблицей, соберите хотя бы одну группу, в которой переводчики вместе владеют всеми четырьмя языками: английским, немецким, испанским и французским, а суммарная стоимость их услуг не превышает 12 000 рублей в день.

В ответе укажите какой-нибудь один набор номеров переводчиков без пробелов, запятых и других дополнительных символов.

Ответ: _____.

8

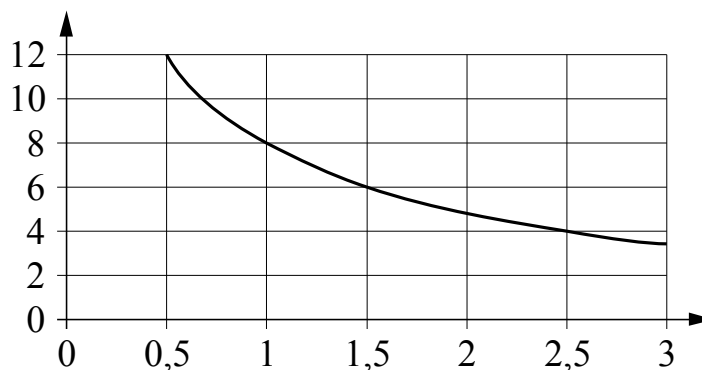
В бак, имеющий форму правильной четырёхугольной призмы со стороной основания 10 см, налита жидкость. Чтобы измерить объём детали сложной формы, её полностью погружают в эту жидкость. Найдите объём детали, если после её погружения уровень жидкости в баке поднялся на 30 см. Ответ дайте в кубических сантиметрах.



Ответ: _____.

9

Мощность отопителя в автомобиле регулируется дополнительным сопротивлением. При этом меняется сила тока в электрической цепи электродвигателя: чем меньше сопротивление, тем больше сила тока и тем быстрее вращается мотор отопителя. На графике показана зависимость силы тока от величины сопротивления. На горизонтальной оси отмечено сопротивление в омах, на вертикальной оси — сила тока в амперах. Определите по графику сопротивление цепи при силе тока 6 ампер. Ответ дайте в омах.



Ответ: _____.

10

В доме Кости больше этажей, чем в доме Олега, в доме Тани меньше этажей, чем в доме Олега, а в доме Феде больше этажей, чем в Танином доме. Выберите утверждения, которые верны при указанных условиях.

- 1) Дом Тани самый малоэтажный среди перечисленных четырёх.
- 2) В доме Тани больше этажей, чем в доме Феде.
- 3) В Костином доме больше этажей, чем в Танином.
- 4) Среди этих четырёх домов есть три дома с одинаковым количеством этажей.

В ответе запишите номера выбранных утверждений без пробелов, запятых и других дополнительных символов.

Ответ: _____.

11

Чтобы пройти в следующий круг соревнований, футбольной команде нужно набрать хотя бы 4 очка в двух играх. Если команда выигрывает, она получает 3 очка, в случае ничьей — 1 очко, если проигрывает — 0 очков. Найдите вероятность того, что команде удастся выйти в следующий круг соревнований. Считайте, что в каждой игре вероятности выигрыша и проигрыша одинаковы и равны 0,2.

Ответ: _____.

12

Найдите корень уравнения $4^{-6-x} = 64$.

Ответ: _____.

13

Каждому из четырёх чисел в левом столбце соответствует отрезок, которому оно принадлежит. Установите соответствие между числами и отрезками из правого столбца.

ЧИСЛА

ОТРЕЗКИ

А) $\log_2 35$

1) $[1; 2]$

Б) $\frac{7}{4}$

2) $[2; 3]$

В) $\sqrt{13}$

3) $[3; 4]$

Г) $0,39^{-1}$

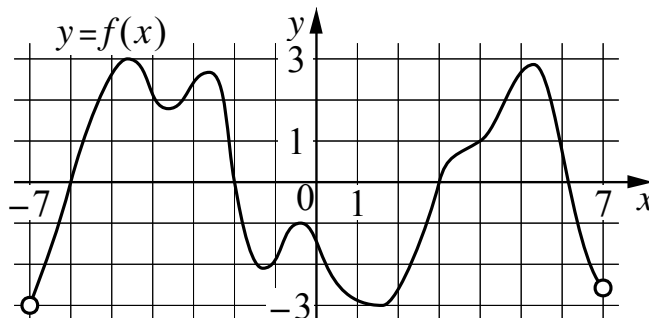
4) $[5; 6]$

Впишите в приведённую в ответе таблицу под каждой буквой соответствующий отрезку номер.

Ответ:

А	Б	В	Г

- 14 На рисунке изображён график функции $y = f(x)$, определённой на интервале $(-7; 7)$. Определите количество целых точек, в которых производная функции положительна.



Ответ: _____.

- 15 Расстояние между городами А и В равно 670 км. Из города А в город В выехал первый автомобиль, а через два часа после этого навстречу ему из города В выехал со скоростью 90 км/ч второй автомобиль. Найдите скорость первого автомобиля, если автомобили встретились на расстоянии 400 км от города А. Ответ дайте в км/ч.

Ответ: _____.