

**Всероссийская проверочная работа**  
**по профильному учебному предмету «ХИМИЯ»**  
**для обучающихся по программам среднего профессионального образования,**  
**завершивших в предыдущем учебном году освоение общеобразовательных предметов,**  
**проходящих обучение по очной форме на базе основного общего образования.**

**Вариант 62580**

**Инструкция по выполнению работы**

Проверочная работа включает в себя 15 заданий. На выполнение работы по химии отводится 1 час 30 минут (90 минут).

Оформляйте ответы в тексте работы согласно инструкциям к заданиям. В случае записи неверного ответа зачеркните его и запишите рядом новый.

При выполнении работы разрешается использовать следующие дополнительные материалы:

- Периодическая система химических элементов Д.И. Менделеева;
- таблица растворимости солей, кислот и оснований в воде;
- электрохимический ряд напряжений металлов;
- непрограммируемый калькулятор.

При выполнении заданий Вы можете использовать черновик. Записи в черновике проверяться и оцениваться не будут.

Советуем выполнять задания в том порядке, в котором они даны. Для экономии времени пропускайте задание, которое не удаётся выполнить сразу, и переходите к следующему. Если после выполнения всей работы у Вас останется время, Вы сможете вернуться к пропущенным заданиям.

Баллы, полученные Вами за выполненные задания, суммируются. Постарайтесь выполнить как можно больше заданий и набрать наибольшее количество баллов.

***Желаем успеха!***

*Таблица для внесения баллов участника*

Номер задания	1	2	3	4	5	6	7	8	9	10	11	12	13	14	15	Сумма баллов	Отметка за работу
Баллы																	

1

Одним из научных методов познания веществ и химических явлений является моделирование. Так, модели молекул отражают характерные признаки реальных объектов. На рис. 1–3 изображены модели молекул трёх веществ.

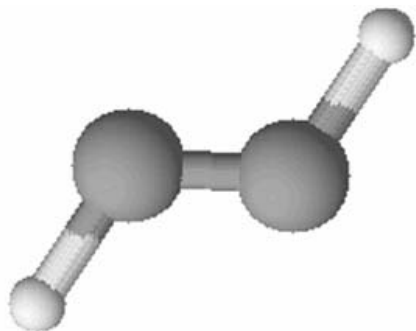


Рис. 1

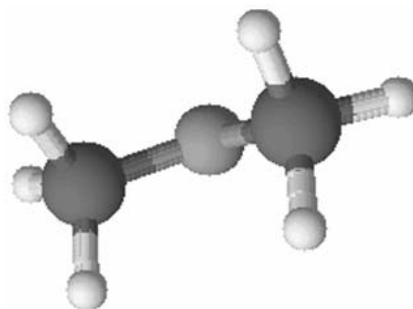


Рис. 2

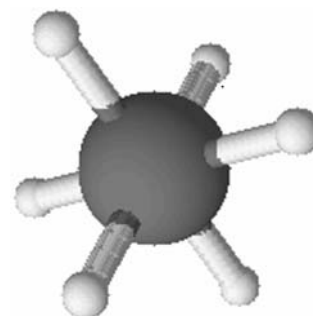


Рис. 3

Проанализируйте данные модели молекул веществ и определите вещество:

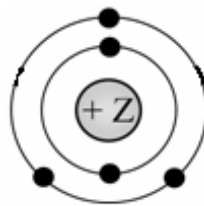
- 1) состав которого выражается формулой  $SF_6$ ;
- 2) содержит два двухвалентных атома.

Запишите в таблицу номера рисунков и укажите количество атомов в молекулах выбранных веществ.

Вещество	Номер рисунка	Количество атомов в молекуле
состав которого выражается формулой $SF_6$		
содержит два двухвалентных атома		

2

На рисунке изображена модель электронного строения атома некоторого химического элемента.



Ознакомьтесь с предложенной моделью и выполните следующие задания:

- 1) определите заряд ядра атома химического элемента, атом которого имеет такое электронное строение;
- 2) укажите номер периода и номер группы в Периодической системе химических элементов Д.И. Менделеева, в которых расположен этот элемент;
- 3) определите, к какой группе оксидов (кислотным, основным или амфотерным) относится высший оксид этого химического элемента.

Ответы запишите в таблицу.

Заряд ядра	№ периода	№ группы	Оксид

3

Периодическая система химических элементов Д.И. Менделеева – богатое хранилище информации о химических элементах, их свойствах и свойствах их соединений. Так, например, известно, что с увеличением порядкового номера химического элемента основной характер оксидов в периодах ослабевает, а в группах усиливается.

Учитывая эти закономерности, расположите в порядке усиления основных свойств их высших оксидов следующие элементы: германий, углерод, кремний. В ответе запишите символы элементов в нужной последовательности.

Ответ: \_\_\_\_\_

4

В приведённой ниже таблице дана некоторая информация о видах химической связи: ковалентной и ионной.

<b>Химическая связь</b>	
<b>Ковалентная</b>	<b>Ионная</b>
Образована атомами одного и того же элемента-неметалла или атомами различных неметаллов	Образована атомами металла и неметалла

Используя данную информацию определите, в каком из веществ: NaBr, O<sub>3</sub>, Hg присутствует ковалентная связь, а в каком – ионная.

Запишите в соответствующие ячейки формулы выбранных веществ:

Вещество с ковалентной связью	
Вещество с ионной связью	

**Прочитайте следующий текст и выполните задания 5–7.**

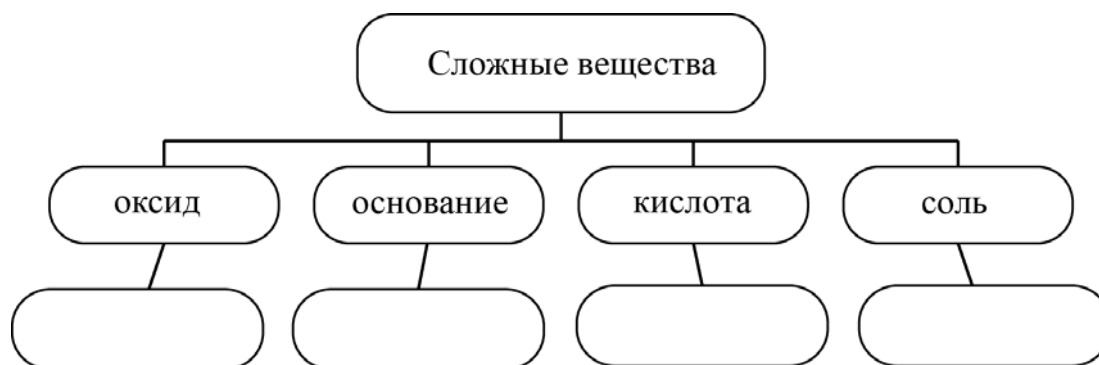
Оксид цинка ( $ZnO$ ) – вещество белого цвета, в обычных условиях довольно устойчивое, практически нерастворимое в воде. Образуется при обжиге сульфидных минералов цинка – сфалерита и вюрцита ( $ZnS$ ). Оксид цинка широко используется при производстве цинковых белил, приготовлении медицинской цинковой мази, в качестве катализатора в химической промышленности. Оксиду цинка соответствует гидроксид, проявляющий амфотерные свойства. Так, он взаимодействует как с кислотами (например,  $HNO_3$ ), так и с щелочами (например,  $NaOH$ ).

В лаборатории оксид цинка можно получить разложением карбоната ( $ZnCO_3$ ) или гидроксида цинка.

Оксид цинка проявляет очень слабые окислительные свойства, восстанавливаясь при нагревании до цинка, например, под действием водорода ( $H_2$ ) или металлического алюминия.

5

Сложные неорганические вещества условно можно распределить, то есть классифицировать, по четырём группам, как показано на схеме. В эту схему для каждой из четырёх групп *впишите* по одной химической формуле веществ из тех, о которых говорится в приведённом выше тексте.



6

1) Составьте молекулярное уравнение реакции между оксидом цинка и водородом.

Ответ: \_\_\_\_\_

2) Какие свойства в этой реакции проявляет водород?

Ответ: \_\_\_\_\_

7

1) Составьте молекулярное уравнение взаимодействия оксида цинка с азотной кислотой.

Ответ: \_\_\_\_\_

2) Укажите, к какому типу (соединения, разложения, замещения, обмена) относится эта реакция.

Ответ: \_\_\_\_\_

8

В составе аквариумной воды были обнаружены следующие ионы:  $\text{Na}^+$ ,  $\text{Fe}^{3+}$ ,  $\text{Cl}^-$ . Для проведения качественного анализа к этой воде добавили раствор  $\text{KOH}$ .

1. Укажите, какое изменение можно наблюдать в растворе при проведении данного опыта, учитывая, что концентрация веществ является достаточной для проведения анализа.

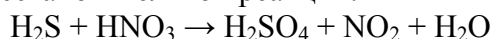
Ответ: \_\_\_\_\_

2. Запишите сокращённое ионное уравнение произошедшей химической реакции.

Ответ: \_\_\_\_\_

9

Дана схема окислительно-восстановительной реакции.



1. Составьте электронный баланс этой реакции.

Ответ: \_\_\_\_\_

2. Укажите окислитель и восстановитель.

Ответ: \_\_\_\_\_

3. Расставьте коэффициенты в уравнении реакции.

Ответ: \_\_\_\_\_

10

Дана схема превращений:



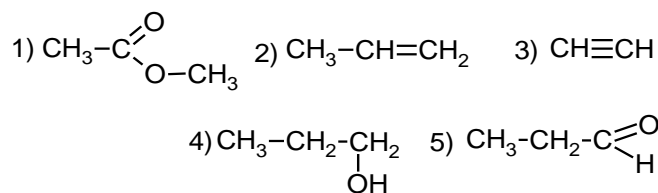
Напишите молекулярные уравнения реакций, с помощью которых можно осуществить указанные превращения.

1) \_\_\_\_\_

2) \_\_\_\_\_

3) \_\_\_\_\_

Для выполнения заданий 11–13 используйте вещества, структурные формулы которых приведены в перечне:



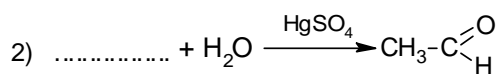
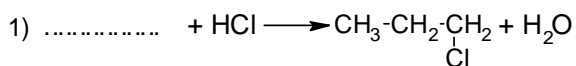
11

Из приведённого перечня выберите алкин и сложный эфир. Запишите в таблицу номера, под которыми указаны эти соединения.

Алкин	Сложный эфир

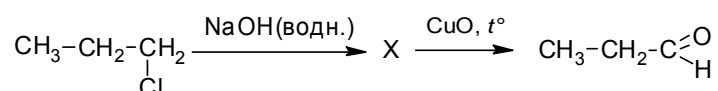
12

Составьте уравнения реакций: в предложенные схемы химических реакций впишите структурные формулы пропущенных веществ и расставьте коэффициенты.



13

Пропаналь получают из углеводородов нефти и используют для получения красок и алкидных эмалей. В лабораторных условиях пропаналь можно получить в соответствии с приведённой схемой превращений:



Определите вещество X, выбрав его из предложенного выше перечня веществ. Запишите уравнения двух реакций, с помощью которых можно осуществить эти превращения. Запишите название вещества X. При написании уравнений реакций используйте структурные формулы органических веществ.

1) \_\_\_\_\_

2) \_\_\_\_\_

Запишите название вещества X.

3) \_\_\_\_\_

14

Одним из важных понятий в экологии и химии является «предельно допустимая концентрация» (ПДК). ПДК — это такая концентрация вещества в окружающей среде, которая при повседневном воздействии в течение длительного времени не оказывает прямого или косвенного неблагоприятного влияния на настоящее или будущее поколение, не снижает работоспособности человека, не ухудшает его самочувствия и условий жизни.

ПДК аммиака в воздухе составляет  $0,04 \text{ мкг/дм}^3$ .

В теплице, в которой подкормка растений осуществляется отходящими газами котельной, в цилиндрический сосуд с площадью дна  $0,2 \text{ дм}^2$  и высотой  $1,4 \text{ дм}$  была отобрана проба воздуха. Химический анализ показал, что в данном объеме воздуха содержится  $0,014 \text{ мкг}$  аммиака. Определите и подтвердите расчётами, превышает ли концентрация аммиака в воздухе данной теплицы значение ПДК. Предложите способ, позволяющий снизить концентрацию аммиака в теплице.

Ответ: \_\_\_\_\_

\_\_\_\_\_

\_\_\_\_\_

15

Для умягчения воды используется 1%-ный раствор щавелевой кислоты. Рассчитайте, какую массу щавелевой кислоты и массу воды необходимо взять для получения  $700 \text{ кг}$  такого раствора. Запишите подробное решение задачи.

Ответ: \_\_\_\_\_

\_\_\_\_\_

\_\_\_\_\_