



Основной Государственный Экзамен по МАТЕМАТИКЕ

Инструкция по выполнению работы

Экзаменационная работа состоит из двух частей, включающих в себя 25 заданий. Часть 1 содержит 19 заданий, часть 2 содержит 6 заданий с развёрнутым ответом.

На выполнение экзаменационной работы по математике отводится 3 часа 55 минут (235 минут).

Ответы к заданиям 7 и 13 запишите в бланк ответов № 1 в виде одной цифры, которая соответствует номеру правильного ответа.

Для остальных заданий части 1 ответом является число или последовательность цифр. Ответ запишите в поле ответа в тексте работы, а затем перенесите в бланк ответов № 1. Если получилась обыкновенная дробь, ответ запишите в виде десятичной.

Решения заданий части 2 и ответы к ним запишите на бланке ответов № 2. Задания можно выполнять в любом порядке. Текст задания переписывать не надо, необходимо только указать его номер.

Все бланки заполняются яркими чёрными чернилами. Допускается использование гелевой или капиллярной ручки.

Сначала выполняйте задания части 1. Начать советуем с тех заданий, которые вызывают у Вас меньше затруднений, затем переходите к другим заданиям. Для экономии времени пропускайте задание, которое не удаётся выполнить сразу, и переходите к следующему. Если у Вас останется время, Вы сможете вернуться к пропущенным заданиям.

При выполнении части 1 все необходимые вычисления, преобразования выполняйте в черновике. **Записи в черновике, а также в тексте контрольных измерительных материалов не учитываются при оценивании работы.**

Если задание содержит рисунок, то на нём непосредственно в тексте работы можно выполнять необходимые Вам построения. Рекомендуем внимательно читать условие и проводить проверку полученного ответа.

При выполнении работы Вы можете воспользоваться справочными материалами, выданными вместе с вариантом КИМ.

Баллы, полученные Вами за выполненные задания, суммируются. Постарайтесь выполнить как можно больше заданий и набрать наибольшее количество баллов.

Для прохождения аттестационного порога необходимо набрать не менее 8 баллов, из которых не менее 2 баллов должны быть получены за решение заданий по геометрии (задания 15–19, 23–25).

После завершения работы проверьте, чтобы ответ на каждое задание в бланках ответов №1 и №2 был записан под правильным номером.

Желаем успеха!

СПРАВОЧНЫЕ МАТЕРИАЛЫ

АЛГЕБРА

- Формула корней квадратного уравнения:

$$x = \frac{-b \pm \sqrt{D}}{2a}, \text{ где } D = b^2 - 4ac.$$

- Если квадратный трёхчлен $ax^2 + bx + c$ имеет два корня: x_1 и x_2 , то

$$ax^2 + bx + c = a(x - x_1)(x - x_2);$$

- если квадратный трёхчлен $ax^2 + bx + c$ имеет единственный корень x_0 , то

$$ax^2 + bx + c = a(x - x_0)^2.$$

- Формула n -го члена арифметической прогрессии (a_n) , первый член которой равен a_1 и разность равна d :

$$a_n = a_1 + d(n - 1).$$

- Формула суммы первых n членов арифметической прогрессии:

$$S_n = \frac{(a_1 + a_n)n}{2}.$$

- Формула n -го члена геометрической прогрессии b_n , первый член которой равен b_1 , а знаменатель равен q :

$$b_n = b_1 \cdot q^{n-1}.$$

- Формула суммы первых n членов геометрической прогрессии:

$$S_n = \frac{(q^n - 1)b_1}{q - 1}.$$

Таблица квадратов двузначных чисел

		Единицы									
		0	1	2	3	4	5	6	7	8	9
Десятки	1	100	121	144	169	196	225	256	289	324	361
	2	400	441	484	529	576	625	676	729	784	841
	3	900	961	1024	1089	1156	1225	1296	1369	1444	1521
	4	1600	1681	1764	1849	1936	2025	2116	2209	2304	2401
	5	2500	2601	2704	2809	2916	3025	3136	3249	3364	3481
	6	3600	3721	3844	3969	4096	4225	4356	4489	4624	4761
	7	4900	5041	5184	5329	5476	5625	5776	5929	6084	6241
	8	6400	6561	6724	6889	7056	7225	7396	7569	7744	7921
	9	8100	8281	8464	8649	8836	9025	9216	9409	9604	9801

ГЕОМЕТРИЯ

Часть 1

- Сумма углов выпуклого n -угольника равна $180^\circ(n-2)$.
- Радиус r окружности, вписанной в правильный треугольник со стороной a , равен $\frac{\sqrt{3}}{6}a$.
- Радиус R окружности, описанной около правильного треугольника со стороной a , равен $\frac{\sqrt{3}}{3}a$.

- Для треугольника ABC со сторонами $AB = c$, $AC = b$, $BC = a$:

$$\frac{a}{\sin A} = \frac{b}{\sin B} = \frac{c}{\sin C} = 2R,$$

где R — радиус описанной окружности.

- Для треугольника ABC со сторонами $AB = c$, $AC = b$, $BC = a$:

$$c^2 = a^2 + b^2 - 2ab \cos C.$$

- Формула длины l окружности радиусом R :

$$l = 2\pi R.$$

- Формула длины l дуги окружности радиусом R , на которую опирается центральный угол в φ градусов:

$$l = \frac{2\pi R \varphi}{360}.$$

- Формула площади S параллелограмма со стороной a и высотой h , проведённой к этой стороне:

$$S = ah.$$

- Формула площади S треугольника со стороной a и высотой h , проведённой к этой стороне:

$$S = \frac{1}{2}ah.$$

- Формула площади S трапеции с основаниями a , b и высотой h :

$$S = \frac{a+b}{2}h.$$

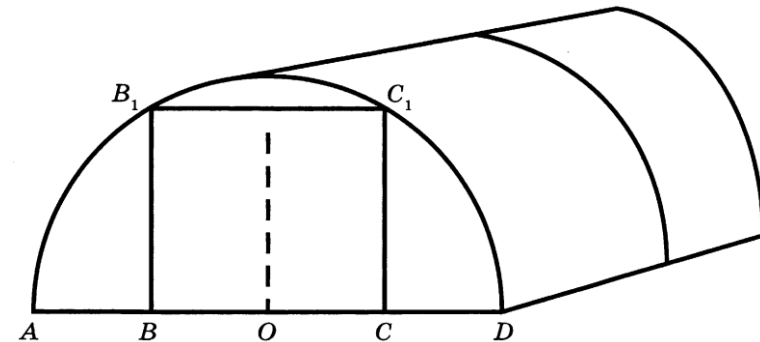
- Формула площади S круга радиусом R :

$$S = \pi R^2.$$

Ответами к заданиям 1–20 являются число или последовательность цифр, которые следует записать в БЛАНК ОТВЕТОВ № 1 справа от номера соответствующего задания, начиная с первой клеточки. Если ответом является последовательность цифр, то запишите её без пробелов, запятых и других дополнительных символов. Каждый символ пишите в отдельной клеточке в соответствии с приведёнными в бланке образцами.

Прочитайте внимательно текст и выполните задания 1-5

Сергей Петрович решил построить на дачном участке теплицу длиной 4 м. Для этого он сделал прямоугольный фундамент. Для каркаса теплицы Сергей Петрович заказал металлические дуги в форме полуокружностей длиной 5 м каждая и покрытие для обтяжки.



Отдельно требуется купить плёнку для передней и задней стенок теплицы. В передней стенке планируется вход, показанный на рисунке прямоугольником BCC_1B_1 , где точки B , O и C делят отрезок AD на четыре равные части. Внутри теплицы Сергей Петрович планирует сделать три грядки по длине теплицы – одну центральную широкую грядку и две узкие грядки по краям. Между грядками будут дорожки шириной 40 см, для которых необходимо купить тротуарную плитку размером 20 см × 20 см.



1 Какое наименьшее количество дуг нужно заказать, чтобы расстояние между соседними дугами было не более 60 см?

Ответ: _____.

2 Сколько упаковок плитки необходимо купить для дорожек между грядками, если она продаётся в упаковках по 6 штук?

Ответ: _____.

3 Найдите ширину теплицы. Ответ дайте в метрах с точностью до десятых.

Ответ: _____.

4 Найдите ширину центральной грядки, если она в два раза больше ширины узкой грядки. Ответ дайте в сантиметрах с точностью до десятков.

Ответ: _____.

5 Найдите высоту входа в теплицу. Ответ дайте в сантиметрах.

Ответ: _____.

6 Найдите значение выражения

$$\frac{16}{3,2 \cdot 2}$$

Ответ: _____.

7 На координатной прямой отмечены числа p , q и r .



Какая из разностей $q - p$, $q - r$, $r - p$ положительна?

- 1) $q - p$
- 2) $q - r$
- 3) $r - p$
- 4) ни одна из них

Ответ:

8 Найдите значение выражения

$$(4b)^2 : b^6 \cdot b^4$$

при $b = 64$.

Ответ: _____.

9 Найдите корень уравнения

$$4(x - 8) = -5.$$

Ответ: _____.



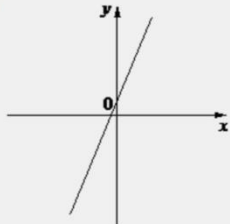
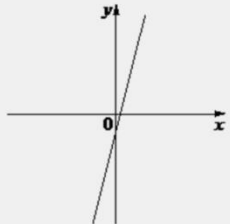
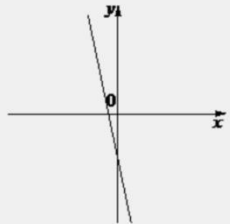


10 В магазине канцтоваров продаётся 100 ручек: 37 красных, 8 зелёных, 17 фиолетовых, остальные синие и чёрные, их поровну. Найдите вероятность того, что случайно выбранная в этом магазине ручка будет красной или чёрной.

Ответ: _____.

11 На рисунках изображены графики функций вида $y = kx + b$. Установите соответствие между графиками функций и знаками коэффициентов k и b .

ГРАФИКИ

А)  Б)  В) 

КОЭФИЦИЕНТЫ

1) $k > 0, b < 0$ 2) $k < 0, b < 0$ 3) $k > 0, b > 0$

В таблице под каждой буквой укажите соответствующий номер.

Ответ:

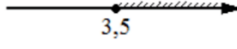
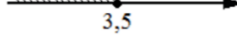
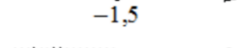
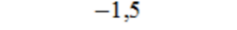
А	Б	В

12 Площадь четырёхугольника можно вычислить по формуле $S = \frac{d_1 d_2 \sin \alpha}{2}$, где d_1 и d_2 – длины диагоналей четырёхугольника, α – угол между диагоналями. Пользуясь этой формулой, найдите длину диагонали d_2 , если $d_1 = 6$, $\sin \alpha = \frac{1}{3}$, а $S = 19$.

Ответ: _____.

13 Укажите решение неравенства

$$4x + 5 \geq 6x - 2.$$

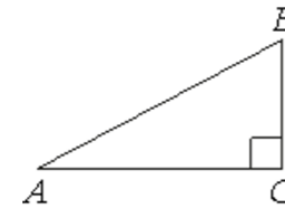
- 1) 
- 2) 
- 3) 
- 4) 

Ответ:

14 В течение 20 банковских дней акции компании дорожали ежедневно на одну и ту же сумму. Сколько стоила акция компании в последний день этого периода, если в 9-й день акция стоила 555 рублей, а в 13-й день – 631 рубль?

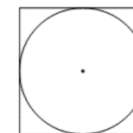
Ответ: _____.

15 В треугольнике ABC угол C равен 90° , $BC = 14$, $AB = 50$. Найдите $\cos B$.



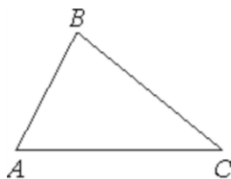
Ответ: _____.

16 Сторона квадрата равна 6. Найдите радиус окружности, вписанной в этот квадрат.



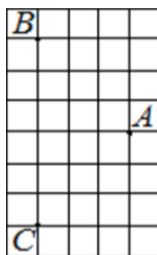
Ответ: _____.

- 17 В треугольнике ABC известно, что $AB = 6$, $BC = 10$, $\sin \angle ABC = \frac{1}{3}$. Найдите площадь треугольника ABC .



Ответ: _____.

- 18 На клетчатой бумаге с размером клетки 1×1 отмечены три точки: A , B и C . Найдите расстояние от точки A до середины отрезка BC .



Ответ: _____.

- 19 Какое из следующих утверждений верно?

- 1) Если два угла одного треугольника равны двум углам другого треугольника, то такие треугольники подобны.
- 2) Сумма углов прямоугольного треугольника равна 90 градусам.
- 3) Каждая из биссектрис равнобедренного треугольника является его медианой.

В ответ запишите номер выбранного утверждения.

Ответ: _____.

*Не забудьте перенести все ответы в бланк ответов № 1 в соответствии с инструкцией по выполнению работы.
Проверьте, чтобы каждый ответ был записан в строке с номером соответствующего задания.*

Часть 2

При выполнении заданий 21–26 используйте БЛАНК ОТВЕТОВ № 2. Сначала укажите номер задания, а затем запишите его решение и ответ. Пишите чётко и разборчиво.

- 20 Решите уравнение

$$x^3 + 3x^2 - x - 3 = 0.$$

- 21 Имеются два сосуда, содержащие 40 кг и 30 кг раствора кислоты различной концентрации. Если их слить вместе, то получим раствор, содержащий 73% кислоты. Если же слить равные массы этих растворов, то полученный раствор будет содержать 72% кислоты. Сколько килограммов кислоты содержится во втором растворе?

- 22 Постройте график функции

$$y = x^2 + 11x - 4|x + 6| + 30.$$

Определите, при каких значениях m прямая $y = m$ имеет с графиком ровно три общие точки.

- 23 Высота AH ромба $ABCD$ делит сторону CD на отрезки $DH = 8$ и $CH = 2$. Найдите высоту ромба.

- 24 Точка E – середина боковой стороны AB трапеции $ABCD$. Докажите, что площадь треугольника ECD равна половине площади трапеции.

- 25 Точки M и N лежат на стороне AC треугольника ABC на расстояниях соответственно 4 и 15 от вершины A . Найдите радиус окружности, проходящей через точки M и N и касающейся луча AB , если $\cos \angle BAC = \frac{\sqrt{15}}{4}$.

Проверьте, чтобы каждый ответ был записан рядом с номером соответствующего задания.



О проекте «Пробный ОГЭ каждую неделю»

Данный ким составлен командой всероссийского волонтерского проекта «ОГЭ 100 баллов» <https://vk.com/oge100ballov> и безвозмездно распространяется для любых некоммерческих образовательных целей.

Нашли ошибку в варианте?

Напишите нам, пожалуйста, и мы обязательно её исправим!
Для замечаний и пожеланий: https://vk.com/topic-88725006_40825331
(также доступны другие варианты для скачивания)

СОСТАВИТЕЛЬ ВАРИАНТА:

ФИО:	Евгений Пифагор
Предмет:	Математика
Стаж:	10 лет готовлю к ЕГЭ и ОГЭ
Регалии:	Набрал 98 баллов на ЕГЭ по математике (профиль) 55 учеников набрали 90-100 баллов на ЕГЭ 2021 Высшее образование (ТГУ, 2009-2014) Победитель трёх олимпиад по высшей математике
Аккаунт и группа ВК:	https://vk.com/eugene10 https://vk.com/shkolapifagora
Ютуб и инстаграм:	https://www.youtube.com/user/ShkolaPifagora https://www.instagram.com/shkola_pifagora/

Система оценивания экзаменационной работы по математике**Часть 1**

За правильный ответ на каждое из заданий 1–19 ставится 1 балл.

Номер задания	Правильный ответ	Текстовое решение	Видео решение
1	8		
2	14		
3	3,2		
4	120		
5	Любое число от 135 до 145		
6	2,5		
7	2		
8	16		
9	6,75		
10	0,56		
11	312		
12	19		
13	2		
14	764		
15	0,28		
16	3		
17	10		
18	3		
19	1		
20	-3; -1; 1		
21	19,5		
22	-2,25; 0		
23	6		
24	■		
25	8		



Часть 2

Критерии оценивания заданий с развёрнутым ответом

20 Решите уравнение $x^3 + 3x^2 - x - 3 = 0$.

$$x^2 \cdot (x + 3) - 1 \cdot (x + 3) = 0$$

$$(x + 3) \cdot (x^2 - 1) = 0$$

$$x + 3 = 0$$

$$x = -3$$

или

$$x^2 - 1 = 0$$

$$x^2 = 1$$

$$x = \pm 1$$

Баллы	Содержание критерия
2	Обосновано получен верный ответ
1	Решение доведено до конца, но допущена описка или ошибка вычислительного характера, с её учётом дальнейшие шаги выполнены верно
0	Решение не соответствует ни одному из критериев, перечисленных выше
2	Максимальный балл

ОТВЕТ: $-3; -1; 1$

21 Имеются два сосуда, содержащие 40 кг и 30 кг раствора кислоты различной концентрации. Если их слить вместе, то получим раствор, содержащий 73% кислоты. Если же слить равные массы этих растворов, то полученный раствор будет содержать 72% кислоты. Сколько килограммов кислоты содержится во втором растворе?

$$\begin{cases} x \cdot 40 + y \cdot 30 = 0,73 \cdot 70 \\ x \cdot 40 + y \cdot 30 = 0,72 \cdot 70 \end{cases} \quad | : m$$

Выразим x :

$$x = 1,44 - y$$

Подставим в ① ур-е:

$$(1,44 - y) \cdot 40 + 30y = 51,1$$

$$57,6 - 40y + 30y = 51,1$$

$$6,5 = 10y$$

$$y = 0,65$$

$$30 \cdot y = 30 \cdot 0,65 = 19,5 \text{ кг}$$

Баллы	Содержание критерия
2	Ход решения задачи верный, получен верный ответ
1	Ход решения верный, все его шаги присутствуют, но допущена описка или ошибка вычислительного характера
0	Решение не соответствует ни одному из критериев, перечисленных выше
2	Максимальный балл

ОТВЕТ: $19,5$

22 Постройте график функции $y = x^2 + 11x - 4|x + 6| + 30$. Определите, при каких значениях m прямая $y = m$ имеет с графиком ровно три общие точки.

① Если $x + 6 \geq 0$
 $x \geq -6$

② Если $x + 6 < 0$
 $x < -6$

$$y = x^2 + 11x - 4 \cdot (x + 6) + 30$$

$$y = x^2 + 7x + 6$$

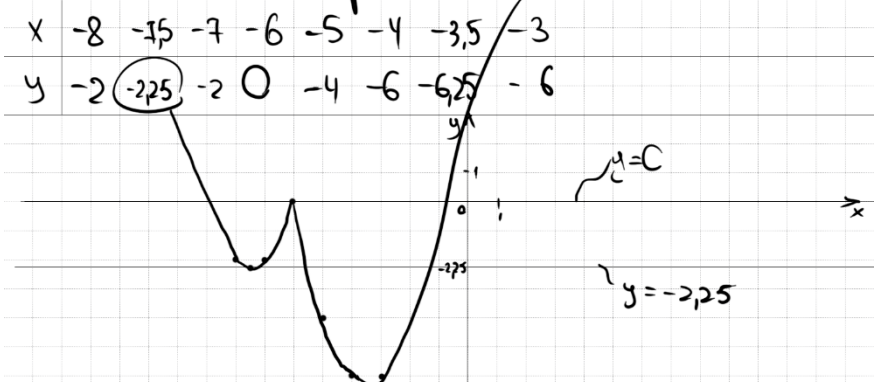
$x_0 = -3,5$

$$y = x^2 + 11x - 4 \cdot (-x - 6) + 30$$

$$y = x^2 + 15x + 54$$

$x = -7,5$

$$y = \begin{cases} x^2 + 7x + 6 & \text{при } x \geq -6 \\ x^2 + 15x + 54 & \text{при } x < -6 \end{cases}$$

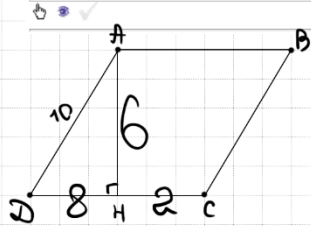


Баллы	Содержание критерия
2	График построен верно, верно найдены искомые значения параметра
1	График построен верно, но искомые значения параметра найдены неверно или не найдены
0	Решение не соответствует ни одному из критериев, перечисленных выше
2	Максимальный балл

ОТВЕТ: $-2,25; 0$



23 Высота AH ромба $ABCD$ делит сторону CD на отрезки $DH = 8$ и $CH = 2$. Найдите высоту ромба.



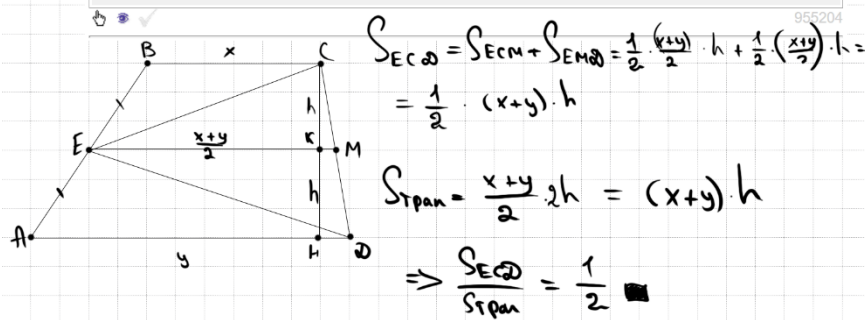
$$CD = 2 + 8 = 10 = AD$$

$$AH = \sqrt{10^2 - 8^2} = 6$$

ОТВЕТ: 6

Баллы	Содержание критерия
2	Ход решения верный, все его шаги выполнены правильно, получен верный ответ
1	Ход решения верный, все его шаги выполнены правильно, но даны неполные объяснения, или допущена одна вычислительная ошибка
0	Решение не соответствует ни одному из критериев, перечисленных выше
2	Максимальный балл

24 Точка E — середина боковой стороны AB трапеции $ABCD$. Докажите, что площадь треугольника ECD равна половине площади трапеции.



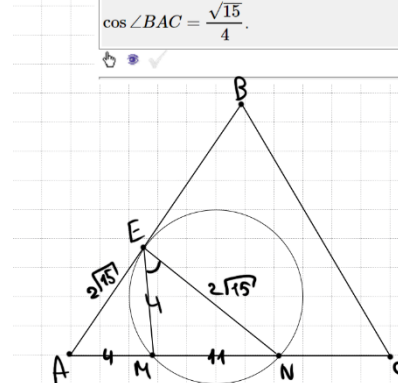
$$S_{ECD} = S_{ECM} + S_{EMD} = \frac{1}{2} \cdot \frac{(x+y)}{2} \cdot \frac{h}{2} + \frac{1}{2} \cdot \frac{(x+y)}{2} \cdot \frac{h}{2} = \frac{1}{2} \cdot (x+y) \cdot \frac{h}{2}$$

$$S_{\text{трап}} = \frac{x+y}{2} \cdot h = (x+y) \cdot \frac{h}{2}$$

$$\Rightarrow \frac{S_{ECD}}{S_{\text{трап}}} = \frac{1}{2} \blacksquare$$

Баллы	Содержание критерия
2	Доказательство верное, все шаги обоснованы
1	Доказательство в целом верное, но содержит неточности
0	Решение не соответствует ни одному из критериев, перечисленных выше
2	Максимальный балл

25 Точки M и N лежат на стороне AC треугольника ABC на расстояниях соответственно 4 и 15 от вершины A . Найдите радиус окружности, проходящей через точки M и N и касающейся луча AB , если $\cos \angle BAC = \frac{\sqrt{15}}{4}$.



⑥ по т. Синуса в $\triangle EMN$:
 $\frac{MN}{\sin E} = 2R \Rightarrow R = 8$

ОТВЕТ: 8

① по СВ-бу кос. и сек.:
 $AE^2 = 4 \cdot 15 = 60$
 $AE = 2\sqrt{15}$

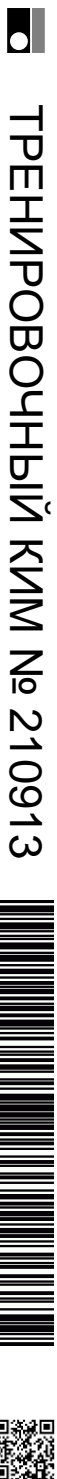
② в $\triangle AEM$ по т. кос.:
 $EM = \sqrt{16 + 60 - 2 \cdot 4 \cdot 2\sqrt{15} \cdot \frac{\sqrt{15}}{4}} = 4$

③ в $\triangle AEN$ по т. кос.:
 $EN = \sqrt{25 + 60 - 2 \cdot 25 \cdot 15 \cdot \frac{\sqrt{15}}{4}} = 2\sqrt{15}$

④ в $\triangle EMN$ по т. кос.:
 $\cos \angle E = \frac{16 + 60 - 121}{2 \cdot 4 \cdot 2\sqrt{15}} = -\frac{3\sqrt{15}}{16\sqrt{15}}$

⑤ $\sin^2 E + \left(-\frac{3\sqrt{15}}{16}\right)^2 = 1$
 $\sin E = \frac{11}{16}$

Баллы	Содержание критерия
2	Ход решения верный, получен верный ответ
1	Ход решения верный, все его шаги присутствуют, но допущена описка или ошибка вычислительного характера
0	Решение не соответствует ни одному из критериев, перечисленных выше
2	Максимальный балл



В соответствии с Порядком проведения государственной итоговой аттестации по образовательным программам основного общего образования (приказ Минпросвещения России и Рособрнадзора от 07.11.2018 № 189/1513 зарегистрирован Минюстом России 10.12.2018 № 52953),

«64. Экзаменационные работы проверяются двумя экспертами. По результатам проверки эксперты независимо друг от друга выставляют баллы за каждый ответ на задания экзаменационной работы... В случае существенного расхождения в баллах, выставленных двумя экспертами, назначается третья проверка. Существенное расхождение в баллах определено в критериях оценивания по соответствующему учебному предмету.

Третий эксперт назначается председателем предметной комиссии из числа экспертов, ранее не проверявших экзаменационную работу.

Третьему эксперту предоставляется информация о баллах, выставленных экспертами, ранее проверявшими экзаменационную работу обучающегося. Баллы, выставленные третьим экспертом, являются окончательными».

1. Работа направляется на третью проверку, если расхождение в баллах, выставленных двумя экспертами за выполнение любого из заданий, составляет 2 балла. В этом случае третий эксперт проверяет только ответ на то задание, которое было оценено двумя экспертами со столь существенным расхождением.

2. Работа участника ОГЭ направляется на третью проверку при наличии расхождений в двух или более заданиях. В этом случае третий эксперт перепроверяет задания 21–26 с развёрнутым ответом.

