

**Проверочная работа  
по ИСТОРИИ**

**8 класс**

**Вариант 1**

**Инструкция по выполнению работы**

На выполнение работы по истории даётся 90 минут. Работа включает в себя 13 заданий. Часть 1 работы посвящена истории России и истории зарубежных стран (история Нового времени), в части 2 предложено задание по истории Вашего родного края.

Ответы на задания запишите в поля ответов в тексте работы. В случае записи неверного ответа зачеркните его и запишите рядом новый.

При необходимости можно пользоваться черновиком. Записи в черновике проверяться и оцениваться не будут.

Советуем выполнять задания в том порядке, в котором они даны. В целях экономии времени пропускайте задание, которое не удаётся выполнить сразу, и переходите к следующему. Если после выполнения всей работы у Вас останется время, то Вы сможете вернуться к пропущенным заданиям.

***Желаем успеха!***

*Таблица для внесения баллов участника*

Номер задания	1	2	3	4	5	6	7	8	9	10	11	12	13	Сумма баллов	Отметка за работу
Баллы															

## Часть 1

**В этой части работы даны задания по истории России и истории зарубежных стран в Новое время.**

1

Расположите в хронологической последовательности исторические события. Запишите цифры, которыми обозначены исторические события, в правильной последовательности в таблицу.

- 1) создание Северного союза
- 2) ссылка А.Д. Меншикова
- 3) ликвидация украинского гетманства

Ответ:

--	--	--

2

Запишите название похода, о котором идёт речь.

Поход русской армии под командованием Петра I в Молдавию летом 1711 г. против Османской империи.

Ответ: \_\_\_\_\_.

*Рассмотрите изображение и выполните задания 3, 4.*



3

Назовите изображённого на картине монарха.

Ответ: \_\_\_\_\_.

4

Назовите российского монарха, занявшего престол сразу после смерти монарха, изображённого на картине.

Ответ: \_\_\_\_\_.

**Прочтите отрывок из исторического источника и выполните задание 5.**

«Все находящиеся в разных наших службах дворяне могут оную продолжать, сколь долго пожелают, и их состояние им позволит, однако ж военные ни во время компании, ниже пред начатием оной за три месяца об увольнении из службы, или отставки просить да не дерзают, но по окончании как внутри, так и вне государства; состоящие в военной службе могут просить у командующих над ними об увольнении из службы или отставки, и ожидать резолюции; состоящие во всяких наших службах, в первых восьми классах, от нашей всевысочайшей конфирмации, а прочие чины получают определение по департаментам, до которых оные принадлежат».

5

Назовите императора, издавшего данный манифест.

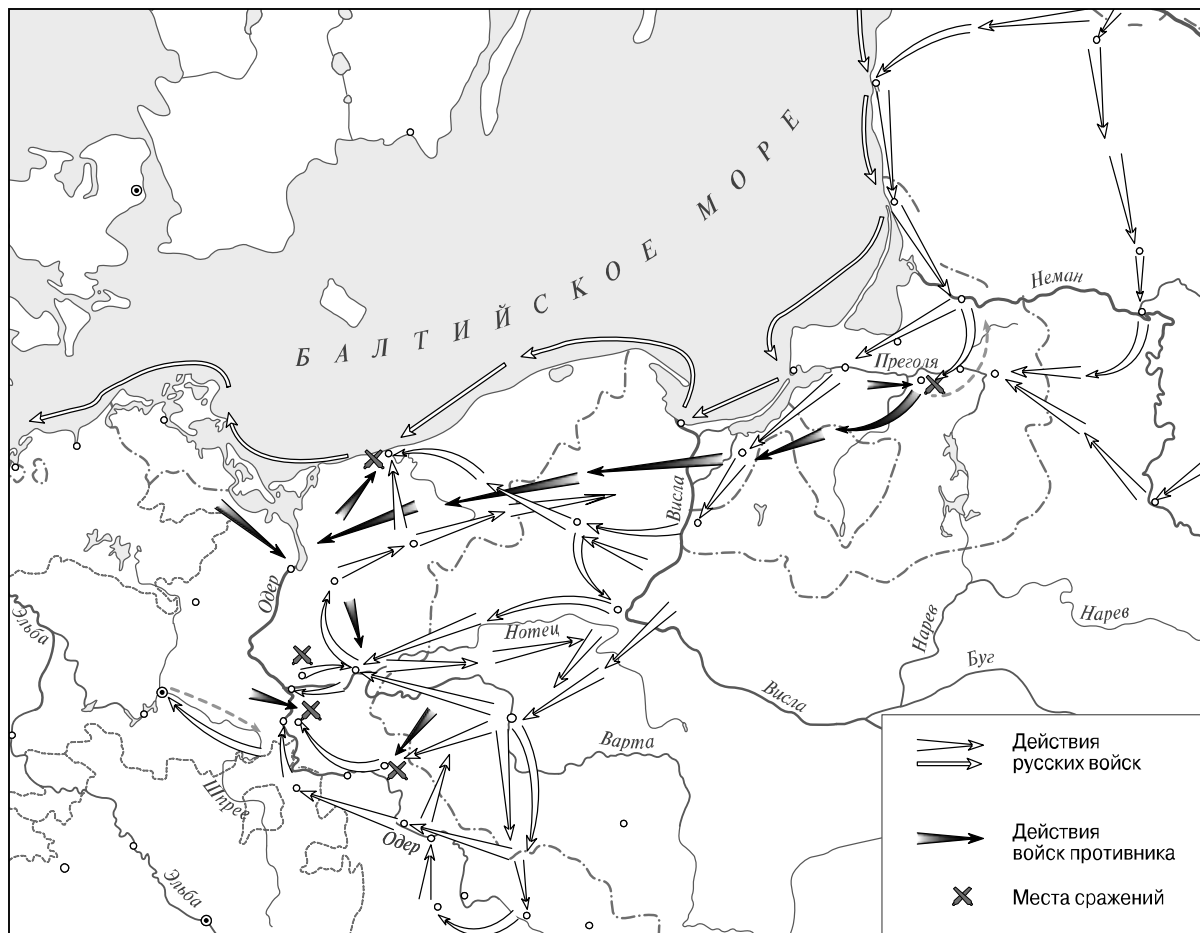
Ответ: \_\_\_\_\_

Каким событием закончилось правление императора, издавшего данный манифест?

Ответ: \_\_\_\_\_

\_\_\_\_\_

Рассмотрите карту и выполните задания 6, 7.





6 Назовите российского монарха в период, когда Россия вступила в войну, которой посвящена данная карта.

Ответ: \_\_\_\_\_.

7 Подпишите на карте город Берлин и территорию Речи Посполитой.



**Ознакомьтесь с приведённым перечнем и изображениями памятников культуры и выполните задания 8, 9.**

- 1) «Ода блаженной памяти Государыне Императрице Анне Иоанновне на победу над турками и на взятие Хотина»
- 2) «Сказание об осаде Троице-Сергиева монастыря от поляков и литвы и о бывших потом в России мятежах»
- 3) «Хожение за три моря»
- 4) 
- 5) 

8

Какие из приведённых памятников культуры были созданы в XVIII в.? Выберите два памятника культуры и запишите в таблицу цифры, под которыми они указаны.

Ответ:

--	--

9

Создателем какого из приведённых памятников культуры является М.В. Ломоносов? Укажите порядковый номер этого памятника культуры.

Ответ:

--

10

Какой из приведённых исторических фактов можно использовать для аргументации следующей точки зрения: «Управление государством в период правления Петра I было систематизировано»? Укажите порядковый номер этого факта в списке.

- 1) учреждение Верховного тайного совета
- 2) введение Генерального регламента
- 3) учреждение Кабинета министров

Ответ:

Объясните, как с помощью выбранного Вами факта можно аргументировать данную точку зрения.

Ответ: \_\_\_\_\_  
\_\_\_\_\_  
\_\_\_\_\_

**В приведённом ниже списке указаны фамилии четырёх исторических деятелей. Выберите из них ОДНОГО исторического деятеля, а затем выполните задания 11, 12. Перед выполнением каждого из заданий 11, 12 укажите букву, которой выбранный исторический деятель обозначен в списке. Указанные в заданиях 11, 12 буквы должны быть одинаковыми.**

**Список исторических деятелей**

А) Феофан Прокопович

Б) Ф.Ф. Ушаков

В) Н.М. Карамзин

Г) М. Робеспьер

**11** Выбранный исторический деятель:  (укажите букву в перечне).

Укажите одно любое историческое событие (процесс), в котором участвовал исторический деятель. Приведите два исторических факта, связанных с участием выбранного Вами исторического деятеля в этом событии (процессе).

Событие (процесс): \_\_\_\_\_

Факты, связанные с участием в событии (процессе) исторического деятеля: \_\_\_\_\_

---

---

---

---

---

---

---

**12** Выбранный исторический деятель:  (укажите букву в перечне).

Используя знание исторических фактов, объясните, почему событие (процесс), в котором участвовал этот исторический деятель, имело большое значение (важные последствия) для истории нашей страны и/или истории зарубежных стран.

Ответ: \_\_\_\_\_

---

---

---

---

---

---

---



