

**Проверочная работа
по ХИМИИ**

8 класс

Вариант 1

Инструкция по выполнению работы

Проверочная работа включает в себя девять заданий. На её выполнение отводится 90 минут.

При выполнении работы разрешается использовать следующие дополнительные материалы:

- Периодическая система химических элементов Д.И. Менделеева;
- таблица растворимости кислот, солей и оснований в воде;
- ряд активности металлов / электрохимический ряд напряжений;
- непрограммируемый калькулятор.

Оформляйте ответы в тексте работы в соответствии с инструкциями, приведёнными к каждому заданию. В случае записи неверного ответа зачеркните его и запишите рядом новый.

При выполнении заданий Вы можете использовать черновик. Записи в черновике проверяться и оцениваться не будут.

Советуем выполнять задания в том порядке, в котором они даны. Для экономии времени пропускайте задание, которое не удаётся выполнить сразу, и переходите к следующему. Если после выполнения всей работы у Вас останется время, Вы сможете вернуться к пропущенным заданиям.

Баллы, полученные Вами за выполненные задания, суммируются. Постарайтесь выполнить как можно больше заданий и набрать наибольшее количество баллов.

Желаем успеха!

Таблица для внесения баллов участника

Номер задания	1.1	1.2	2.1	2.2	3.1	3.2	4.1	4.2	4.3	4.4	5.1	5.2	6.1	6.2	6.3	6.4	6.5
Баллы																	
Номер задания	7.1	7.2	7.3 (1)	7.3 (2)	8	9	Сумма баллов	Отметка за работу									
Баллы																	

Периодическая система химических элементов Д.И. Менделеева

		Г р у п п ы									
		I	II	III	IV	V	VI	VII	VIII		
П е р и о д ы	1	H 1,008 Водород						(H)		He 4,00 Гелий	
	2	Li 6,94 Литий	Be 9,01 Бериллий	B 10,81 Бор	C 12,01 Углерод	N 14,00 Азот	O 16,00 Кислород	F 19,00 Фтор		Ne 20,18 Неон	
	3	Na 22,99 Натрий	Mg 24,31 Магний	Al 26,98 Алюминий	Si 28,09 Кремний	P 30,97 Фосфор	S 32,06 Сера	Cl 35,45 Хлор		Ar 39,95 Аргон	
	4	K 39,10 Калий	Ca 40,08 Кальций	Sc 44,96 Скандий	Ti 47,90 Титан	V 50,94 Ванадий	Cr 52,00 Хром	Mn 54,94 Марганец	Fe 55,85 Железо	Co 58,93 Кобальт	Ni 58,69 Никель
		Cu 63,55 Медь	Zn 65,39 Цинк	Ga 69,72 Галлий	Ge 72,59 Германий	As 74,92 Мышьяк	Se 78,96 Селен	Br 79,90 Бром		Kr 83,80 Криптон	
	5	Rb 85,47 Рубидий	Sr 87,62 Стронций	Y 88,91 Итрий	Zr 91,22 Цирконий	Nb 92,91 Ниобий	Mo 95,94 Молибден	Tc 98,91 Технеций	Ru 101,07 Рутений	Rh 102,91 Родий	Pd 106,42 Палладий
		Ag 107,87 Серебро	Cd 112,41 Кадмий	In 114,82 Индий	Sn 118,69 Олово	Sb 121,75 Сурьма	Te 127,60 Теллур	I 126,90 Иод		Xe 131,29 Ксенон	
	6	Cs 132,91 Цезий	Ba 137,33 Барий	La* 138,91 Лантан	Hf 178,49 Гафний	Ta 180,95 Тантал	W 183,85 Вольфрам	Re 186,21 Рений	Os 190,2 Осмий	Ir 192,22 Иридий	Pt 195,08 Платина
		Au 196,97 Золото	Hg 200,59 Ртуть	Tl 204,38 Таллий	Pb 207,2 Свинец	Bi 208,98 Висмут	Po [209] Полоний	At [210] Астат		Rn [222] Радон	
	7	Fr [223] Франций	Ra 226 Радий	Ac** [227] Актиний	Rf [261] Резерфордий	Db [262] Дубний	Sg [266] Сиборгий	Bh [264] Борий	Hs [269] Хассий	Mt [268] Мейтнерий	Ds [271] Дармштадтий
		Rg [280] Рентгений	Cn [285] Коперниций	Nh [286] Нихоний	Fl [289] Флеровий	Mc [290] Московский	Lv [293] Ливерморий	Ts [294] Теннесси		Og [294] Оганесон	

* Лантаноиды

58	Ce 140 Церий	59	Pr 141 Празеодим	60	Nd 144 Неодим	61	Pm [145] Прометий	62	Sm 150 Самарий	63	Eu 152 Европий	64	Gd 157 Гадолиний	65	Tb 159 Тербий	66	Dy 162,5 Диспрозий	67	Ho 165 Гольмий	68	Er 167 Эрбий	69	Tm 169 Тулий	70	Yb 173 Иттербий	71	Lu 175 Лютеций
----	------------------------	----	----------------------------	----	-------------------------	----	-----------------------------	----	--------------------------	----	--------------------------	----	----------------------------	----	-------------------------	----	------------------------------	----	--------------------------	----	------------------------	----	------------------------	----	---------------------------	----	--------------------------

** АКТИНОИДЫ

90	Th 232 Торий	91	Pa 231 Протактиний	92	U 238 Уран	93	Np 237 Нептуний	94	Pu [244] Плутоний	95	Am [243] Америций	96	Cm [247] Кюрий	97	Bk [247] Берклий	98	Cf [251] Калифорний	99	Es [252] Эйнштейний	100	Fm [257] Фермий	101	Md [258] Менделеевий	102	No [259] Нобелий	103	Lr [262] Лоуренсий
----	------------------------	----	------------------------------	----	----------------------	----	---------------------------	----	-----------------------------	----	-----------------------------	----	--------------------------	----	----------------------------	----	-------------------------------	----	-------------------------------	-----	---------------------------	-----	--------------------------------	-----	----------------------------	-----	------------------------------

РЯД АКТИВНОСТИ МЕТАЛЛОВ / ЭЛЕКТРОХИМИЧЕСКИЙ РЯД НАПРЯЖЕНИЙ

Li Rb K Ba Sr Ca Na Mg Al Mn Zn Cr Fe Cd Co Ni Sn Pb (H) Sb Bi Cu Hg Ag Pt Au



активность металлов уменьшается

РАСТВОРИМОСТЬ КИСЛОТ, СОЛЕЙ И ОСНОВАНИЙ В ВОДЕ

	H ⁺	Li ⁺	K ⁺	Na ⁺	NH ₄ ⁺	Ba ²⁺	Ca ²⁺	Mg ²⁺	Sr ²⁺	Al ³⁺	Cr ³⁺	Fe ²⁺	Fe ³⁺	Ni ²⁺	Co ²⁺	Mn ²⁺	Zn ²⁺	Ag ⁺	Hg ²⁺	Pb ²⁺	Sn ²⁺	Cu ²⁺	
OH ⁻		Р	Р	Р	Р	Р	М	Н	М	Н	Н	Н	Н	Н	Н	Н	Н	Н	-	-	Н	Н	Н
F ⁻	Р	М	Р	Р	Р	М	Н	Н	Н	М	Н	Н	Н	Р	Р	Р	Р	Р	Р	-	Н	Р	Р
Cl ⁻	Р	Р	Р	Р	Р	Р	Р	Р	Р	Р	Р	Р	Р	Р	Р	Р	Р	Р	Н	Р	М	Р	Р
Br ⁻	Р	Р	Р	Р	Р	Р	Р	Р	Р	Р	Р	Р	Р	Р	Р	Р	Р	Р	Н	М	М	Р	Р
I ⁻	Р	Р	Р	Р	Р	Р	Р	Р	Р	Р	?	Р	?	Р	Р	Р	Р	Р	Н	Н	Н	М	?
S ²⁻	Р	Р	Р	Р	Р	-	-	-	Н	-	-	Н	-	Н	Н	Н	Н	Н	Н	Н	Н	Н	Н
HS ⁻	Р	Р	Р	Р	Р	Р	Р	Р	Р	?	?	?	?	?	Н	?	?	?	?	?	?	?	?
SO ₃ ²⁻	Р	Р	Р	Р	Р	Н	Н	М	Н	?	-	Н	?	Н	Н	?	М	Н	Н	Н	Н	?	?
HSO ₃ ⁻	Р	?	Р	Р	Р	Р	Р	Р	Р	?	?	?	?	?	?	?	?	?	?	?	?	?	?
SO ₄ ²⁻	Р	Р	Р	Р	Р	Н	М	Р	Н	Р	Р	Р	Р	Р	Р	Р	Р	М	М	-	Н	Р	Р
HSO ₄ ⁻	Р	Р	Р	Р	Р	?	?	?	-	?	?	?	?	?	?	?	?	?	?	?	?	?	?
NO ₃ ⁻	Р	Р	Р	Р	Р	Р	Р	Р	Р	Р	Р	Р	Р	Р	Р	Р	Р	Р	Р	Р	Р	-	Р
NO ₂ ⁻	Р	Р	Р	Р	Р	Р	Р	Р	Р	?	?	?	?	Р	М	?	?	?	М	?	?	?	?
PO ₄ ³⁻	Р	Н	Р	Р	-	Н	Н	Н	Н	Н	Н	Н	Н	Н	Н	Н	Н	Н	Н	Н	Н	Н	Н
HPO ₄ ²⁻	Р	?	Р	Р	Р	Н	Н	М	Н	?	?	Н	?	?	?	?	?	?	?	?	М	Н	?
H ₂ PO ₄ ⁻	Р	Р	Р	Р	Р	Р	Р	Р	Р	?	?	Р	?	?	?	?	?	?	Р	?	-	?	?
CO ₃ ²⁻	Р	Р	Р	Р	Р	Н	Н	Н	Н	?	?	Н	-	Н	Н	Н	Н	Н	Н	Н	Н	?	Н
HCO ₃ ⁻	Р	Р	Р	Р	Р	Р	Р	Р	Р	?	?	Р	?	?	?	?	?	?	?	?	?	?	?
CH ₃ COO ⁻	Р	Р	Р	Р	Р	Р	Р	Р	Р	-	Р	Р	-	Р	Р	Р	Р	Р	Р	Р	Р	-	Р
SiO ₃ ²⁻	Н	Н	Р	Р	?	Н	Н	Н	Н	?	?	Н	?	?	?	?	Н	Н	?	?	Н	?	?

“Р” – растворяется (> 1 г на 100 г H₂O)

“М” – мало растворяется (от 0,1 г до 1 г на 100 г H₂O)

“Н” – не растворяется (меньше 0,01 г на 1000 г воды)

“-” – в водной среде разлагается

“?” – нет достоверных сведений о существовании соединений

1

Предметом изучения химии являются вещества.

1.1. Внимательно рассмотрите предложенные рисунки. Укажите номер рисунка, на котором изображён объект, содержащий индивидуальное химическое вещество.



Рис. 1



Рис. 2



Рис. 3

Индивидуальное химическое вещество содержится в объекте, изображённом на рисунке:

1.2. Какие вещества содержатся в объектах, изображённых на остальных рисунках? Приведите по ОДНОМУ примеру.

Для каждого вещества укажите его химическое название и формулу.

Рис. 1: _____ (название) _____ (формула).

Рис. 2: _____ (название) _____ (формула).

Рис. 3: _____ (название) _____ (формула).

2 Превращение одних веществ в другие называется химической реакцией.

2.1. Из представленных ниже рисунков выберите тот, на котором изображено протекание химической реакции.

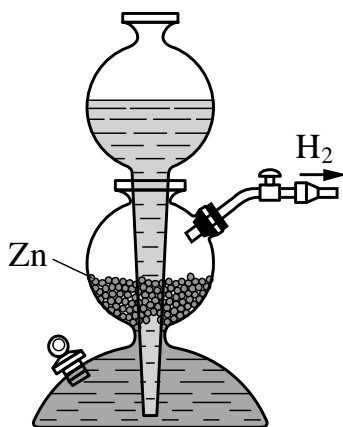


Рис. 1



Рис. 2

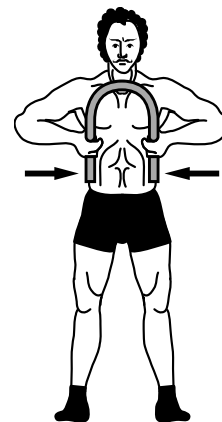


Рис. 3

Протекание химической реакции изображено на рисунке:

Объясните сделанный Вами выбор: _____

2.2. Укажите один ЛЮБОЙ признак протекания этой химической реакции:

3 В таблице приведены названия и химические формулы некоторых газообразных веществ.

№	Название вещества	Формула	Молярная масса, г/моль
1	Аммиак	NH_3	
2	Угарный газ	CO	
3	Углекислый газ	CO_2	

3.1. Используя предложенные Вам справочные материалы, вычислите молярные массы каждого из газов и запишите полученные данные в таблицу.

3.2. Какой из приведённых в таблице газов имеет при заданных условиях такую же плотность, как и азот N_2 , молярная масса которого равна 28 г/моль? Укажите номер вещества.

Ответ:

Объясните свой выбор: _____

4

Даны два химических элемента: **А** и **Б**. Известно, что в атоме элемента **А** содержится 12 протонов, а в атоме элемента **Б** – 17 электронов.

4.1. Используя Периодическую систему химических элементов Д.И. Менделеева, определите химические элементы **А** и **Б**.

4.2. Укажите номер периода и номер группы в Периодической системе химических элементов Д.И. Менделеева, в которых расположен каждый элемент.

4.3. Установите, металлом или неметаллом являются простые вещества, образованные этими химическими элементами.

4.4. Составьте формулы высших оксидов, которые образуют элементы **А** и **Б**.

Ответы запишите в таблицу.

Элемент	Название химического элемента	Номер		Металл или неметалл	Формула высшего оксида
		периода	группы		
А					
Б					

5

Учащийся Иван сделал один глоток (20 г) сливового сока.

5.1. Используя данные приведённой ниже таблицы, определите, какую массу углеводов получил при этом организм юноши. Ответ подтвердите расчётом.

Содержание углеводов в некоторых соках

Сок	Лимонный	Яблочный	Апельсиновый	Гранатовый	Сливовый
Массовая доля углеводов, %	2,5	9,1	12,8	14,5	16,1

Решение: _____

Ответ: _____

5.2. Какую долю суточной физиологической нормы (400 г) составляет потреблённое Иваном количество углеводов? Ответ подтвердите расчётом.

Решение: _____

Ответ: _____

6

Имеется следующий перечень химических веществ: иод, хлор, вода, гидроксид кальция, фосфорная кислота, иодид натрия, хлорид натрия, фосфат кальция. Используя этот перечень, выполните задания 6.1–6.5.

6.1. Напишите химические формулы каждого из указанных веществ.

Иод – _____. Хлор – _____. Вода – _____. Хлорид натрия – _____.

Гидроксид кальция – _____. Фосфорная кислота – _____.

Иодид натрия – _____. Фосфат кальция – _____.

6.2. Какое из веществ, упоминаемых в перечне, соответствует следующему описанию: «Чёрно-серые кристаллы с металлическим блеском; при нагревании образуют фиолетовые пары с резким запахом»?

Ответ: _____

6.3. Из приведённого перечня веществ выберите ЛЮБОЕ соединение, содержащее атомы кислорода (кроме воды). Запишите его химическую формулу и укажите, к какому классу веществ оно относится.

Соединение – _____. Класс веществ – _____.

6.4. Из приведённого перечня веществ выберите ЛЮБОЕ соединение, состоящее из атомов ТРЁХ элементов. Вычислите массовую долю кислорода в этом соединении.

Вещество – _____.

Решение: _____

Ответ: _____

6.5. Вычислите массу 0,25 моль фосфата кальция.

Решение: _____

Ответ: _____

7

Ниже даны описания двух химических превращений с участием веществ, перечень которых был приведён в задании б:

(1) гидроксид кальция + фосфорная кислота \rightarrow фосфат кальция + вода;

(2) хлор + иодид натрия \rightarrow хлорид натрия + иод.

7.1. Составьте уравнения указанных реакций, используя химические формулы веществ из п. б.1.

(1) _____

(2) _____

7.2. В зависимости от числа и состава веществ, вступающих в химическую реакцию и образующихся в результате неё, различают реакции соединения, разложения, замещения и обмена. Выберите любую реакцию (1) или (2) и укажите её тип.

Реакция:

Тип – _____.

Объясните свой ответ: _____

7.3. Из приборов, изображённых на рисунках, выберите тот, с помощью которого можно выделить фосфат кальция из его смеси с водой.

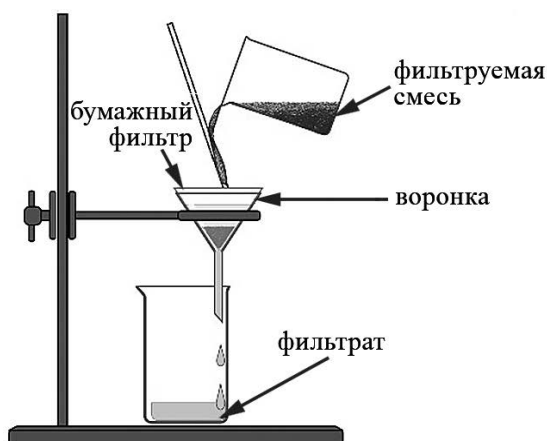


Рис. 1



Рис. 2

Выделить фосфат кальция из его смеси с водой можно с помощью прибора, изображённого на рисунке:

Какой метод разделения веществ при этом используется?

Ответ: метод _____.

Почему прибор, изображённый на другом рисунке, не может быть использован для выделения фосфата кальция?

Объяснение: _____

8

Установите соответствие между названием химического вещества и областью его применения. К каждому элементу первого столбца подберите соответствующий элемент из второго столбца.

НАЗВАНИЕ ВЕЩЕСТВА

- А) гидроксид лития
 Б) углекислый газ
 В) водород
 Г) карбонат кальция

ОБЛАСТЬ ПРИМЕНЕНИЯ

- 1) основной компонент школьного мела
 2) жидкость для полива растений
 3) электролит в щелочных аккумуляторах
 4) в производстве газированных напитков
 5) компонент ракетного топлива

Запишите в таблицу выбранные цифры под соответствующими буквами.

Ответ:

А	Б	В	Г

9

Из приведённого списка выберите верные суждения о правилах поведения в химической лаборатории и обращения с химическими веществами в быту. В ответе запишите цифры, под которыми они указаны. (В задании может быть несколько верных суждений.)

- Полиэтиленовые пакеты легко разрушаются под действием атмосферных явлений и поэтому не представляют угрозы для окружающей среды.
- Попадание на кожу препаратов бытовой химии, содержащих щёлочь, приводит к появлению ожогов, поэтому с ними надо работать в резиновых перчатках.
- В химической лаборатории наличие кислоты в анализируемом растворе можно определять на вкус.
- Тонкостенная фарфоровая чашка может быть использована для выпаривания растворов.

Ответ: _____.