

**Проверочная работа
по ИСТОРИИ**

7 класс

Вариант 2

Инструкция по выполнению работы

На выполнение работы по истории даётся 60 минут. Работа включает в себя 12 заданий. Часть 1 работы посвящена истории России и истории зарубежных стран (история Нового времени), в части 2 предложено задание по истории Вашего родного края.

Ответы на задания запишите в поля ответов в тексте работы. В случае записи неверного ответа зачеркните его и запишите рядом новый.

При необходимости можно пользоваться черновиком. Записи в черновике проверяться и оцениваться не будут.

Советуем выполнять задания в том порядке, в котором они даны. В целях экономии времени пропускайте задание, которое не удаётся выполнить сразу, и переходите к следующему. Если после выполнения всей работы у Вас останется время, то Вы сможете вернуться к пропущенным заданиям.

Желаем успеха!

Таблица для внесения баллов участника

Номер задания	1	2	3	4	5	6	7	8	9	10	11	12	Сумма баллов	Отметка за работу
Баллы														

Часть 1

В этой части работы даны задания по истории России и истории зарубежных стран в Новое время.

1

Установите соответствие между событиями (процессами) и их участниками: к каждой позиции первого столбца подберите соответствующую позицию из второго столбца.

СОБЫТИЯ (ПРОЦЕССЫ)

- А) введение основной денежной единицы для всей России – московского рубля
 Б) заключение Аугсбургского религиозного мира
 В) деятельность Первого ополчения

УЧАСТНИКИ

- 1) П.П. Ляпунов
 2) А.Л. Ордин-Нащокин
 3) Оливер Кромвель
 4) Елена Глинская
 5) Карл V

Запишите в таблицу выбранные цифры под соответствующими буквами.

Ответ:

А	Б	В

2

Запишите термин, о котором идёт речь.

Часть государства, находившаяся в 1565–1572 гг. в непосредственном управлении Ивана IV и имевшая собственное войско и административный аппарат.

Ответ: _____.

Прочтите отрывок из исторического источника и выполните задание 3.

«Овладев городом, он поместился в Кремле, во дворце, все священники и подданные пришли принести присягу, он был венчан и объявлен царём и великим князем всея Руси, хотя и был обманщиком и самозванцем, сыном попа, бродившего по стране и продававшего водку. Наступившая перемена возбуждала ропот в народе, особенно недовольном грубостью и самовольством поляков; завладев городом, он повелел прекратить толки, недовольства и выступления. Это усмирение проводил воевода, поддерживавший самозванца и возглавлявший польскую армию; он выдал за него свою дочь, надеясь укрепиться и выдвинуться, его дочь стала царицей. Поляки стали главенствовать, показывая свою власть над русскими знатными, вмешиваться в их религию и извращать законы, тиранить, угнетать и притеснять, расхищать казну и вообще вели себя как завоеватели...»

3

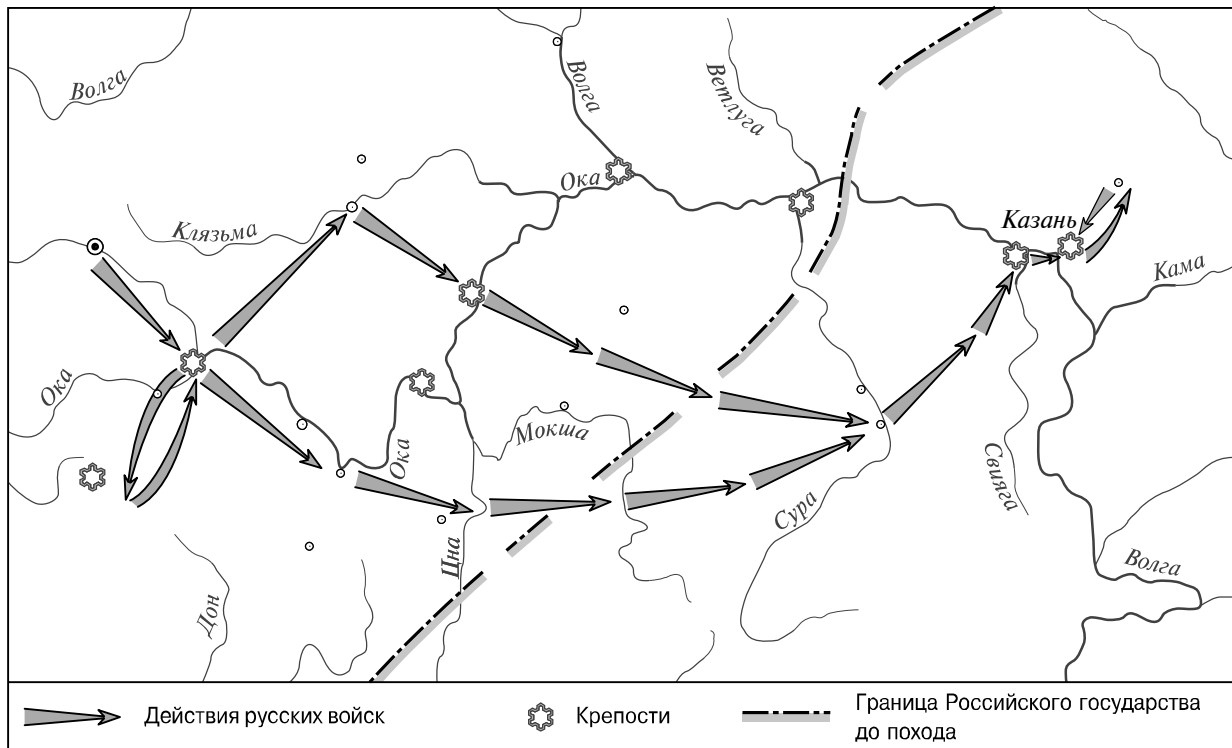
Укажите названия периода русской истории, к которому относятся описываемые события.

Ответ: _____

Укажите имя, под которым вступил на престол упоминаемый в отрывке самозванец.

Ответ: _____

Рассмотрите карту и выполните задания 4, 5.



4 Назовите монарха, в период правления которого состоялся обозначенный на карте стрелками поход.



Ответ: _____.

5 Подпишите на карте город Москву и крепость Свияжск.

□

Ознакомьтесь с приведённым перечнем и изображениями памятников культуры и выполните задания 6, 7.

- 1) парсуна М.В. Скопина-Шуйского
- 2) «Домострой»



6 Какие из приведённых памятников культуры были созданы в XVI в.? Выберите два памятника культуры и запишите в таблицу цифры, под которыми они указаны.

Ответ:

--	--

7 Создателем какого из приведённых памятников культуры является Алевиз Новый (Алевиз Фрязин)? Укажите порядковый номер этого памятника культуры.

Ответ:

--

8 Укажите время, с точностью до половины века, когда на престол был избран Михаил Романов. Укажите одно любое событие (процесс) из истории зарубежных стран, относящееся к той же половине века. Не следует указывать событие (процесс) из истории международных отношений, одной из сторон которого была Россия.

Время с точностью до половины века: _____

Событие из истории зарубежных стран: _____

9

Какой из приведённых исторических фактов можно использовать для аргументации следующей точки зрения: «В период правления Ивана IV шёл процесс закрепощения крестьян»? Укажите порядковый номер этого факта в списке.

- 1) введение пожилого
- 2) отмена урочных лет
- 3) введение заповедных лет

Ответ:

Объясните, как с помощью выбранного Вами факта можно аргументировать данную точку зрения.

Ответ: _____

10

Укажите с точностью до десятилетия время, когда из польского плена вернулся в Москву Филарет Романов. Укажите монарха, правившего в России в этот период. Приведите один любой факт, характеризующий это событие.

Время: _____

Монарх: _____

Факт: _____

11

Используя знание исторических фактов, объясните, почему деятельность Филарета Романова имела большое значение (важные последствия) в истории нашей страны.

Ответ: _____

