

Система оценивания проверочной работы

Полный правильный ответ на каждое из заданий 1.3, 1.4, 3.1, 4.1, 4.3, 6.3, 7.2, 8.1 и 8.2 оценивается 1 баллом. Если в ответе допущена хотя бы одна ошибка (один из элементов ответа записан неправильно или не записан), выставляется 0 баллов.

Полный правильный ответ на каждое из заданий 1.2, 4.2 и 5.1 оценивается 2 баллами. Если в ответе допущена одна ошибка или перепутаны местами две цифры в ответах на задания 4.2 и 5.1, выставляется 1 балл; если допущено две или более ошибки – 0 баллов.

1

1.1.

Содержание верного ответа и указания по оцениванию	Баллы
Правильный ответ должен содержать следующие <u>элементы</u> : 1) указание <u>путешественника</u> : Руаль Амундсен; 2) подпись <u>названия океана на карте</u> : Северный Ледовитый океан	
Правильно указан путешественник, подписан океан	2
Правильно указан путешественник; название океана на карте не подписано / подписано неправильно	1
Путешественник не указан / указан неправильно независимо от подписи названия океана на карте. ИЛИ Ответ неправильный	0
<i>Максимальный балл</i>	2

1.2	А – Северный полярный круг Б – остров Гренландия В – острова Северная Земля Г – Берингов пролив
1.3	75° с. ш. 95° з. д. (допускается погрешность в 1°)
1.4	Канадский Арктический архипелаг

2

2.1.

Содержание верного ответа и указания по оцениванию	Баллы
Правильный ответ должен содержать <u>три элемента</u> : 1) <u>значение параллели</u> : 5° с. ш.; 2) <u>протяжённость материка в градусах</u> : 25° (допускается погрешность ±2°); 3) <u>протяжённость материка в километрах</u> : 2773 км (допускается соответствующая погрешность в километрах)	
Правильно указаны значение параллели, протяжённость материка в градусах и протяжённость материка в километрах	2
Правильно указаны значение параллели и протяжённость материка в градусах; протяжённость материка в километрах не указана / указана неправильно	1
Правильно указано только значение параллели; протяжённость материка в градусах и протяжённость материка в километрах не указаны / указаны неправильно. ИЛИ Ответ неправильный	0
<i>Максимальный балл</i>	2

2.2.

Содержание верного ответа и указания по оцениванию	Баллы
Правильный ответ должен содержать <u>следующие элементы</u> : 1) <u>название формы рельефа</u> : Гвианское плоскогорье; 2) <u>абсолютная высота территории</u> : 2700 м	
Правильно названа форма рельефа и определена абсолютная высота территории	2
Правильно названа форма рельефа; абсолютная высота территории не определена / определена неправильно	1
Форма рельефа не названа / названа неправильно независимо от определения абсолютной высоты территории. ИЛИ Ответ неправильный	0
<i>Максимальный балл</i>	2

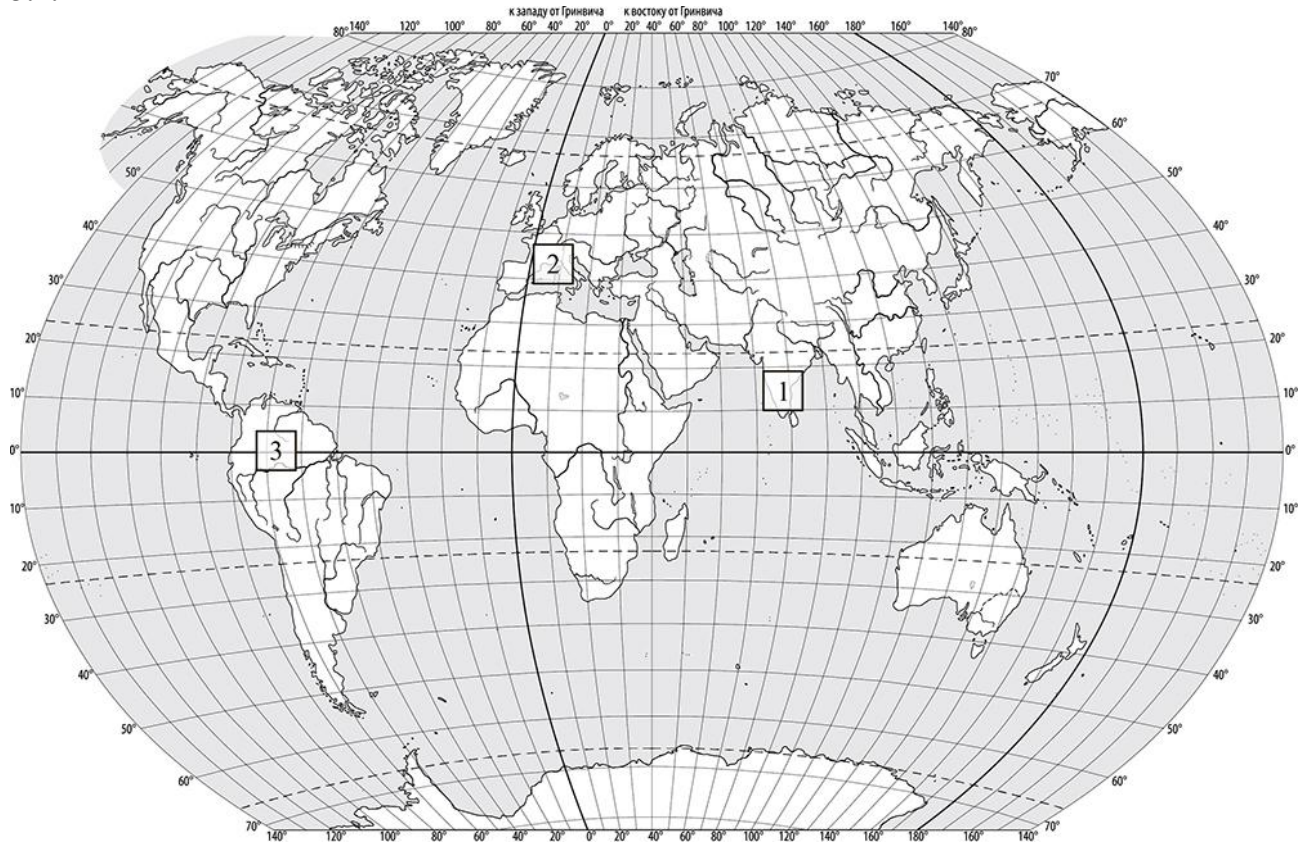
2.3.

Содержание верного ответа и указания по оцениванию	Баллы								
Правильный ответ должен содержать таблицу с внесёнными в неё значками полезных ископаемых: <table border="1" style="width: 100%; text-align: center;"> <tr> <td>Железные руды</td> <td>Алмазы</td> <td>Марганцевые руды</td> <td>Алюминиевые руды / Бокситы</td> </tr> <tr> <td></td> <td></td> <td></td> <td></td> </tr> </table>	Железные руды	Алмазы	Марганцевые руды	Алюминиевые руды / Бокситы					
Железные руды	Алмазы	Марганцевые руды	Алюминиевые руды / Бокситы						
									
Правильно заполнены четыре ячейки таблицы	2								
Правильно заполнены три ячейки таблицы	1								
Правильно заполнены одна-две ячейки таблицы. ИЛИ Все ячейки таблицы заполнены неправильно / не заполнены	0								
<i>Максимальный балл</i>	2								

3

3.1	1 – субэкваториальный 2 – субтропический 3 – экваториальный
------------	---

3.2.



Содержание верного ответа и указания по оцениванию	Баллы
Правильный ответ должен содержать запись трёх номеров климатограмм в пустые квадраты на карте	
Правильно вписаны три номера климатограмм	1
Правильно вписан только один номер климатограммы. ИЛИ Ответ неправильный	0
<i>Максимальный балл</i>	<i>1</i>

3.3.

Содержание верного ответа и указания по оцениванию	Баллы
Правильный ответ должен содержать следующие элементы: 1) <u>название природной зоны</u> : саванны и редколесья; 2) <u>номер климатограммы</u> : 1	
Правильно указаны название природной зоны и номер климатограммы	2
Правильно указано название природной зоны; номер климатограммы не указан / указан неправильно	1
Название природной зоны не указано независимо от указания номера климатограммы. ИЛИ Ответ неправильный	0
<i>Максимальный балл</i>	2

3.4.

Содержание верного ответа и указания по оцениванию	Баллы												
Правильный ответ должен содержать заполненную таблицу:													
<table border="1" style="width: 100%; text-align: center;"> <thead> <tr> <th colspan="2">Средняя температура воздуха, °С</th> <th rowspan="2">Годовая амплитуда температур, °С</th> <th rowspan="2">Годовое количество осадков, мм</th> <th rowspan="2">Месяц, на который приходится наибольшее количество осадков</th> </tr> <tr> <th>в январе</th> <th>в июле</th> </tr> </thead> <tbody> <tr> <td>+23</td> <td>+35</td> <td>12</td> <td>812</td> <td>сентябрь</td> </tr> </tbody> </table>	Средняя температура воздуха, °С		Годовая амплитуда температур, °С	Годовое количество осадков, мм	Месяц, на который приходится наибольшее количество осадков	в январе	в июле	+23	+35	12	812	сентябрь	
Средняя температура воздуха, °С		Годовая амплитуда температур, °С				Годовое количество осадков, мм	Месяц, на который приходится наибольшее количество осадков						
в январе	в июле												
+23	+35	12	812	сентябрь									
Правильно заполнены все ячейки таблицы	2												
В таблице допущена одна ошибка	1												
В таблице допущено две или более ошибки. ИЛИ Ответ неправильный	0												
<i>Максимальный балл</i>	2												

4

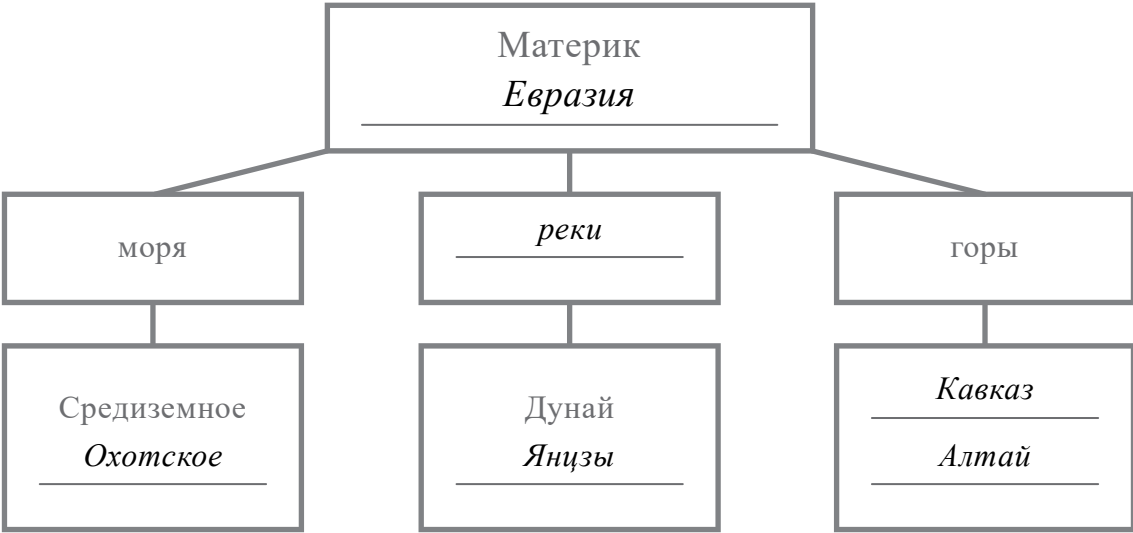
4.1	извержение вулкана / вулканизм
4.2	25413 <i>Если за выполнение задания 4.1 выставлено 0 баллов, результат выполнения данного задания не засчитывается</i>
4.3	полуостров Камчатка / остров Исландия / Японские острова / Большие Зондские острова / горы Анды <i>(1 балл ставится при указании двух и более объектов; допускается указание других объектов)</i> <i>Если за выполнение задания 4.1 выставлено 0 баллов, результат выполнения данного задания не засчитывается</i>

5

5.1

211212

5.2.


Содержание верного ответа и указания по оцениванию	Баллы
<p>Правильный ответ должен содержать заполненную схему с вписанными в неё названием материка, типами и названиями географических объектов.</p> 	
Схема заполнена правильно	3
В заполнении схемы допущена одна ошибка	2
В заполнении схемы допущены две ошибки	1
В заполнении схемы допущены три или более ошибки. ИЛИ Ответ неправильный	0
<i>Максимальный балл</i>	3

6

6.1.


Содержание верного ответа и указания по оцениванию	Баллы
Правильный ответ должен содержать <u>выделение на карте двух стран</u> : Бразилии и Финляндии	
Правильно выделены две страны	1
Правильно выделена только одна любая страна; вторая страна не выделена / выделена неправильно. ИЛИ Страны не выделены / выделены неправильно	0
<i>Максимальный балл</i>	<i>1</i>

6.2.




Время по Гринвичу

24:00 / 00:00 (полночь)



Хельсинки

2 марта
02:00



Бразилиа

1 марта
21:00

Содержание верного ответа и указания по оцениванию	Баллы
Правильный ответ должен содержать <u>подписи названий двух городов</u> : Хельсинки (столицы Финляндии) и Бразилиа (столицы Бразилии)	
Правильно подписаны названия двух городов	1
Правильно подписано название только одного любого города; название другого города не подписано / подписано неправильно. ИЛИ Названия городов не подписаны / подписаны неправильно	0
<i>Максимальный балл</i>	<i>1</i>

6.3

15:00

7

7.1.

Содержание верного ответа и указания по оцениванию	Баллы
Правильный ответ должен содержать <u>подпись на карте названия страны</u> : Испания	
Страна на карте подписана правильно	1
Страна на карте не подписана / подписана неправильно	0
<i>Максимальный балл</i>	<i>1</i>

7.2

4132

8

8.1	в Великобритании
8.2	Б <i>Если за выполнение задания 8.1 выставлено 0 баллов, результат выполнения данного задания не засчитывается</i>

8.3.

Содержание верного ответа и указания по оцениванию	Баллы																
<p>Правильный ответ должен содержать <u>ответы на семь вопросов</u>.</p> <table border="1" style="width: 100%; border-collapse: collapse;"> <thead> <tr> <th style="text-align: center;">Вопрос</th> <th style="text-align: center;">Ответ</th> </tr> </thead> <tbody> <tr> <td>1. В какой части света находится твоя страна?</td> <td><i>В Европе</i></td> </tr> <tr> <td>2. Какой пролив отделяет твою страну от других стран, расположенных в той же части света?</td> <td><i>Ла-Манш</i></td> </tr> <tr> <td>3. Какой океан омывает берега твоей страны?</td> <td><i>Атлантический</i></td> </tr> <tr> <td>4. На каких островах расположена твоя страна?</td> <td><i>Великобритания и Ирландия / Британские острова</i></td> </tr> <tr> <td>5. Какие исторические области составляют территорию твоей страны?</td> <td><i>Англия, Шотландия, Уэльс, Северная Ирландия</i></td> </tr> <tr> <td>6. В какой сфере хозяйства занято большинство жителей твоей страны?</td> <td><i>В сфере услуг</i></td> </tr> <tr> <td>7. Какие достопримечательности можно посмотреть в твоей стране?</td> <td><i>Лондонский Биг-Бен, Букингемский дворец, Тауэрский мост, Стоунхендж, Виндзорский замок</i></td> </tr> </tbody> </table> <p>Ответы на вопросы могут быть даны в иных, близких по смыслу формулировках. В ответах, предполагающих указание нескольких объектов, при оценивании может быть засчитано указание одного объекта. <i>Если в ответе на задание 8.1 название страны не указано / указано неправильно, то результат выполнения данного задания не засчитывается</i></p>	Вопрос	Ответ	1. В какой части света находится твоя страна?	<i>В Европе</i>	2. Какой пролив отделяет твою страну от других стран, расположенных в той же части света?	<i>Ла-Манш</i>	3. Какой океан омывает берега твоей страны?	<i>Атлантический</i>	4. На каких островах расположена твоя страна?	<i>Великобритания и Ирландия / Британские острова</i>	5. Какие исторические области составляют территорию твоей страны?	<i>Англия, Шотландия, Уэльс, Северная Ирландия</i>	6. В какой сфере хозяйства занято большинство жителей твоей страны?	<i>В сфере услуг</i>	7. Какие достопримечательности можно посмотреть в твоей стране?	<i>Лондонский Биг-Бен, Букингемский дворец, Тауэрский мост, Стоунхендж, Виндзорский замок</i>	
Вопрос	Ответ																
1. В какой части света находится твоя страна?	<i>В Европе</i>																
2. Какой пролив отделяет твою страну от других стран, расположенных в той же части света?	<i>Ла-Манш</i>																
3. Какой океан омывает берега твоей страны?	<i>Атлантический</i>																
4. На каких островах расположена твоя страна?	<i>Великобритания и Ирландия / Британские острова</i>																
5. Какие исторические области составляют территорию твоей страны?	<i>Англия, Шотландия, Уэльс, Северная Ирландия</i>																
6. В какой сфере хозяйства занято большинство жителей твоей страны?	<i>В сфере услуг</i>																
7. Какие достопримечательности можно посмотреть в твоей стране?	<i>Лондонский Биг-Бен, Букингемский дворец, Тауэрский мост, Стоунхендж, Виндзорский замок</i>																
Правильно даны ответы на все вопросы	3																
Правильно даны ответы на пять-шесть любых вопросов; в ответах на один-два вопроса допущены ошибки / ответы на один-два вопроса не представлены	2																
Правильно даны ответы на три-четыре любых вопроса; в ответах на другие три-четыре вопроса допущены ошибки / ответы на другие три-четыре вопроса не представлены	1																
Правильно даны ответы только на один-два вопроса. ИЛИ Ответ неправильный	0																
<i>Максимальный балл</i>	3																

Система оценивания выполнения всей работы

Максимальный балл за выполнение работы – 37.

Рекомендации по переводу первичных баллов в отметки по пятибалльной шкале

Отметка по пятибалльной шкале	«2»	«3»	«4»	«5»
Первичные баллы	0 – 10	11 – 25	26 – 32	33 – 37