

**Проверочная работа  
по ГЕОГРАФИИ**

**6 КЛАСС**

**Вариант 1**

**Инструкция по выполнению работы**


На выполнение работы по географии даётся 60 минут. Работа включает в себя 10 заданий.

Ответы на задания запишите в поля ответов в тексте работы. В случае записи неверного ответа зачеркните его и запишите рядом новый.

При выполнении работы не разрешается пользоваться учебником, рабочими тетрадями, атласом и другим справочным материалом.

При необходимости можно пользоваться черновиком. Записи в черновике проверяться и оцениваться не будут. Для выполнения заданий с использованием карт Вам потребуются линейка и карандаш.

Советуем выполнять задания в том порядке, в котором они даны. В целях экономии времени пропускайте задание, которое не удаётся выполнить сразу, и переходите к следующему. Если после выполнения всей работы у Вас останется время, то Вы сможете вернуться к пропущенным заданиям.

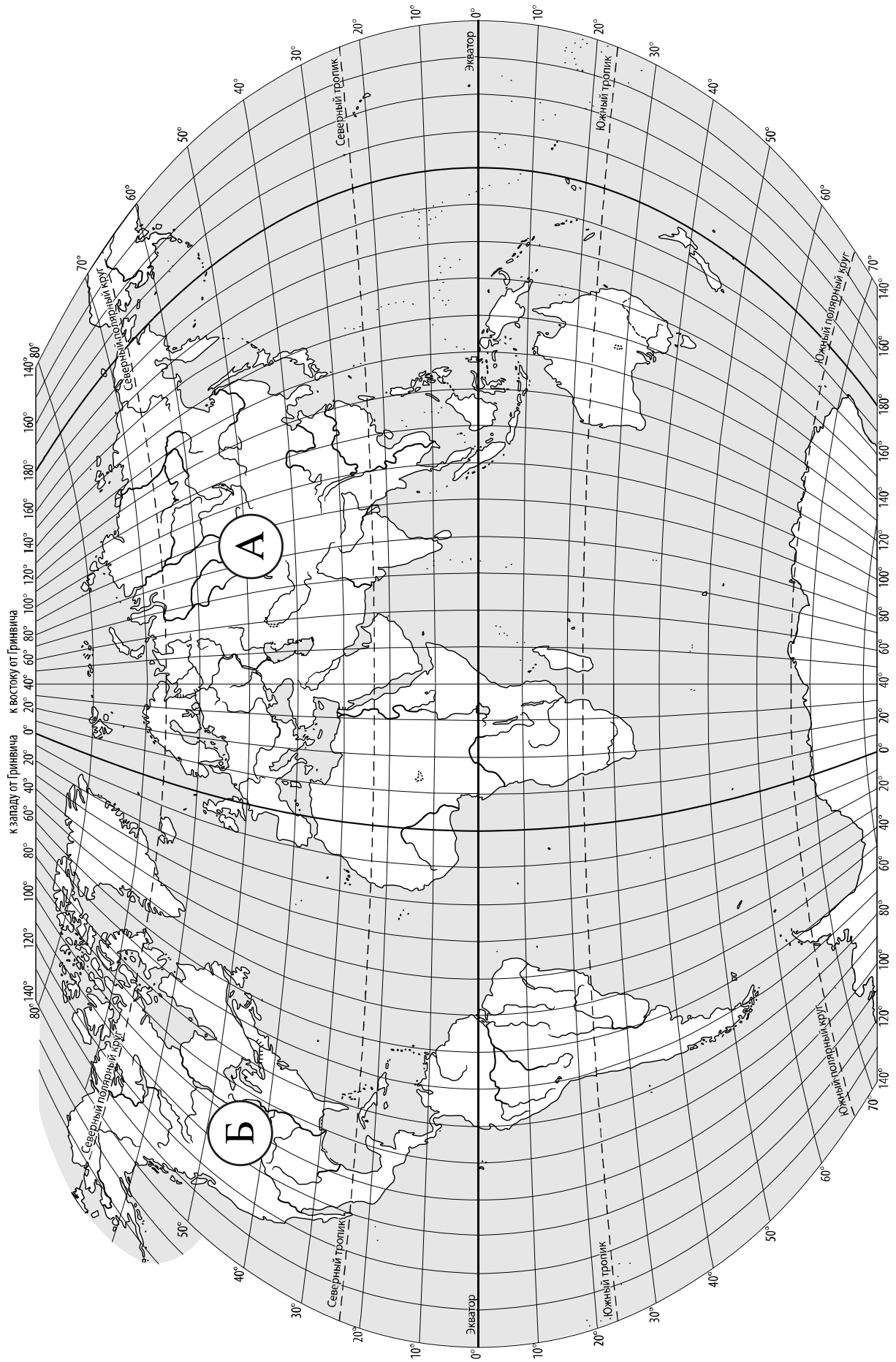
Значком  отмечены задания, ответы на которые записываются на карте, приведённой на странице 2.

***Желаем успеха!***

*Таблица для внесения баллов участника*

Номер задания	1.1	1.2	2.1К1	2.1К2	2.2	3.1	3.2	3.3	4.1	4.2	4.3	5.1	5.2	6.1	6.2К1	6.2К2
Баллы																

Номер задания	7	8.1	8.2	9К1	9К2	9К3	10.1	10.2К1	10.2К2	Сумма баллов	Отметка за работу
Баллы											



**Задание 1 выполняется с использованием карты мира, приведённой на странице 2.**

1 Рассмотрите карту мира. На ней буквами А и Б отмечены два материка.

1.1. Запишите названия материков в соответствующее поле.


Название материка (А) :

Название материка (Б) :


\_\_\_\_\_

\_\_\_\_\_

1.2. С каким из названных Вами материков связаны открытия путешественников и исследователей, изображённых на портретах? Укажите название материка.



*П.П. Семёнов-Тян-Шанский*



*Марко Поло*

Ответ. \_\_\_\_\_

Подпишите на карте океаны, омывающие берега указанного Вами материка.



**Задание 2 выполняется с использованием карты мира, приведённой на странице 2.**

2

2.1. Поставьте точки на карте по приведённым ниже координатам. Обозначьте эти точки соответственно цифрами 1 и 2.



Точка 1 –  $26^{\circ}$  с. ш.  $10^{\circ}$  в. д.

Точка 2 –  $46^{\circ}$  с. ш.  $10^{\circ}$  в. д.

В каком направлении от точки 1 расположена точка 2?

Ответ. \_\_\_\_\_

2.2. Точка 2 расположена на территории крупного географического объекта. Прочитайте текст, рассмотрите фотографию и укажите название этого географического объекта.

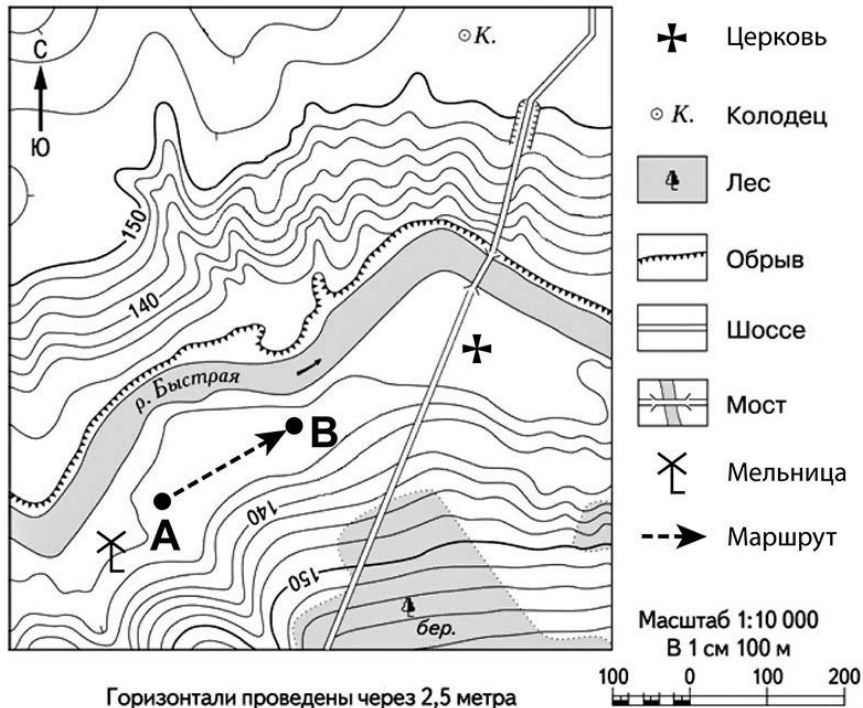
Горная система в Европе, вытянутая на 1200 км по территории восьми стран. Средняя высота её невелика – 2500 м над уровнем моря; высочайшая вершина – г. Монблан (4807 м). Вершины гор покрыты ледниками. Здесь берут начало реки Рейн, Рона, По. Многочисленны озёра ледникового происхождения: Женевское, Боденское, Комо. В горах ярко выражена высотная поясность, горные леса сменяются красочными альпийскими лугами. Здесь издавна развивался туризм, сейчас горы являются популярным центром горнолыжного спорта.



Ответ. \_\_\_\_\_

**Задание 3 выполняется с использованием приведённого ниже фрагмента топографической карты.**

3



3.1. На каком берегу реки Быстрой находится церковь?

Ответ. \_\_\_\_\_

□

В каком направлении от церкви расположен мост?

Ответ. \_\_\_\_\_

3.2. Какова протяжённость проложенного на карте маршрута А–В? Для выполнения задания используйте линейку. Расстояние измеряйте по центрам точек.

□

Ответ. \_\_\_\_\_

3.3. Какой из изображённых на фотографиях объектов может быть сооружён на территории, по которой проходит маршрут А–В? Запишите в ответе **номер** фотографии. Обоснуйте свой ответ.



1 – каток



2 – лыжный спуск

□

Ответ. Объект: \_\_\_\_\_


\_\_\_\_\_

\_\_\_\_\_

4


4.1. Разница во времени между городами Самарой и Находкой составляет **+6 часов**. На рисунках представлены показания часов в этих городах в тот момент, когда в Самаре **11 часов утра**. Запишите под каждым рисунком, как отображается то же самое время на электронных часах в этих городах.

САМАРА



\_\_\_\_\_

НАХОДКА



\_\_\_\_\_

4.2. Ирина живёт в Самаре. Что она делает в указанное Вами время? Используйте для ответа приведённый режим дня школьника.

Ответ. \_\_\_\_\_

4.3. Что в это же время делает её сверстница Дарья, которая живёт в Находке, если она соблюдает тот же режим дня, что и Ирина?

Ответ. \_\_\_\_\_

Обоснуйте свой ответ. Укажите, чем обусловлена разница во времени в разных частях Земли.

Ответ. \_\_\_\_\_

**РЕЖИМ ДНЯ ШКОЛЬНИКА**

<b>7.00</b>	<i>Подъём</i>
<b>7.05 – 7.20</b>	<i>Утренняя зарядка</i>
<b>7.20 – 7.30</b>	<i>Гигиенические процедуры</i>
<b>7.30 – 8.00</b>	<i>Завтрак</i>
<b>8.00 – 8.15</b>	<i>Дорога в школу</i>
<b>8.30 – 13.10</b>	<i>Уроки в школе</i>
<b>13.10 – 13.30</b>	<i>Дорога домой</i>
<b>13.45 – 14.15</b>	<i>Обед</i>
<b>14.15 – 16.15</b>	<i>Занятия в кружках/секциях</i>
<b>16.30 – 16.45</b>	<i>Полдник</i>
<b>16.45 – 18.15</b>	<i>Выполнение домашних заданий</i>
<b>18.15 – 19.15</b>	<i>Прогулка на свежем воздухе</i>
<b>19.30 – 20.00</b>	<i>Ужин</i>
<b>20.00 – 21.30</b>	<i>Свободное время (чтение книг, просмотр телепередач, настольные игры)</i>
<b>21.30 – 22.00</b>	<i>Гигиенические процедуры и подготовка ко сну</i>
<b>22.00 – 7.00</b>	<i>Ночной сон</i>

5

5.1. Установите соответствие между географическими особенностями и природными зонами, для которых они характерны: для этого к каждой позиции первого столбца подберите соответствующую позицию из второго столбца.

**ГЕОГРАФИЧЕСКИЕ ОСОБЕННОСТИ**

**ПРИРОДНЫЕ ЗОНЫ**

- А) произрастание на одной территории хвойных и лиственных деревьев
- Б) местообитание зубра, лося, барсука, бобра
- В) тёплая сухая зима и жаркое дождливое лето
- Г) умеренно холодная, снежная зима и тёплое лето
- Д) произрастание баобаба и зонтичной акации
- Е) местообитание крупных птиц: страуса, фламинго, птицы-секретаря

- 1) смешанные леса
- 2) саванны и редколесья

Запишите в таблицу выбранные цифры под соответствующими буквами.

Ответ:

А	Б	В	Г	Д	Е

5.2. Определите, в какой из указанных природных зон могла быть сделана каждая фотография. Подпишите названия природных зон.



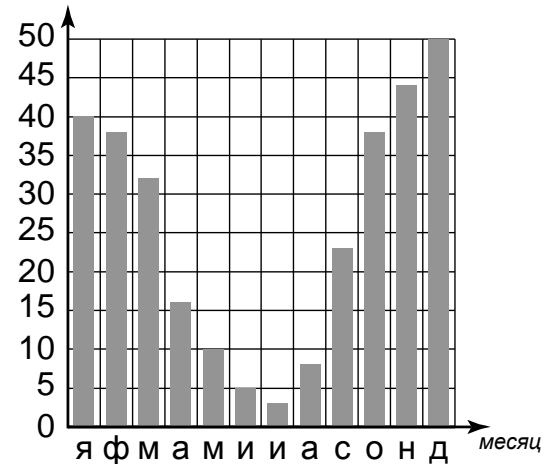
А – \_\_\_\_\_

Б – \_\_\_\_\_

6

На метеорологической станции города N в течение года наблюдали за количеством осадков. По результатам наблюдений метеорологи построили диаграмму выпадения осадков по месяцам. Рассмотрите диаграмму выпадения осадков и ответьте на вопросы.

кол-во осадков, мм



6.1. В каком месяце выпало больше всего осадков?

Ответ. \_\_\_\_\_

На какие три месяца приходилось наименьшее количество осадков?

Ответ. \_\_\_\_\_

6.2. На каком рисунке знаками отображена погода в тот день, когда выпал снег? Укажите букву, которой обозначен этот рисунок. Составьте описание погоды в этот день по условным обозначениям на указанном Вами рисунке.

А				+20 °C	80%
Б				+18 °C	58%
В				-9 °C	60%

Ответ. Рисунок: \_\_\_\_\_

---



---



---



---

7

Прочитайте текст и выполните задание.

(1)Непрерывное водное пространство Земли называют Мировым океаном. (2)Мировой океан составляет 96% всей гидросферы. (3)Мировой океан участвует в круговороте воды и играет важнейшую роль в формировании климата на планете. (4)Большая часть кислорода вырабатывается водорослями, обитающими в морях и океанах. (5)Кислород необходим для дыхания всех живых существ на планете: на суше и в океане. (6)Человечеству Мировой океан служит источником продовольствия, полезных ископаемых, энергии.

По каким предложениям можно сделать вывод о значении Мирового океана? Запишите номера предложений.

Ответ. \_\_\_\_\_



8

8.1. Используя приведённую ниже таблицу, выполните задания.

**Численность и показатели рождаемости и смертности населения, 2016 г.**

№	Страна	Численность населения, млн человек	Показатели рождаемости и смертности, на 1000 жителей	
			рождаемость	смертность
1	Бразилия	208	14	6
2	Япония	127	8	10
3	США	325	12	8
4	Китай	1387	12	7

Расположите страны в порядке **уменьшения** численности населения, начиная со страны с самой большой численностью. Запишите в ответе последовательность порядковых номеров этих стран.

Ответ. \_\_\_\_\_

В какой стране показатель смертности превышает показатель рождаемости? Запишите в ответе название страны.

Ответ. \_\_\_\_\_

В каких странах показатели рождаемости одинаковы? Запишите в ответе название страны.

Ответ. \_\_\_\_\_

8.2. На photographиях изображены достопримечательности стран, указанных в таблице. Запишите под каждой photographией название соответствующей **страны**.



А – \_\_\_\_\_



Б – \_\_\_\_\_



В – \_\_\_\_\_



Г – \_\_\_\_\_

9

Рассмотрите фотографию с изображением опасного явления природы. Запишите его название.



Ответ. Природное явление – \_\_\_\_\_

Составьте краткое описание этого природного явления. Поясните, чем опасно это явление для людей.

Ответ. \_\_\_\_\_

10

10.1. Запишите название региона: республики, или области, или края, или автономного округа, или города федерального значения, в котором Вы живёте.

Ответ. \_\_\_\_\_

Как называется главный город Вашего региона? / Как называется населённый пункт / округ / муниципальный район города, в котором Вы живёте или расположена Ваша школа?

Ответ. \_\_\_\_\_

10.2. Какие реки протекают по территории Вашего региона? Составьте краткое описание одной из этих рек.

Ответ. \_\_\_\_\_