

Инструкция по выполнению регионального тренировочного мероприятия

Региональное тренировочное мероприятие в форме ОГЭ по математике состоит из двух частей, включающих в себя 25 заданий.

Часть 1 содержит 19 заданий, часть 2 содержит 6 заданий с развёрнутым ответом.

На выполнение регионального тренировочного мероприятия в форме ОГЭ по математике отводится 3 часа 55 минут (235 минут).

Ответы к заданиям 7 и 13 запишите в бланк ответов № 1 в виде одной цифры, которая соответствует номеру правильного ответа.

Для остальных заданий части 1 ответом является число или последовательность цифр. Ответ запишите в поле ответа в тексте работы, а затем перенесите в бланк ответов № 1. Если получилась обыкновенная дробь, ответ запишите в виде десятичной.

Решения заданий части 2 и ответы к ним запишите на бланке ответов № 2. Задания можно выполнять в любом порядке. Текст задания переписывать не надо, необходимо только указать его номер.

Все бланки заполняются яркими черными чернилами. Допускается использование гелевой или капиллярной ручки.

Сначала выполняйте задания части 1. Начать советуем с тех заданий, которые вызывают у Вас меньше затруднений, затем переходите к другим заданиям. Для экономии времени пропускайте задание, которое не удастся выполнить сразу, и переходите к следующему. Если у Вас останется время, Вы сможете вернуться к пропущенным заданиям.

При выполнении части 1 все необходимые вычисления, преобразования выполняйте в черновике. Записи в черновике, а также в тексте контрольных измерительных материалов не учитываются при оценивании работы.

Если задание содержит рисунок, то на нём непосредственно в тексте работы можно выполнять необходимые Вам построения. Рекомендуем внимательно читать условие и проводить проверку полученного ответа.

При выполнении работы Вы можете воспользоваться справочными материалами, выданными вместе с вариантом КИМ, линейкой.

Баллы, полученные Вами за выполненные задания, суммируются. Постарайтесь выполнить как можно больше заданий и набрать наибольшее количество баллов.

После завершения работы проверьте, чтобы ответ на каждое задание в бланках ответов № 1 и № 2 был записан под правильным номером.

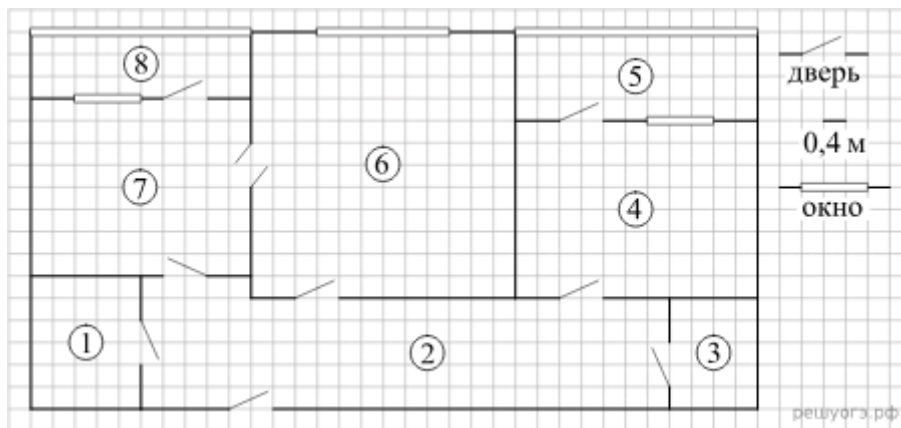
Желаем успеха!

Вариант 134

Часть 1

Ответами к заданиям 1–19 являются число или последовательность цифр, которые следует записать в БЛАНК ОТВЕТОВ № 1 справа от номера соответствующего задания, начиная с первой клеточки. Если ответом является последовательность цифр, то запишите её без пробелов и других дополнительных символов. Каждый символ пишите в отдельной клеточке в соответствии с приведёнными в бланке образцами.

Прочитайте внимательно текст и выполните задания 1–5.



На рисунке изображен план двухкомнатной квартиры в многоэтажном жилом доме. Сторона одной клетки на плане соответствует 0,4 м, а условные обозначения двери и окна приведены в правой части рисунка.

Вход в квартиру находится в коридоре. Слева от входа в квартиру находится санузел, а в противоположном конце коридора — дверь в кладовую. Рядом с кладовой находится спальня, из которой можно пройти на одну из застекленных лоджий. Самое большое по площади помещение — гостиная, откуда можно попасть в коридор и на кухню. Из кухни также можно попасть на застекленную лоджию.

2. Для объектов, указанных в таблице, определите, какими цифрами они обозначены на плане. Заполните таблицу, в бланк перенесите последовательность четырех цифр без пробелов, запятых и других дополнительных символов.

Объекты	коридор	кладовая	спальня	гостиная
Цифры				

2. Паркетная доска размером 20 см на 80 см продается в упаковках по 12 штук. Сколько упаковок паркетной доски понадобилось, чтобы выложить пол коридора?
3. Найдите площадь санузла. Ответ дайте в квадратных метрах.
4. На сколько процентов площадь кухни больше площади кладовой?
5. В квартире планируется установить стиральную машину. Характеристики стиральных машин, условия подключения и доставки приведены в таблице. Планируется купить стиральную машину с фронтальной загрузкой вместимостью не менее 6 кг.

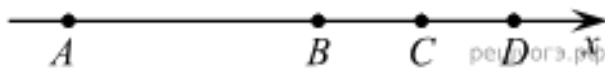
Модель	Вместимость барабана (кг)	Тип загрузки	Стоимость (руб.)	Стоимость подключения (руб.)	Стоимость доставки (% от стоимости машины)	Габариты (высота × ширина × глубина, см)
А	7	верт.	28 000	1700	бесплатно	85 × 60 × 45
Б	5	фронт.	24 000	4500	10	85 × 60 × 40
В	5	фронт.	25 000	5000	10	85 × 60 × 40
Г	6,5	фронт.	24 000	4500	10	85 × 60 × 44
Д	6	фронт.	28 000	1700	бесплатно	85 × 60 × 45
Е	6	верт.	27 600	2300	бесплатно	89 × 60 × 40
Ж	6	верт.	27 585	1900	10	89 × 60 × 40
З	6	фронт.	20 000	6300	15	85 × 60 × 42
И	5	фронт.	27 000	1800	бесплатно	85 × 60 × 40
К	5	верт.	27 000	1800	бесплатно	85 × 60 × 40

Сколько рублей будет стоить наиболее дешевый подходящий вариант вместе с подключением и доставкой?

6. Найдите значение выражения $\frac{13,2}{1,2}$

7. На координатной прямой точками отмечены числа

$$\frac{6}{13}; \frac{8}{17}; 0,42; 0,45$$



Какому числу соответствует точка B?

- 1) $\frac{6}{13}$
- 2) $\frac{8}{17}$
- 3) 0,42
- 4) 0,45

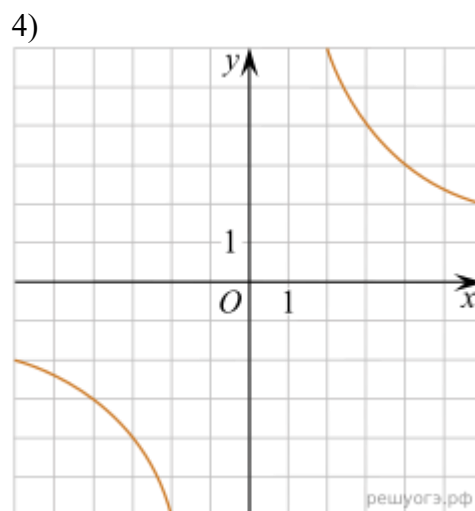
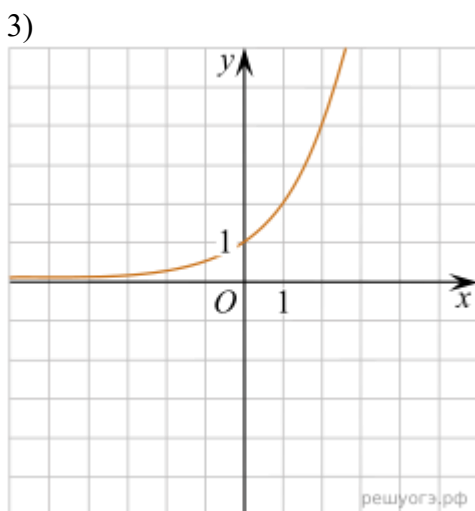
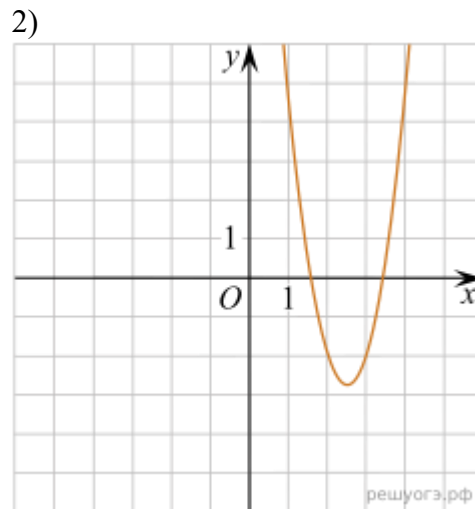
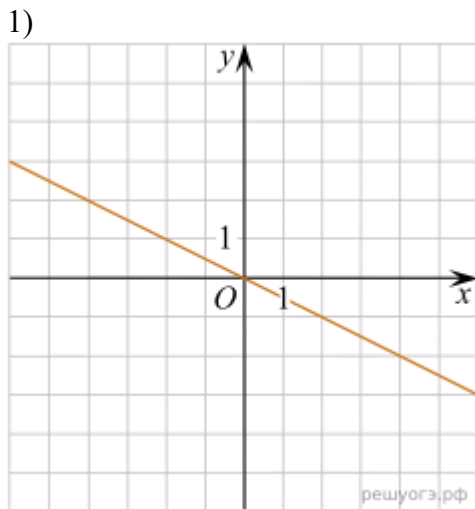
8. Упростите выражение $\frac{xy + y^2}{15x} \cdot \frac{3x}{x + y}$ и найдите его значение при $x = 18$ и $y = 7,5$. В ответе запишите найденное значение.

9. Решите уравнение $(-5x + 3)(-x + 6) = 0$.

Если уравнение имеет более одного корня, в ответ запишите меньший из корней.

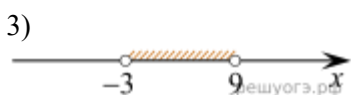
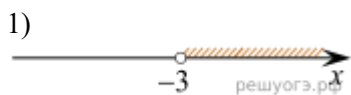
10. В среднем из каждых 80 поступивших в продажу аккумуляторов 76 аккумуляторов заряжены. Найдите вероятность того, что купленный аккумулятор не заряжен.

11. На одном из рисунков изображен график функции $y = \frac{12}{x}$. Укажите номер этого рисунка.

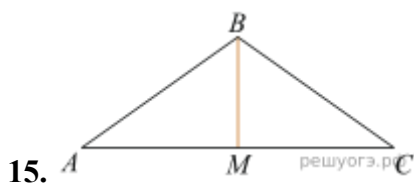


12. Объем пирамиды вычисляют по формуле $V = \frac{1}{3}Sh$, где S — площадь основания пирамиды, h — ее высота. Объем пирамиды равен 40, площадь основания 15. Чему равна высота пирамиды?

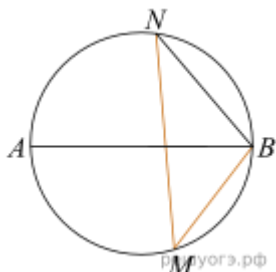
13. На каком рисунке изображено множество решений неравенства $x^2 - 6x - 27 > 0$?



14. При проведении опыта вещество равномерно охлаждали в течение 10 минут. При этом каждую минуту температура вещества уменьшалась на 9°C . Найдите температуру вещества (в градусах Цельсия) через 4 минуты после начала проведения опыта, если его начальная температура составляла -5°C .

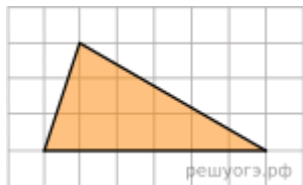


15. В треугольнике ABC $AB = BC = 50$, $AC = 96$. Найдите длину медианы BM .



16. На окружности по разные стороны от диаметра AB взяты точки M и N . Известно, что $\angle NBA = 69^\circ$. Найдите угол NMB . Ответ дайте в градусах.

17. Основания трапеции равны 20 и 26, одна из боковых сторон равна $8\sqrt{3}$, а угол между ней и одним из оснований равен 120° . Найдите площадь трапеции.



18. На клетчатой бумаге с размером клетки 1×1 изображен треугольник. Найдите его площадь.

19. Укажите номера верных утверждений.

- 1) Площадь трапеции равна половине высоты, умноженной на разность оснований.
- 2) Через любые две точки можно провести прямую.
- 3) Через точку, не лежащую на данной прямой, можно провести единственную прямую, перпендикулярную данной прямой.

Если утверждений несколько, запишите их номера в порядке возрастания.

Не забудьте перенести все ответы в БЛАНК ОТВЕТОВ № 1 в соответствии с инструкцией по выполнению работы. Проверьте, чтобы каждый ответ был записан в строке с номером соответствующего задания.

Часть 2

При выполнении заданий 20–25 используйте БЛАНК ОТВЕТОВ № 2. Сначала укажите номер задания, а затем запишите его решение и ответ. Пишите чётко и разборчиво.

20. Решите уравнение: $x^3 = x^2 - 7x + 7$

21. Первые 300 км автомобиль ехал со скоростью 60 км/ч, следующие 300 км - со скоростью 100 км/ч, а последние 300 км — со скоростью 75 км/ч. Найдите среднюю скорость автомобиля на протяжении всего пути.

22. Первая прямая проходит через точки $(0; 4,5)$ и $(3; 6)$. Вторая прямая проходит через точки $(1; 2)$ и $(-4; 7)$. Найдите координаты общей точки этих двух прямых.
23. Прямая, параллельная стороне AC треугольника ABC , пересекает стороны AB и BC в точках M и N соответственно. Найдите BN , если $MN = 17$, $AC = 51$, $NC = 32$.
24. В треугольнике ABC угол B равен 36° , $AB = BC$, AD — биссектриса. Докажите, что треугольник ABD - равнобедренный.
25. Найдите острые углы прямоугольного треугольника, если его гипотенуза равна 12, а площадь равна 18.

Проверьте, чтобы каждый ответ был записан рядом с номером соответствующего задания.