

Инструкция по выполнению регионального тренировочного мероприятия

Региональное тренировочное мероприятие в форме ОГЭ по математике состоит из двух частей, включающих в себя 25 заданий.

Часть 1 содержит 19 заданий, часть 2 содержит 6 заданий с развёрнутым ответом.

На выполнение регионального тренировочного мероприятия в форме ОГЭ по математике отводится 3 часа 55 минут (235 минут).

Ответы к заданиям 7 и 13 запишите в бланк ответов № 1 в виде одной цифры, которая соответствует номеру правильного ответа.

Для остальных заданий части 1 ответом является число или последовательность цифр. Ответ запишите в поле ответа в тексте работы, а затем перенесите в бланк ответов № 1. Если получилась обыкновенная дробь, ответ запишите в виде десятичной.

Решения заданий части 2 и ответы к ним запишите на бланке ответов № 2. Задания можно выполнять в любом порядке. Текст задания переписывать не надо, необходимо только указать его номер.

Все бланки заполняются яркими черными чернилами. Допускается использование гелевой или капиллярной ручки.

Сначала выполняйте задания части 1. Начать советуем с тех заданий, которые вызывают у Вас меньше затруднений, затем переходите к другим заданиям. Для экономии времени пропускайте задание, которое не удастся выполнить сразу, и переходите к следующему. Если у Вас останется время, Вы сможете вернуться к пропущенным заданиям.

При выполнении части 1 все необходимые вычисления, преобразования выполняйте в черновике. Записи в черновике, а также в тексте контрольных измерительных материалов не учитываются при оценивании работы.

Если задание содержит рисунок, то на нём непосредственно в тексте работы можно выполнять необходимые Вам построения. Рекомендуем внимательно читать условие и проводить проверку полученного ответа.

При выполнении работы Вы можете воспользоваться справочными материалами, выданными вместе с вариантом КИМ, линейкой.

Баллы, полученные Вами за выполненные задания, суммируются. Постарайтесь выполнить как можно больше заданий и набрать наибольшее количество баллов.

После завершения работы проверьте, чтобы ответ на каждое задание в бланках ответов № 1 и № 2 был записан под правильным номером.

Желаем успеха!

Вариант 133

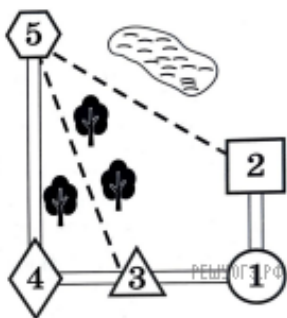
Часть 1

Ответами к заданиям 1–19 являются число или последовательность цифр, которые следует записать в БЛАНК ОТВЕТОВ № 1 справа от номера соответствующего задания, начиная с первой клеточки. Если ответом является последовательность цифр, то запишите её без пробелов и других дополнительных символов. Каждый символ пишите в отдельной клеточке в соответствии с приведёнными в бланке образцами.

Прочитайте внимательно текст и выполните задания 1–5.

Юля летом отдыхает у бабушки и дедушки в деревне Царево. Юля с бабушкой собираются съездить на машине на железнодорожную станцию Таировку. Из Царево в Таировку можно проехать по шоссе до деревни Ключи, где нужно свернуть под прямым углом налево на другое шоссе, ведущее в Таировку через поселок Демидово. Из Царево в Таировку можно проехать через поселок Демидово и не заезжая в Ключи, но тогда первую часть пути надо будет ехать по прямой лесной дороге. Есть и третий маршрут: доехать по прямой грунтовой дороге мимо озера до села Федяево и там, повернув направо, по шоссе добраться до Таировки.

По шоссе Юля с бабушкой едут со скоростью 60 км/ч, а по лесной и грунтовой дорогам — 45 км/ч. Расстояние по шоссе от Царево до Ключей равно 72 км, от Таировки до Ключей — 60 км, от Таировки до Демидово — 30 км, а от Таировки до Федяево — 27 км.



1. Пользуясь описанием, определите, какими цифрами на плане обозначены населенные пункты. В ответ запишите полученную последовательность пяти цифр.

Насел. пункты	п. Демидово	д. Ключи	ст. Таировка	с. Федяево	д. Царево
Цифры					

2. Найдите расстояние от деревни Царево до поселка Демидово по лесной дороге. Ответ дайте в километрах.

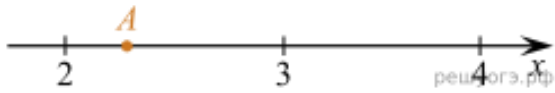
3. Сколько минут затратят на дорогу Юля с бабушкой, если поедут на станцию через Ключи?

4. Определите, на какой маршрут до станции потребуется меньше всего времени. В ответе укажите, сколько минут потратят на дорогу Юля с бабушкой, если поедут этим маршрутом.

5. На шоссе машина бабушки расходует 6,5 литра бензина на 100 км. Известно, что на путь из Царево до Таировки через Ключи и на путь через Федяево ей необходим один и тот же объем бензина. Сколько литров бензина на 100 км машина бабушки расходует на грунтовых дорогах?

6. Найдите значение выражения $\frac{8,4}{1,2}$

7. Одно из чисел $\sqrt{5}, \sqrt{7}, \sqrt{11}, \sqrt{14}$ отмечено на прямой точкой A . Какое это число?



- 1) $\sqrt{5}$
- 2) $\sqrt{7}$
- 3) $\sqrt{11}$
- 4) $\sqrt{14}$

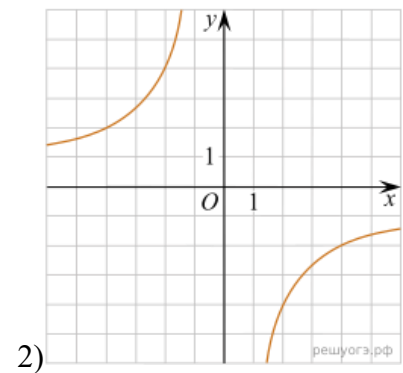
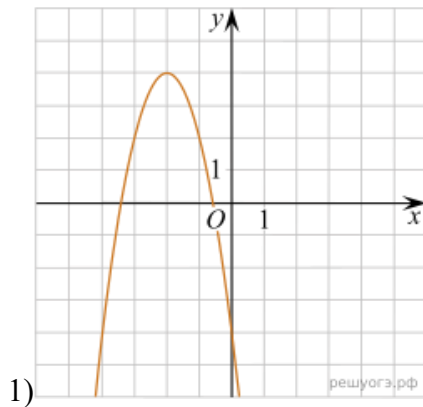
8. Найдите значение выражения $\frac{xy + y^2}{42x} \cdot \frac{7x}{x + y}$ при $x = -5,4$, $y = -0,6$.

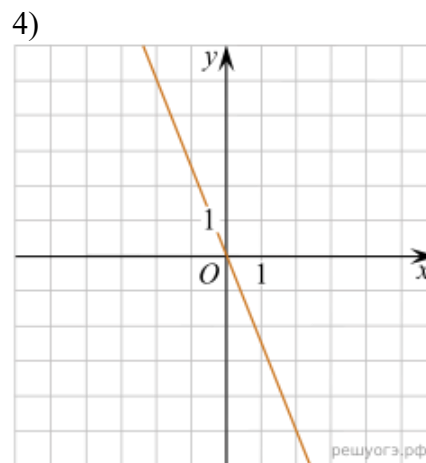
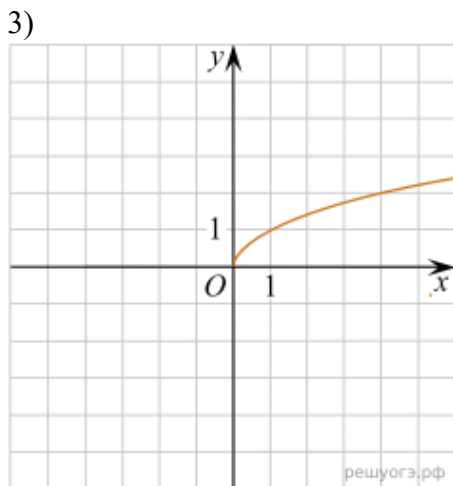
9. Найдите корни уравнения $x^2 + 4 = 5x$.

Если корней несколько, запишите их в ответ без пробелов в порядке возрастания.

10. Из каждых 1000 электрических лампочек 5 бракованных. Какова вероятность купить исправную лампочку?

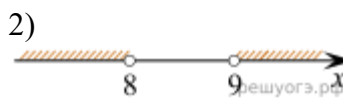
11. На одном из рисунков изображена гипербола. Укажите номер этого рисунка.



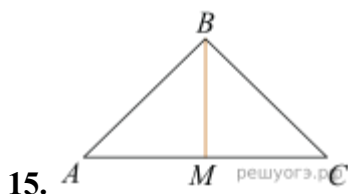


12. Площадь трапеции S (в м^2) можно вычислить по формуле $S = \frac{a+b}{2} \cdot h$, где a, b — основания трапеции, h — высота (в метрах). Пользуясь этой формулой, найдите высоту h , если основания трапеции равны 5 м и 7 м, а ее площадь 24 м^2 .

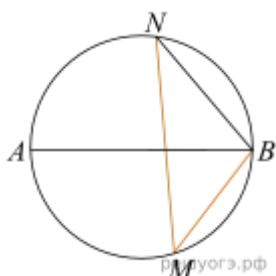
13. На каком рисунке изображено множество решений неравенства $x^2 - 17x + 72 < 0$?



14. При проведении опыта вещество равномерно охлаждали в течение 10 минут. При этом каждую минуту температура вещества уменьшалась на 9°C . Найдите температуру вещества (в градусах Цельсия) через 6 минут после начала проведения опыта, если его начальная температура составляла -6°C .

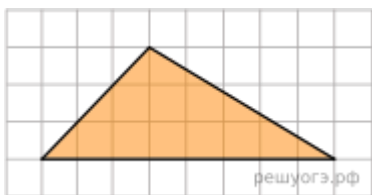


В треугольнике ABC $AB = BC = 35, AC = 42$. Найдите длину медианы BM .



16. На окружности по разные стороны от диаметра AB взяты точки M и N . Известно, что $\angle NBA = 63^\circ$. Найдите угол NMB . Ответ дайте в градусах.

17. Основания трапеции равны 6 и 30, одна из боковых сторон равна $7\sqrt{3}$, а угол между ней и одним из оснований равен 120° . Найдите площадь трапеции.



18. На клетчатой бумаге с размером клетки 1×1 изображен треугольник. Найдите его площадь.

19. Укажите номера верных утверждений.

- 1) Если три стороны одного треугольника пропорциональны трем сторонам другого треугольника, то треугольники подобны.
- 2) Сумма смежных углов равна 180° .
- 3) Любая высота равнобедренного треугольника является его биссектрисой.

Если утверждений несколько, запишите их номера в порядке возрастания.

Не забудьте перенести все ответы в БЛАНК ОТВЕТОВ № 1 в соответствии с инструкцией по выполнению работы. Проверьте, чтобы каждый ответ был записан в строке с номером соответствующего задания.

Часть 2

При выполнении заданий 20–25 используйте БЛАНК ОТВЕТОВ № 2. Сначала укажите номер задания, а затем запишите его решение и ответ. Пишите чётко и разборчиво.

При выполнении заданий 20–25 используйте БЛАНК ОТВЕТОВ № 2. Сначала укажите номер задания, а затем запишите его решение и ответ. Пишите четко и разборчиво.

$$\frac{x^3 + 2x^2 - 9x - 18}{(x - 3)(x + 2)}$$

20. Сократите дробь

21. Первые 5 часов автомобиль ехал со скоростью 60 км/ч, следующие 3 часа — со скоростью 100 км/ч, а последние 4 часа — со скоростью 75 км/ч. Найдите среднюю скорость автомобиля на протяжении всего пути.

22. При каком значении p прямая $y = -2x + p$ имеет с параболой $y = x^2 + 2x$ ровно одну общую точку? Найдите координаты этой точки. Постройте в одной системе координат данную параболу и прямую при найденном значении p .

23. В прямоугольном треугольнике ABC с прямым углом C известны катеты: $AC = 6$, $BC = 8$. Найдите медиану CK этого треугольника.

24. Окружность касается стороны AB треугольника ABC , у которого $\angle C = 90^\circ$, и продолжений его сторон AC и BC за точки A и B соответственно. Докажите, что периметр треугольника ABC равен диаметру этой окружности.

25. Одна из биссектрис треугольника делится точкой пересечения биссектрис в отношении $40:1$, считая от вершины. Найдите периметр треугольника, если длина стороны треугольника, к которой эта биссектриса проведена, равна 30 .

<p>Проверьте, чтобы каждый ответ был записан рядом с номером соответствующего задания.</p>
