

**Проверочная работа
по ИСТОРИИ**

6 класс

Вариант 1

Инструкция по выполнению работы

На выполнение проверочной работы по истории отводится один урок (не более 45 минут). Работа включает в себя 8 заданий по истории России с древнейших времён до начала XVI в., истории зарубежных стран (история Средних веков) и 1 задание, связанное с памятью о Великой Отечественной войне.

Ответы на задания запишите в поля ответов в тексте работы. В случае записи неверного ответа зачеркните его и запишите рядом новый.

При выполнении работы не разрешается пользоваться учебниками, рабочими тетрадями, справочным материалом.

При необходимости можно пользоваться черновиком. Записи в черновике проверяться и оцениваться не будут.

Советуем выполнять задания в том порядке, в котором они даны. В целях экономии времени пропускайте задание, которое не удаётся выполнить сразу, и переходите к следующему. Если после выполнения всей работы у Вас останется время, то Вы сможете вернуться к пропущенным заданиям.

Желаем успеха!

*Таблица для внесения баллов участника**

| Номер задания | 1 | 2 | 3 | 4 | 5 | 6 | 7 | 8 | 9 | Сумма баллов | Отметка за работу |
|---------------|---|---|---|---|---|---|---|---|---|--------------|-------------------|
| Баллы | | | | | | | | | | | |

* *Обратите внимание:* в случае, если какие-либо задания не могли быть выполнены целым классом по причинам, связанным с особенностями организации учебного процесса, в форме сбора результатов ВПР всем обучающимся класса за данные задания вместо баллов выставляется значение «Тема не пройдена». В соответствующие ячейки таблицы заполняется н/п.



Прочтите перечень из четырёх событий (процессов) и выполните задания, относящиеся к этому перечню.

Перечень событий (процессов)

- А)** внешняя политика первых русских князей **Б)** объединение Франции в XII–XV вв. в 882–972 гг.
В) взаимоотношения русских земель и княжеств **Г)** борьба Руси с половцами в XI–XII вв. с Золотой Ордой в XIII в.

1

Каждая из иллюстраций, приведённых ниже, относится к одному из указанных в перечне событий (процессов). Установите соответствие между событиями (процессами) и иллюстрациями: к каждому событию (процессу) подберите относящуюся к нему иллюстрацию.

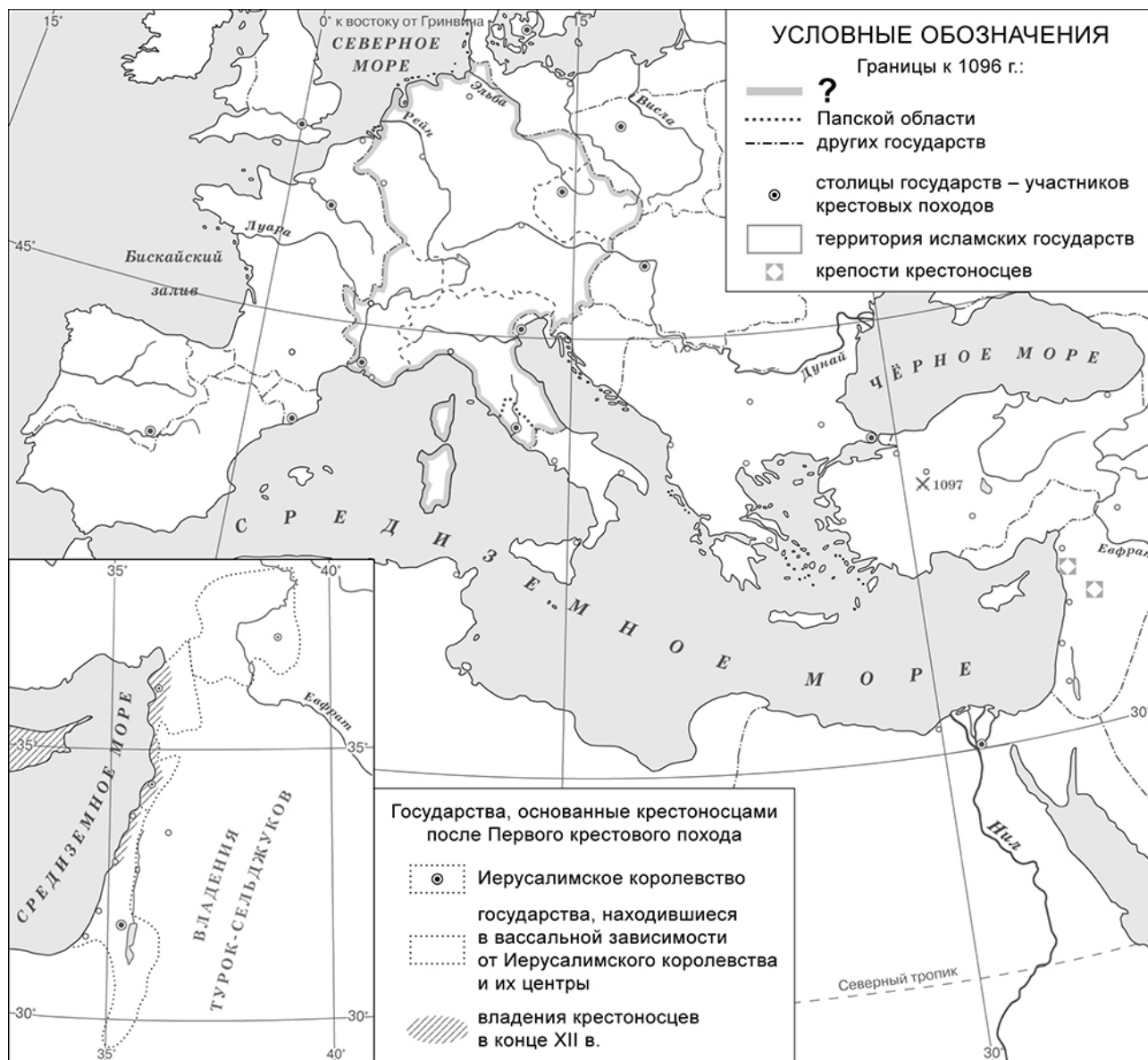


Запишите в таблицу выбранные цифры под соответствующими буквами.

Ответ:

| А | Б | В | Г |
|---|---|---|---|
| | | | |

Рассмотрите карту и выполните задания 2, 3.



2

Укажите название государства (объединения государств), границы которого обозначены в легенде карты знаком вопроса (?).

□

Ответ: _____.

3

Подпишите на карте города Рим и Константинополь.

□

Перечень событий (процессов)

- А)** внешняя политика первых русских князей **Б)** объединение Франции в XII–XV вв. в 882–972 гг.
- В)** взаимоотношения русских земель и княжеств **Г)** борьба Руси с половцами в XI–XII вв. с Золотой Ордой в XIII в.

Прочтите отрывок из исторического источника и выполните задания 4 и 5.

«Цари же Леон и Александр заключили мир с Олегом, обязались уплачивать дань и присягали друг другу: сами целовали крест, а Олега с мужами его водили присягать по закону русскому, и клялись те своим оружием и Перуном, своим богом, и Волосом, богом скота, и утвердили мир. И сказал Олег: „Сшейте для руси паруса из паволок, а славянам копринные“, – и было так. И повесил щит свой на воротах в знак победы, и пошёл от столицы Византии. И подняла русь паруса из паволок, а славяне – копринные, и разодрал их ветер; и сказали славяне: „Возьмём свои толстины, не даны славянам паруса из паволок“. И вернулся Олег в столицу Руси, неся золото, и паволоки, и плоды, и вино, и всякое узорочье. И прозвали Олега Вещим, так как были люди язычниками и непросвещёнными».

4

Определите, к какому из данных событий (процессов) относится данный отрывок. В ответе напишите букву, которой обозначено это событие (процесс).

Ответ:

5

Какими богами, согласно данному отрывку, клялись Олег и его мужи? Из чего, согласно данному отрывку, приказал Олег сшить паруса для руси?

Ответ: _____

Перечень событий (процессов)

- А)** внешняя политика первых русских князей в 882–972 гг. **Б)** объединение Франции в XII–XV вв.
В) взаимоотношения русских земель и княжеств с Золотой Ордой в XIII в. **Г)** борьба Руси с половцами в XI–XII вв.

6

С каким из данных событий (процессов) связано слово «баскак»? Запишите букву, которой обозначено данное событие (процесс).

Ответ:

Объясните смысл слова «баскак».

Ответ: _____

Выберите одно событие (процесс) из перечня и выполните задание 7.

Выбранное событие (процесс): (укажите букву в перечне).

7

Используя знание исторических фактов, объясните, почему выбранное Вами событие (процесс) имело большое значение (важные последствия) в истории нашей страны и/или истории зарубежных стран.

Ответ: _____

Рассмотрите изображения.

1)



2)



3)



4)



8

На каких двух изображениях представлены памятники культуры России, а на каких – памятники культуры зарубежных стран? Запишите в таблицу порядковые номера соответствующих изображений.

Ответ:

| Памятники культуры России | | Памятники культуры зарубежных стран | |
|---------------------------|--|-------------------------------------|--|
| | | | |

9

Рассмотрите изображение и выполните задание.



Укажите название акции памяти, во время проведения которой была сделана данная фотография. Объясните, почему участие в этой акции является значимым для граждан нашей страны.



Ответ: _____
