

1 Рассмотрите рисунок, на котором изображена жизнедеятельность земляники.



1.1. Какое свойство живых систем иллюстрирует данный процесс?

Ответ: _____

1.2. Приведите пример процесса, иллюстрирующего подобное свойство у грибов.

Ответ: _____

2 Изучите фрагмент экосистемы, представленный на рисунке, и выполните задания.

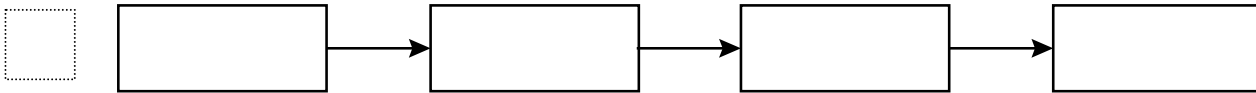


2.1. Выберите из приведённого ниже списка два понятия или термина, которые можно использовать для **экологического описания козы** в экосистеме.

- 1) продуцент
- 2) консумент
- 3) фитофаг
- 4) детритофаг
- 5) паразит

Ответ:

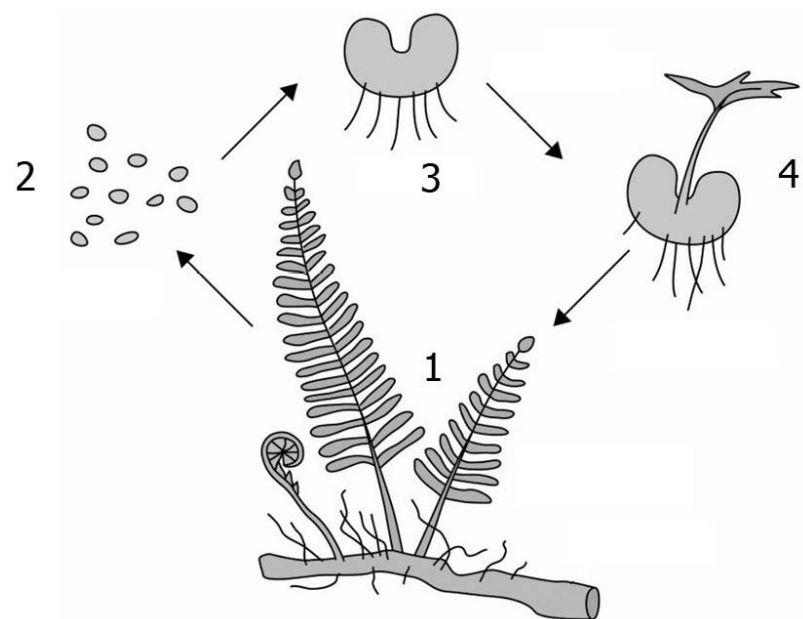
2.2. Составьте пищевую цепь из четырёх организмов, в которую входит змея. В ответе запишите последовательность букв.



2.3. Правило гласит: «только 10% энергии поступает от каждого предыдущего трофического уровня к последующему». Рассчитайте количество энергии (в кДж), которое перейдёт на уровень шакала при первичной годовой продукции экосистемы 280000 кДж. Объясните свои расчёты.

Ответ: _____

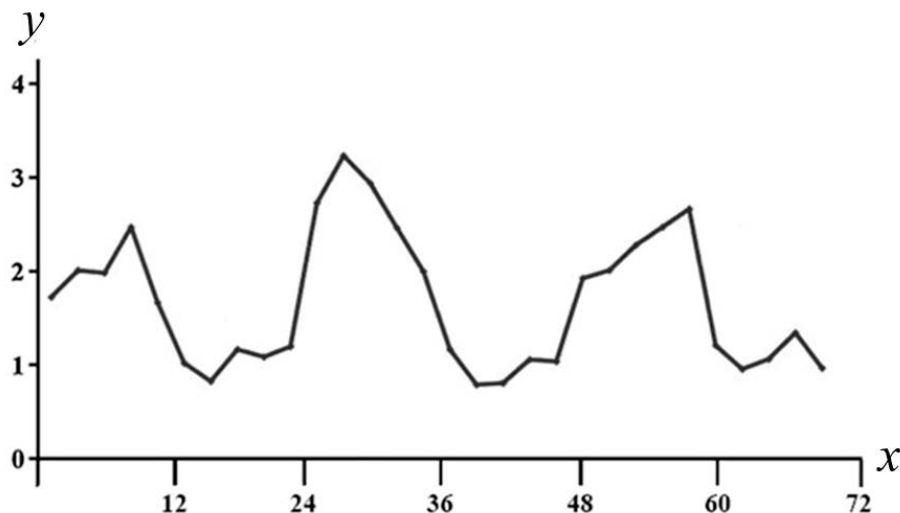
3. Рассмотрите рисунок, на котором представлена схема жизненного цикла папоротника. Какие клетки продуцирует стадия, обозначенная цифрой 3?



Ответ: _____

4

Пётр поместил в аквариум 15 мальков рыбок и несколько дней снимал на камеру их перемещения. Затем он проанализировал движение мальков и по результатам эксперимента построил график (по оси x отложено время (в ч), а по оси y – средняя скорость движения мальков (в мм/с)).



Опишите зависимость скорости движения мальков от времени наблюдения.

Ответ: _____

5

Установите последовательность соподчинения представленных ниже элементов, начиная с наибольшего.

Элементы:

- 1) наследственные заболевания
- 2) заболевания, вызванные увеличением числа хромосом
- 3) синдром Дауна
- 4) хромосомные заболевания
- 5) заболевания человека
- 6) заболевания, вызванные изменением числа хромосом

Запишите в таблицу соответствующую последовательность цифр.

Ответ:

--	--	--	--	--	--	--

6

Углеводы выполняют важные функции в организме человека и животных. Основная функция углеводов – энергетическая. Энергетическую функцию выполняют прежде всего глюкоза, фруктоза, сахароза, а также крахмал и гликоген. Целлюлоза, гемицеллюлоза, пектиновые вещества играют очень важную роль в питании, их волокна стимулируют перистальтику желудочно-кишечного тракта, адсорбируют токсические вещества и холестерин, обеспечивают оптимальные условия для жизнедеятельности нормальной микрофлоры кишечника. Для того чтобы организм не испытывал проблем, человеку в сутки необходимо 300 – 400 г углеводов.

Продукты	Содержание углеводов, г/100 г продукта	Продукты	Содержание углеводов, г/100 г продукта
Кефир	4,2	Сметана	2,5
Молоко коровье	4,4	Пирожное со взбитыми сливками	38,2
Творог полужирный	1,3	Хлеб	39,7
Сыр голландский	2,3	Морковь по-корейски	10,7
Масло сливочное несолёное	0,5	Крупа гречневая	64
Паштет из печени говяжий	5,3	Вермишель из твёрдых сортов пшеницы	71,5
Салями сырокопчёная	1	Горох шлифованный	44
Мясо курицы	0,6	Печень	2,7

6.1. Используя данные таблицы, рассчитайте количество углеводов, которое человек получил во время обеда, если в его рационе было 160 г куриного мяса, 175 г вермишели из твёрдых сортов пшеницы и 170 г пирожного со взбитыми сливками. Ответ округлите до целых.

Ответ: _____

6.2. Какое вещество растительной пищи расщепляется в толстом кишечнике при участии симбиотических бактерий?

Ответ: _____

7

Определите происхождение болезней, приведённых в списке. Запишите номер названия каждой болезни из списка в соответствующую ячейку таблицы. В ячейках таблицы может быть записано несколько номеров.

Список болезней человека:

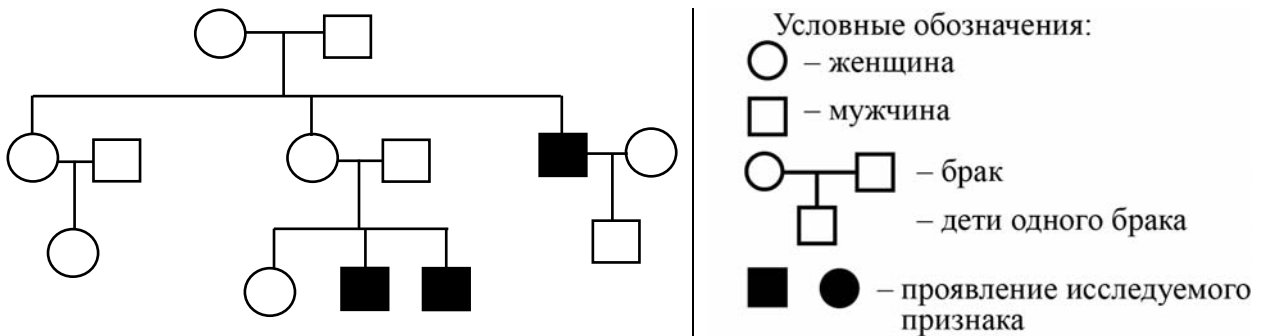
- 1) серповидноклеточная анемия
- 2) грипп
- 3) ожирение
- 4) ОРВИ
- 5) энцефалит

Наследственное заболевание	Приобретённое заболевание	
	Инфекционное	Неинфекционное

8

В медицинской генетике широко используется генеалогический метод. Он основан на составлении родословной человека и изучении наследования того или иного признака. В подобных исследованиях используются определённые обозначения. Изучите фрагмент родословного древа одной семьи, у некоторых членов которой отмечается ночная слепота (куриная слепота).

Фрагмент родословного древа семьи



Используя предложенную схему, определите: доминантный или рецессивный данный признак и сцеплен ли он с половыми хромосомами.

Ответ: _____

9

Селекционер скрестил между собой два растения земляники с усами. В результате скрещивания в потомстве присутствовали особи без усов. Определите генотипы двух исходных растений и полученного потомства по указанному признаку.

Ответы занесите в таблицу.

Генотип первого растения с усами	Генотип второго растения с усами	Генотип полученного потомства без усов

10

Павел решил сдать кровь в качестве донора. При заборе крови ему определили группу, и выяснилось, что у Павла третья группа. Павел знает, что у его матери четвёртая группа крови.

		Группа крови отца				
		I (0)	II (A)	III (B)	IV (AB)	
Группа крови матери	I (0)	I (0)	I (0) II (A)	I (0) III (B)	II (A) III (B)	Группа крови ребенка
	II (A)	I (0) II (A)	I (0) II (A)	любая	II (A) III (B) IV (AB)	
	III (B)	I (0) III (B)	любая	I (0) III (B)	II (A) III (B) IV (AB)	
	IV (AB)	II (A) III (B)	II (A) III (B) IV (AB)	II (A) III (B) IV (AB)	II (A) III (B) IV (AB)	

10.1. Какой группы может быть кровь у отца Павла?

Ответ: _____

10.2. Руководствуясь правилами переливания крови, определите, может ли Павел быть донором крови для своей матери.

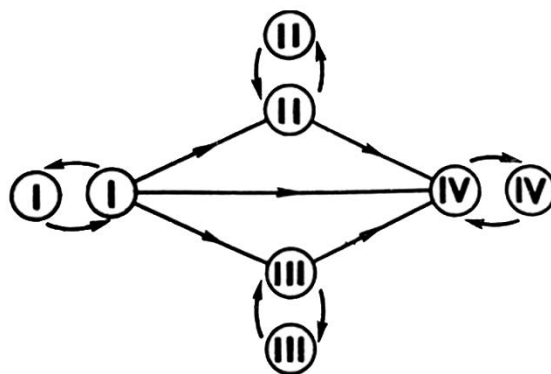
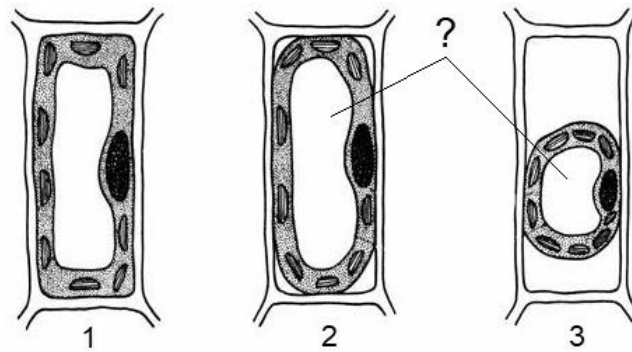


Рис. Правила переливания крови

Ответ: _____

11

Как видно на рисунках 1–3, живое содержимое растительной клетки во время плазмолиза уменьшается в объёме, в том числе уменьшается объём структуры, обозначенной вопросительным знаком.



11.1. Как называется эта клеточная структура?

Ответ: _____

11.2. Объясните, почему уменьшается объём живого содержимого. Какая структура растительной клетки остаётся неизменной и почему?

Ответ: _____

12

Фрагмент транскрибируемой цепи молекулы ДНК имеет следующую последовательность:

ГТГЦЦГТЦААААЦГГ

Определите последовательность участка иРНК, матрицей для синтеза которого послужил этот фрагмент ДНК, и аминокислотную последовательность белка, которая кодируется этим фрагментом ДНК. При выполнении задания воспользуйтесь правилом комплементарности и таблицей генетического кода.

Таблица генетического кода (и-РНК)

Первое основание	Второе основание				Третье основание
	У	Ц	А	Г	
У	Фен	Сер	Тир	Цис	У
	Фен	Сер	Тир	Цис	Ц
	Лей	Сер	—	—	А
	Лей	Сер	—	Три	Г
Ц	Лей	Про	Гис	Арг	У
	Лей	Про	Гис	Арг	Ц
	Лей	Про	Глн	Арг	А
	Лей	Про	Глн	Арг	Г
А	Иле	Тре	Асн	Сер	У
	Иле	Тре	Асн	Сер	Ц
	Иле	Тре	Лиз	Арг	А
	Мет	Тре	Лиз	Арг	Г
Г	Вал	Ала	Асп	Гли	У
	Вал	Ала	Асп	Гли	Ц
	Вал	Ала	Глу	Гли	А
	Вал	Ала	Глу	Гли	Г

Правила пользования таблицей

Первый нуклеотид в триплете берётся из левого вертикального ряда, второй – из верхнего горизонтального ряда и третий – из правого вертикального. Там, где пересекутся линии, идущие от всех трёх нуклеотидов, и находится искомая аминокислота.

Ответ:

12.1. иРНК:

12.2. Белок:

12.3. При расшифровке генома собаки было установлено, что во фрагменте молекулы ДНК доля гуанина составляет 30%. Пользуясь правилом Чаргаффа, описывающим количественные соотношения между различными типами азотистых оснований в ДНК ($A = T$, $G = C$), рассчитайте количество (в %) в этой пробе нуклеотидов с аденином.

Ответ:

13

Согласно современной эволюционной теории существует два способа видообразования. Данные способы представлены на схеме.

Видообразование



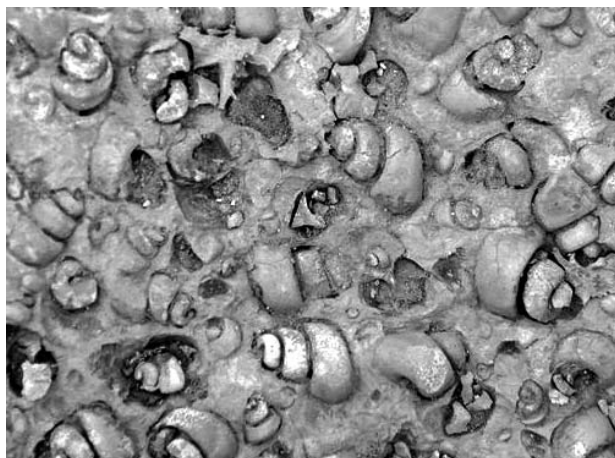
Объясните, руководствуясь этой схемой, образование видов пустынной лисицы – фенька и северной лисицы, очень различающихся внешне.



Ответ: _____

14

На фотографии представлен фрагмент ракушечника – породы, содержащей окаменелости животных, датируемые примерно 450 млн лет назад.



Используя фрагмент геохронологической таблицы, определите эру и период, в которых обитали данные организмы. Эволюционным родственником какого класса современных животных являются представленные в окаменелостях организмы?

Геохронологическая таблица

ЭРА		Период и продолжительность (в млн лет)	Животный и растительный мир
Название и продолжительность (в млн лет)	Начало (млн лет назад)		
Кайнозойская, 67	67	Антропоген, 1,5	Появление и развитие человека. Формирование существующих растительных сообществ. Животный мир принял современный облик
		Неоген, 23,5	Господство млекопитающих и птиц
		Палеоген, 42	Появление хвостатых лемуринов, позднее – парапитеков, дриопитеков. Бурный расцвет насекомых. Продолжается вымирание крупных пресмыкающихся. Исчезают многие группы головоногих моллюсков. Господство покрытосеменных растений
Мезозойская, 163	230	Мел, 70	Появление высших млекопитающих и настоящих птиц, хотя зубастые птицы ещё распространены. Преобладают костистые рыбы. Сокращение многообразия папоротников и голосеменных растений. Появление и распространение покрытосеменных растений
		Юра, 58	Появление первых птиц, примитивных млекопитающих, расцвет динозавров. Господство голосеменных. Процветание головоногих моллюсков
		Триас, 35	Начало расцвета пресмыкающихся. Появление костистых рыб

Палеозойская, 295	Нет точных данных	Пермь, 55	Вымирание трилобитов. Возникновение зверозубых пресмыкающихся. Исчезновение каменноугольных лесов
		Карбон, 63	Расцвет земноводных. Появление первых пресмыкающихся. Характерно разнообразие насекомых. Расцвет гигантских хвощей, плаунов, древовидных папоротников
		Девон, 60	Быстрая эволюция рыб. В позднем девоне многие группы древних рыб вымерли. Суша подверглась нашествию множества членистоногих. Появились первые земноводные. Появились споровые хвощи и плауны
		Силур, 25	Происходит активное рифостроительство. Распространены ракоскорпионы. Растения заселяют берега водоёмов
		Ордовик, 42	Множество бесчелюстных рыб. Появляются различные виды водорослей. В конце появляются первые наземные растения
		Кембрий, 56	В ходе грандиозного эволюционного взрыва возникло большинство современных типов животных. В океанах и морях многообразие водорослей

Эра: _____

Период: _____

Современный родственник: _____

