

**Проверочная работа  
по ФИЗИКЕ**

**8 класс**

**Вариант 1**

**Инструкция по выполнению работы**

На выполнение работы по физике даётся 45 минут. Работа содержит 11 заданий.

Ответом на каждое из заданий 1, 3–7, 9 является число или несколько чисел. В заданиях 2 и 8 нужно написать текстовый ответ. В заданиях 10 и 11 нужно написать решение задач полностью. В случае записи неверного ответа зачеркните его и запишите рядом новый.

При выполнении работы можно пользоваться непрограммируемым калькулятором.

При необходимости можно пользоваться черновиком. Записи в черновике проверяться и оцениваться не будут.

Советуем выполнять задания в том порядке, в котором они даны. Для экономии времени пропускайте задание, которое не удаётся выполнить сразу, и переходите к следующему. Постарайтесь выполнить как можно больше заданий.

***Желаем успеха!***

---

*Заполняется учителем, экспертом или техническим специалистом*


**Обратите внимание:** в случае, если какие-либо задания не могли быть выполнены целым классом по причинам, связанным с отсутствием соответствующей темы в реализуемой школой образовательной программе, в форме сбора результатов ВПР всем обучающимся класса за данное задание вместо балла выставляется значение «Тема не пройдена». В соответствующие ячейки таблицы заполняется н/п.

*Таблица для внесения баллов участника*

Номер задания	1	2	3	4	5	6	7	8	9	10	11	Сумма баллов	Отметка за работу
Баллы													

1

Вася пошёл в канцелярский магазин, чтобы купить новый стержень для своей шариковой ручки. Старый стержень, который был в ручке, имел длину 13,5 см. Продавец предложил Васе стержень, который был у него в наличии. Вася приложил к стержню линейку. На сколько предложенный стержень короче старого?



Ответ: На \_\_\_\_\_ см.

2

При сгорании заряда пороха в канале орудия в процессе выстрела достигается температура 3600 °С. Температура плавления стали 1400 °С. Расплавится ли при одиночном выстреле орудийный ствол? Объясните свой ответ.

Ответ: \_\_\_\_\_

\_\_\_\_\_

\_\_\_\_\_

\_\_\_\_\_

\_\_\_\_\_

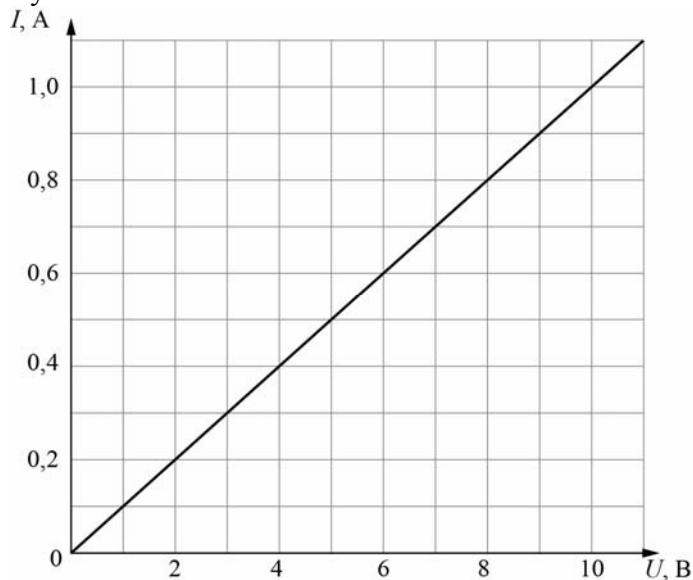
3

Сопротивление вольтметра 6000 Ом. Найдите силу тока, который течёт через вольтметр, если он показывает напряжение 120 В.

Ответ: \_\_\_\_\_ А.

4

После урока физики по теме «Законы постоянного тока» Петя решил провести дома эксперимент по измерению электрического сопротивления. Петя взял у папы тестер, батарейку и катушку с большим числом витков тонкого изолированного провода. Затем он исследовал зависимость силы тока, текущего через провод, от напряжения, приложенного между его концами. По полученному Петей графику определите сопротивление провода, намотанного на катушку.



Ответ: \_\_\_\_\_ Ом.

5

Митя подключил лампочку, рассчитанную на напряжение 9 В, к батарейке с напряжением 3 В и обнаружил, что лампочка горит довольно тускло. Митя предположил, что сопротивление лампочки является постоянным. Во сколько раз мощность, выделяющаяся в лампочке, меньше номинальной, если предположение Мити справедливо?

Ответ: в \_\_\_\_\_ раз(а).

6

Для обогрева частного дома требуется 7 электрических обогревателей мощностью 500 Вт каждый, работающих круглосуточно. Какая масса бытового газа понадобится для отопления того же дома в течение одного месяца, если перейти на газовое отопление? Удельная теплота сгорания бытового газа 32000 кДж/кг. Считайте, что в одном месяце 30 дней.

Ответ: \_\_\_\_\_ кг.

7

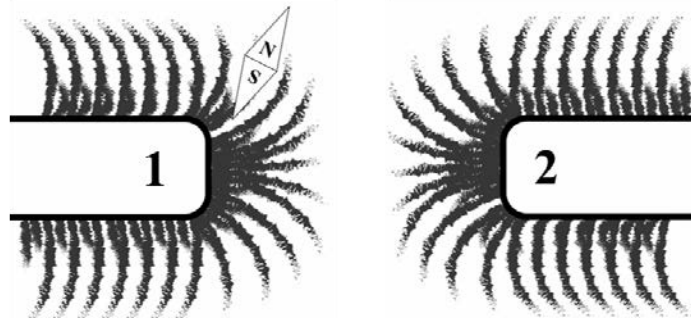
Для отопления сельского дома бабушка решила купить еловые дрова. Когда эти дрова плотно сложили в сарае, они заняли объём 5 кубометров. Пользуясь приведённой таблицей, определите, на сколько дней хватит этого запаса, если для обогрева дома в день требуется количество теплоты 125 МДж.

Материал дров	Плотность в поленнице, кг/м <sup>3</sup>	Удельная теплота сгорания, МДж/кг
ель	450	15,5
сосна	520	15,5
берёза	650	15
лиственница	590	15,5
дуб	690	15

Ответ: \_\_\_\_\_ дней.

8

На рисунке изображена картина линий магнитного поля двух постоянных магнитов, полученная с помощью железных опилок. Рядом с левым магнитом, но при этом довольно далеко от правого магнита установлена магнитная стрелка, которая находится в равновесии. Каким полюсам магнитов соответствуют области 1 и 2? Кратко объясните свой ответ.



Ответ и объяснение: \_\_\_\_\_

\_\_\_\_\_

\_\_\_\_\_

9

Фраза «Отдать швартовы!» ассоциируется с морем, кораблями и приключениями. Есть две версии происхождения слова «швартов»: голландские слова «zwaag touw» означают «тяжёлый канат», английские слова «shore» и «tow» – берег и буксир. Таким образом, швартовый канат – это приспособление для привязывания («швартования», как говорят моряки) судна к пристани или к другому кораблю во время стоянки.

Швартовый канат связали из двух разных канатов. Один, более толстый, имеет линейную плотность (т.е. массу единицы длины) 4 кг/м. Второй канат – потоньше – имеет линейную плотность 2 кг/м. Масса всего швартового каната оказалась равна 30 кг. При этом масса использованного куска тонкого каната равна трети от массы всего швартова.

- 1) Какова длина использованного куска тонкого каната?
- 2) Найдите среднюю линейную плотность всего швартового каната. Ответ округлите до десятых.

Ответ: 1) \_\_\_\_\_ м;  
2) \_\_\_\_\_ кг/м.

10

Молодая мама в период отключения горячей воды решила искупать своего малыша в тёплой воде. Для этого она взяла детскую ванночку и набрала туда холодной воды из-под крана, температура которой была равна 20 °С. Затем она развела холодную воду в ванночке горячей водой, которую получила, нагрев на электрической плите воду из-под крана до 92 °С. После этой процедуры в ванночке оказалось 32 литра тёплой воды.

1) Определите объём воды, который пришлось нагреть молодой маме, если температура воды в ванночке оказалась равной 38 °С.

2) Какое количество теплоты пришлось затратить на получение этого объёма горячей воды? Плотность воды  $\rho = 1000 \text{ кг/м}^3$ , удельная теплоёмкость воды  $c = 4200 \text{ Дж/(кг}\cdot\text{°С)}$ .

3) На какую сумму вырастет счёт за электроэнергию, если воду отключали на 10 дней, а мама купала малыша каждый день? Стоимость одного кВт·ч составляет 5 рублей.

Теплопотери можно пренебречь.

*Примечание:* киловатт-час – это работа, которую совершает или потребляет за 1 час устройство мощностью 1 кВт.

Решение:	
Ответ:	

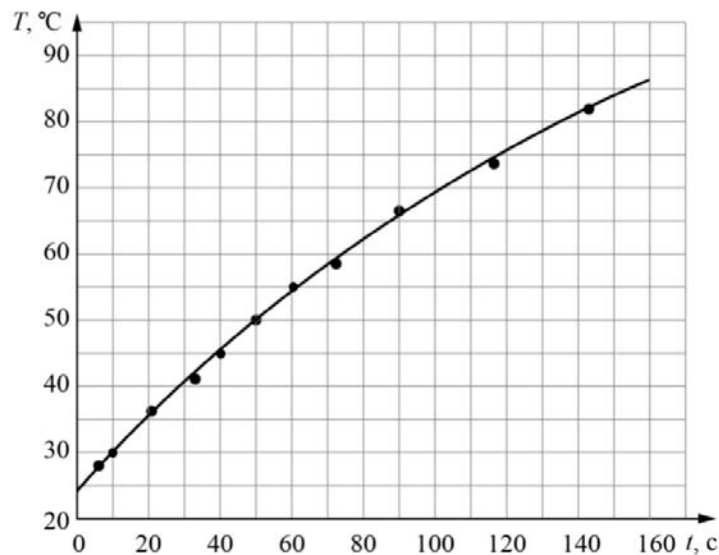


11

Витя собрался ехать в летний лагерь. С собой ему можно было брать бытовые электроприборы мощностью не более 300 Вт каждый. Вите хотелось взять с собой маленький электрочайник, и он решил измерить мощность этого прибора.

Для постановки эксперимента Витя налил в чайник 300 мл воды из графина, который уже давно стоял на кухне, включил чайник и измерил зависимость температуры нагреваемой воды от времени. Полученные результаты Витя отобразил на графике, соединив экспериментальные точки плавной линией. Витя сообразил, что линия не является прямой из-за того, что при повышении температуры воды постепенно возрастают потери теплоты в окружающую среду, и поэтому выделяемая чайником энергия целиком идёт на нагревание воды только в самом начале процесса нагревания. Удельная теплоёмкость воды равна 4200 Дж/(кг·°C).

- 1) Чему была равна температура воды в чайнике через 130 секунд после начала нагревания?
- 2) Оцените, на сколько градусов нагрелась вода через 2 секунды после включения чайника.
- 3) Оцените, чему равна мощность чайника, и определите, можно ли Вите брать его с собой в лагерь.



Решение:	
<div style="border: 1px solid black; width: 40px; height: 25px; display: inline-block; margin-bottom: 5px;"></div> Ответ:	