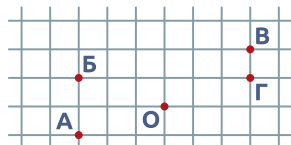


7 У какого цветочка число точек на всех красных лепестках больше, чем 5?




8 Жучок ходит по сторонам клеточек. Из точки О он прошёл 2 клетки вверх, потом 3 клетки вправо и ещё одну клетку вниз. Где он оказался?

А  Б  В  Г




9 Маша-Растеряша собиралась в школу. Она надела зелёную шапку, красное пальто и синие сапоги, а портфель забыла. Найди Машу-Растеряшу.



10 Результат верхнего примера на 5 больше результата нижнего примера. За цветочками спрятаны одинаковые числа. Что спрятано под кляксой?

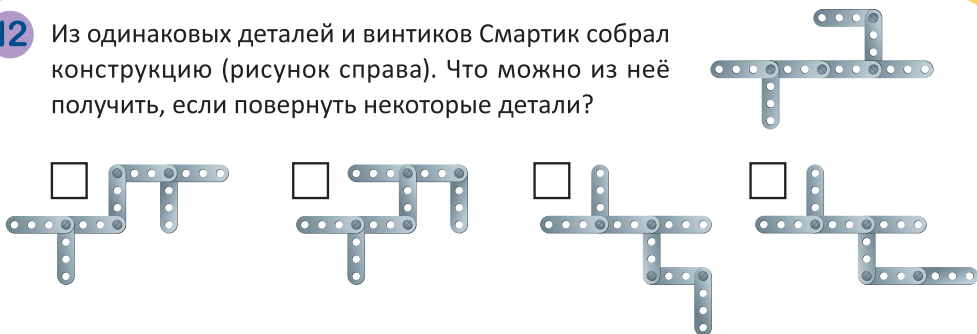
+ 3  - 3  + 5  - 5



11 Смартик убрал несколько фруктов. В каждой вазе осталось по одному фрукту, и все они разные. Что осталось в первой вазе?



12 Из одинаковых деталей и винтиков Смартик собрал конструкцию (рисунок справа). Что можно из неё получить, если повернуть некоторые детали?



# СМАРТИК

2021



логика

воображение

математика

внимание

смекалка

Математическая игра для первоклассников

[mathkang.ru](http://mathkang.ru)

# Сертификат

Настоящий сертификат подтверждает, что

участвовал(а)  
в математической игре  
для первоклассников  
СМАРТИК-2021

Количество  
решенных задач \_\_\_\_\_

Организатор игры

Центр технологии тестирования  
«Кенгуру плюс»

Научный руководитель, кандидат  
физ.-мат. наук

Д. В. Максимов



Дорогой друг!








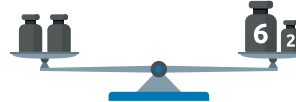
Сегодня ты познакомился с новой математической игрой для первоклассников и получил значок с портретом нашего главного героя — кенгурёнка Смартика.



Надеемся, тебе было интересно решать не совсем обычные задачки и разглядывать яркие рисунки. Если не всё сразу получилось, не надо расстраиваться: ты можешь принести этот листок домой, еще раз прочитать все задачи и обсудить свои решения со старшими. А на сайте [mathkang.ru](http://mathkang.ru) можно найти ещё много задач для любознательных ребят.

Примерно через месяц мы проверим все работы и сообщим результаты в школу.

**Дорогие родители! Сегодня ваш ребенок решал эти задачи.  
В каждой задаче надо было выбрать один ответ.**

- 1 Сколько букв в слове **СМАРТИК** левее буквы **Т**?  
 2       3       4       5
- 2 На каком рисунке нет круга?  
                
- 3 Смартик считал по порядку: 1, 2, 3, потом несколько чисел пропустил и продолжил: 7, 8, 9, 10. Сколько чисел он пропустил?  
 2       3       4       5
- 4 Сколько квадратиков надо добавить, чтобы получить из первой фигурки вторую?  
 7       8       9       12  
 → 
- 5 Какие гири стоят на левой чаше весов?  
                  

- 6 На каком рисунке кружок выше и правее звёздочки?  
 