

16. Это животное обитает только в одном месте – самом глубоком озере мира Байкале.



17. Эта страна Евразии добывает больше всего природного газа.

- (A) Иран; (Б) Россия; (В) Китай; (Г) Норвегия; (Д) Катар.

18. В качестве заменителя кофе и для создания полезного самостоятельного напитка используют корни этого растения.



19. Эту ямку вырыла ...

- (A) самка саранчи;
 (Б) личинка жука-скакуна;
 (В) самка жука-скарабея;
 (Г) самка тарантула;
 (Д) личинка муравьиного льва.

20. Во время путешествия по России туристы не могут посетить эти горы.

- (A) Уральские горы; (Б) Кавказские горы;
 (В) Алтайские горы;
 (Г) Хибины; (Д) Тянь-Шань.

Время, отведённое на выполнение заданий, – 40 минут.



Задания, оцениваемые в 3 балла

1. Какой цифрой на карте обозначена Евразия?

- (A) 1; (Б) 2; (В) 3; (Г) 4; (Д) 5.

2. Какой океан омывает Евразию с севера?

- (A) Атлантический;
 (Б) Индийский;
 (В) Северный Ледовитый;
 (Г) Тихий;
 (Д) Южный.



3. Самое крупное наземное млекопитающее Евразии.



4. У Агнии Барто есть строки:

*А когда на ветку ели
Мы получше поглядели,*

*Оказалось, что она
Не такая, как сосна.*

Найдите ветку ели.



5. На картине русских художников Ивана Ивановича Шишкина и Константина Аполлоновича Савицкого «Утро в сосновом лесу» изображены ...



6. Самуил Яковлевич Маршак так описывал исток этой реки:

*Меж болот из малого колодца
Ручеёк, не умолкая, льётся.
Неприметен чистый ручеёк,
Не широк, не звонок, не глубок?*


(A) Обь; (B) Енисей; (C) Иртыш; (Г) Волга; (D) Дунай.

7. Евразия — самый ... континент.

(A) большой; (B) сухой; (C) влажный; (Г) холодный; (D) маленький.

..... Задания, оцениваемые в 4 балла


8. В русских народных сказках часто встречается репа. Какое растение почти полностью заменило репу в нашем питании?



9. В сказке о колобке читаем: «Взяла старуха крылышко, по коробу поскребла, по сусеку помела, и набралось муки». Сусек — это ...

(A) банка для хранения муки; (B) мешок; (C) поднос;
(Г) бумажный пакет; (D) неподвижный ларь в амбаре.

10. В смешанных лесах встречается этот ядовитый гриб.




11. Весеннее сокодвижение в стволах деревьев имеет ... направление.


(A) восходящее;
(B) нисходящее;
(C) одновременно нисходящее и восходящее;
(Г) ночью нисходящее, а днём восходящее;
(D) ночью восходящее, а днём нисходящее.



12. Кто живёт в этом домике?



13. На рисунке приведена берестяная грамота — эти записи и письма, памятники письменности Древней Руси XI–XV веков, изготавливались на коре ...



(A) липы; (B) берёзы; (C) сосны;
(Г) ели; (D) дуба;

14. На фотографии — главный вход Выставки достижений народного хозяйства, которая находится в ...

(A) Санкт-Петербурге;
(B) Волгограде;
(C) Новосибирске;
(Г) Москве;
(D) Сочи.



..... Задания, оцениваемые в 5 баллов

15. Волга впадает в Каспийское море, а Обь — в ...

(A) Баренцево море; (B) Карское море; (C) море Лаптевых;
(Г) Восточно-Сибирское море; (D) море Бофорта.