

Государственная итоговая аттестация по образовательным программам основного общего образования в форме основного государственного экзамена (ОГЭ)

Демонстрационный вариант контрольных измерительных материалов для проведения в 2020 году основного государственного экзамена по ИСТОРИИ

подготовлен Федеральным государственным бюджетным научным учреждением
«ФЕДЕРАЛЬНЫЙ ИНСТИТУТ ПЕДАГОГИЧЕСКИХ ИЗМЕРЕНИЙ»

Демонстрационный вариант контрольных измерительных материалов для проведения в 2020 году основного государственного экзамена по ИСТОРИИ

Пояснения к демонстрационному варианту КИМ

При ознакомлении с демонстрационным вариантом 2020 г. следует иметь в виду, что задания, включённые в демонстрационный вариант, не отражают всех элементов содержания, которые будут проверяться с помощью вариантов КИМ в 2020 г. Полный перечень элементов содержания, которые могут контролироваться на экзамене 2020 г., приведён в кодификаторе элементов содержания и требований к уровню подготовки обучающихся для проведения основного государственного экзамена, размещённом на сайте: www.fipi.ru. В кодификаторе выделены (*) те элементы содержания, которые проверяются с привлечением знаний по всеобщей истории.

Демонстрационный вариант предназначен для того, чтобы дать возможность любому участнику экзамена и широкой общественности составить представление о структуре будущей экзаменационной работы, количестве и форме заданий, а также об их уровне сложности. Приведённые критерии оценивания выполнения заданий с развёрнутым ответом, включённые в этот вариант, позволят составить представление о требованиях к полноте и правильности записи развёрнутого ответа.

Эти сведения дают выпускникам возможность выработать стратегию подготовки к сдаче экзамена по истории.

Демонстрационный вариант 2020 года

Инструкция по выполнению работы

Экзаменационная работа состоит из двух частей, включающих в себя 21 задание. Часть 1 содержит 14 заданий с кратким ответом, часть 2 содержит 7 заданий с развёрнутым ответом.

На выполнение экзаменационной работы по истории отводится 3 часа (180 минут).

Ответы к заданиям 1–14 записываются в виде цифры, последовательности цифр или слова (словосочетания). Ответ запишите в поле ответа в тексте работы, а затем перенесите в бланк ответов № 1.

К заданиям 15–21 следует дать развёрнутый ответ. Задания 15–17 предусматривают анализ исторического источника. Задания 18–21 предусматривают разные виды работы с историческим материалом: установление причинно-следственных связей (18), анализ исторического текста, поиск и исправление в нём ошибок (19), сравнение исторических событий и явлений (20), анализ исторической ситуации, связанной с деятельностью исторической личности (21). Задания 15–21 выполняются на бланке ответов № 2.

Все бланки заполняются яркими чёрными чернилами. Допускается использование гелевой или капиллярной ручки.

При выполнении заданий можно пользоваться черновиком. **Записи в черновике, а также в тексте контрольных измерительных материалов не учитываются при оценивании работы.**

Баллы, полученные Вами за выполненные задания, суммируются. Постарайтесь выполнить как можно больше заданий и набрать наибольшее количество баллов.

После завершения работы проверьте, чтобы ответ на каждое задание в бланках ответов № 1 и № 2 был записан под правильным номером.

Желаем успеха!

Часть 1

Ответами к заданиям 1–14 являются цифра, последовательность цифр или слово (словосочетание). Укажите ответы сначала в тексте работы, а затем перенесите их в БЛАНК ОТВЕТОВ № 1 справа от номера соответствующего задания, начиная с первой клеточки, без пробелов, запятых и других дополнительных символов. Каждую цифру или букву пишите в отдельной клеточке в соответствии с приведёнными в бланке образцами. Имена российских государей следует писать только буквами (например: НиколайВторой).

- 1** Установите соответствие между событиями и годами: к каждой позиции первого столбца подберите соответствующую позицию из второго столбца.

СОБЫТИЯ	ГОДЫ
А) Ледовое побоище	1) 1242 г.
Б) отмена крепостного права в России	2) 1380 г.
В) принятие Соборного уложения царя Алексея Михайловича	3) 1649 г.
	4) 1762 г.
	5) 1861 г.

Запишите в таблицу выбранные цифры под соответствующими буквами.

Ответ:

А	Б	В

- 2** Расположите в хронологической последовательности исторические события. Запишите цифры, которыми обозначены исторические события, в правильной последовательности в таблицу.
- 1) избрание на царство Михаила Романова
 - 2) избрание на царство Бориса Годунова
 - 3) формирование Второго земского ополчения
 - 4) свержение Лжедмитрия I

Ответ:

--	--	--	--

- 3** Запишите термин, о котором идёт речь.
- Воины, набиравшиеся в регулярную российскую армию по повинности, введённой Петром I.

Ответ: _____.

4) Какие из перечисленных городов были в XIII–XIV вв. административными центрами русских земель с республиканской формой правления? Выберите два города и запишите в таблицу цифры, под которыми они указаны.

- 1) Рязань
- 2) Владимир
- 3) Новгород
- 4) Псков
- 5) Киев

Ответ:

5) Ниже приведён перечень терминов. Все они, за исключением одного, относятся к периоду 1894–1914 гг.

- 1) *октябристы*; 2) *кадеты*; 3) *стачка*; 4) *петрашевцы*; 5) *петиция*.

Найдите и запишите порядковый номер термина, «выпадающего» из данного ряда.

Ответ:

6) Прочитайте четыре предложения. Два из них являются тезисами (положениями, которые требуется аргументировать). Другие два содержат факты, которые могут послужить для аргументации этих тезисов. Подберите для каждого из тезисов соответствующий ему факт. Номера соответствующих предложений запишите в таблицу.

- 1) При Иване IV Россия вела активную внешнюю политику в восточном направлении.
- 2) Политика опричнины, проводимая Иваном IV, была губительна для страны.
- 3) Многие центральные уезды России были разорены.
- 4) Русские войска взяли Казань.

Номер предложения, содержащего							
тезис 1		факт 1		тезис 2		факт 2	
Ответ:	<input type="text"/>	<input type="text"/>	<input type="text"/>	<input type="text"/>	<input type="text"/>	<input type="text"/>	<input type="text"/>

7) Используя данные статистической таблицы, завершите представленные ниже суждения, соотнесите их начала и варианты завершения.

Инвестиции различных стран в экономику России

Год	Франция	Англия	Германия
1880	31,4 млн руб.	30,1 млн руб.	29,8 млн руб.
1890	66,6 млн руб.	35,3 млн руб.	79,0 млн руб.

НАЧАЛА СУЖДЕНИЙ

ВАРИАНТЫ ЗАВЕРШЕНИЯ
СУЖДЕНИЙ

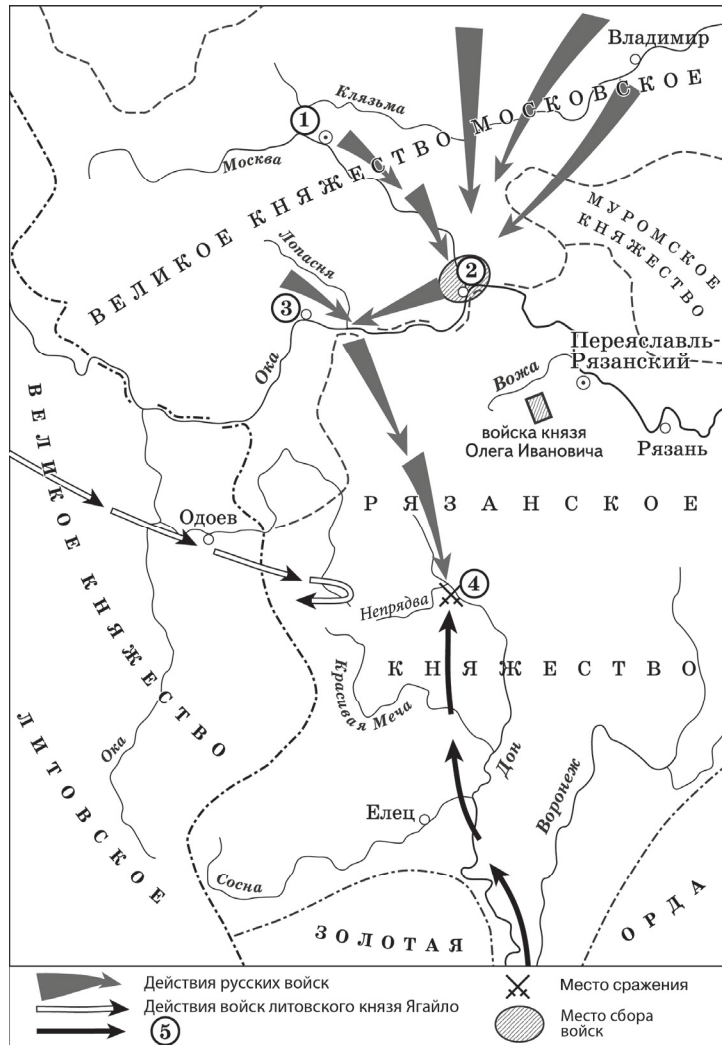
- А) Согласно данной таблице к 1890 г. 1) увеличились преобладающими в экономике России 2) германские инвестиции стали 3) английские инвестиции
- Б) Согласно данной таблице к концу XIX в. 4) французские инвестиции иностранные инвестиции в российскую 5) сократились экономику
- В) Согласно данной таблице наиболее слабой динамикой в конце XIX в. характеризовались

Запишите в таблицу выбранные цифры под соответствующими буквами.

Ответ:

А	Б	В
<input type="text"/>	<input type="text"/>	<input type="text"/>

Рассмотрите схему и выполните задания 8–10.



8 Укажите век, когда произошли события, обозначенные на схеме. Ответ запишите словом.

Ответ: _____.

9 Назовите военачальника, командующего войском, поход которого обозначен в легенде схемы цифрой «5».

Ответ: _____.

10 Прочитайте отрывок из сочинения историка и укажите цифру, обозначающую на схеме город, название которого пропущено в данном отрывке.

«Московский князь призвал всех головы свои положить за землю русскую. Местом сбора русских войск был назначен город _____. 25 августа великий князь московский прибыл в этот город. Его встретили на берегу реки Северки, притоке Москвы-реки. На утро следующего дня было приказано всем воеводам с войсками выехать за город на Девичье поле. Здесь состоялся смотр русских войск перед походом. После совета воевод русские полки 26 августа оставили город и пошли к верховьям Дона».

Ответ:

11 Рассмотрите изображение и выполните задание.

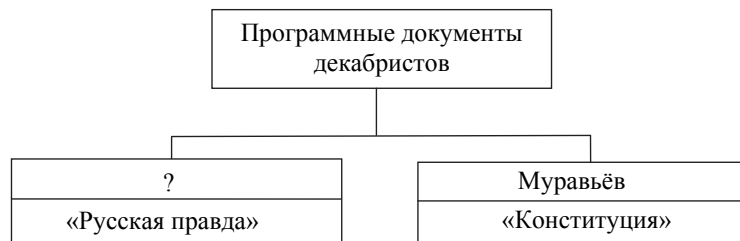


Что из перечисленного относится к тому же десятилетию, когда была выпущена данная монета?

- 1) вступление России в Семилетнюю войну
- 2) деятельность Верховного тайного совета
- 3) издание жалованной грамоты дворянству
- 4) третий раздел Речи Посполитой

Ответ:



12 Заполните пропуск в схеме.



Ответ: _____.

Ознакомьтесь с перечнем и изображениями памятников культуры и выполните задания 13 и 14.

- 1) «Хождение за три моря»;
- 2) «История о великом князе Московском»;
- 3) «Слово о законе и благодати»
- 4)
- 5)



13 Какие из приведённых памятников культуры были созданы в XVI в.? Выберите два памятника культуры и запишите в таблицу цифры, под которыми они указаны.

Ответ:

14 Создателем какого из приведённых памятников культуры является митрополит Иларион? Укажите порядковый номер этого памятника культуры.

Ответ:



Не забудьте перенести все ответы в бланк ответов № 1 в соответствии с инструкцией по выполнению работы. Проверьте, чтобы каждый ответ был записан в строке с номером соответствующего задания.

Часть 2

Для записи ответов на задания этой части (15–21) используйте БЛАНК ОТВЕТОВ № 2. Запишите сначала номер задания (15, 16 и т. д.), а затем развернутый ответ на него. Ответы записывайте чётко и разборчиво.

Прочитайте фрагмент исторического источника и выполните задания 15–17. Используйте в ответах информацию текста, а также знания из курса истории.

Прочитайте отрывок из летописи.

«В тот год сказала дружина Игорю: "Отроки Свенельда изоделись оружием и одеждой, а мы наги. Пойдём, князь, с нами за данью, и себе добудешь, и нам". И послушал их Игорь – пошёл к древлянам за данью и прибавил к прежней дани новую, и творили насилие над ними мужи его. Взяв дань, пошёл он в свой город. Когда же шёл он назад, поразмыслив, сказал своей дружине: "Идите с данью домой, а я возвращусь и похожу ещё". И отпустил дружину свою домой, а сам с малой частью дружины вернулся, желая большего богатства. Древляне же, услышав, что идёт снова, держали совет с князем своим Малом: "Если повадится волк к овцам, то вынесет всё стадо, пока не убьют его; так и этот: если не убьём его, то всех нас погубит". И послали к нему, говоря: "Зачем идёшь опять? Забрал уже всю дань". И не послушал их Игорь; и древляне, выйдя из города Искоростеня, убили Игоря и дружинников его, так как было их мало...

Ольга же была в Киеве с сыном своим, ребёнком _____. Сказали же древляне: "Вот убили мы князя русского, возьмём жену его Ольгу за князя нашего Мала и сына её возьмём, и сделаем ему, что захотим"...

15 Укажите век, когда произошли описываемые события. Укажите имя, пропущенное в отрывке.

16 Почему согласно летописи древляне решили убить князя Игоря? Почему согласно летописи древлянам удалось победить дружину князя Игоря?

17 Укажите одно любое последствие описываемых событий. Какой поступок, повлиявший на выбор веры киевским князем Владимиром, совершила упоминаемая в тексте Ольга?

Задания 18–21 предусматривают разные виды работы с историческим материалом: установление причинно-следственных связей (18), анализ исторического текста, поиск и исправление в нём ошибок (19), сравнение исторических событий и явлений (20), анализ исторической ситуации, связанной с деятельностью исторической личности (21). Выполняя эти задания, обращайте внимание на формулировку каждого вопроса.

18 Что из перечисленного стало одной из причин (предпосылок) начала проведения в России Великих реформ 1860–1870-х гг.?
 – неудачное завершение русско-японской войны
 – покушение Д.В. Каракозова на императора Александра II
 – неудачи России в Крымской войне
 – создание организации «Народная воля»

Объясните, как выбранное Вами положение связано с началом проведения в России Великих реформ 1860–1870-х гг.

19 Прочитайте текст, который содержит две фактические ошибки. В период правления Николая I большое внимание уделялось вопросам идеологии. Министр народного просвещения граф С.С. Уваров выработал формулу «православие, демократия, народность», которая должна была определять основное направление официальной политики. Общественная жизнь страны в это время характеризовалась наличием различных кружков, где главную роль играли так называемые декабристы и славянофилы, спорившие о судьбе России и её исторических перспективах.

Найдите фактические ошибки и исправьте их. Ответ оформите следующим образом (обязательно заполните обе колонки таблицы).

Положение текста, в котором допущена ошибка	Исправленное положение текста
1)	
2)	

20 Существует точка зрения, что, несмотря на наличие общих черт, народные восстания под предводительством С.Т. Разина и под предводительством Е.И. Пугачёва имели различия. Приведите не менее двух фактов, подтверждающих эти различия.

21 Будущий известный писатель, гимназист из Одессы, был отчислен из пятого класса гимназии после издания документа, вошедшего в историю как циркуляр «о кухаркиных детях». Причиной стало, как он писал в автобиографической повести, его «низкое происхождение».

1. Назовите императора, в период правления которого был издан упомянутый циркуляр.
2. Укажите название политики, проводившейся в период правления этого императора, нацеленной на пересмотр преобразований, проведённых его отцом.
3. Почему, по мнению правительства, дети «низкого происхождения» не должны были получать гимназическое образование?



Проверьте, чтобы каждый ответ был записан рядом с правильным номером задания.

Система оценивания экзаменационной работы по истории

Часть 1

Полный правильный ответ на каждое из заданий 2, 3, 5, 6, 8–12, 14 оценивается 1 баллом; неполный, неверный ответ или его отсутствие – 0 баллов.

Полный правильный ответ на каждое из заданий 1, 4, 7, 13 оценивается 2 баллами; если допущена одна ошибка, – 1 баллом; если допущено две ошибки или ответ отсутствует, – 0 баллов.

Номер задания	Правильный ответ
1	153
2	2431
3	рекруты
4	34
5	4
6	1423
7	213
8	четырнадцатый
9	Мамай
10	2
11	1
12	Пестель
13	25
14	3

Часть 2**Критерии оценивания заданий с развёрнутым ответом**

Задания части 2 оцениваются в зависимости от полноты и правильности ответа. За ответы на задания 15–18 и 20 ставится от 0 до 2 баллов. За выполнение заданий 19 и 21 может быть выставлено от 0 до 3 баллов.

Прочитайте отрывок из летописи.

«В тот год сказала дружина Игорю: "Отроки Свенельда изоделись оружием и одеждой, а мы наги. Пойдём, князь, с нами за данью, и себе добудешь, и нам". И послушал их Игорь – пошёл к древлянам за данью и прибавил к прежней дани новую, и творили насилие над ними мужи его. Взяв дань, пошёл он в свой город. Когда же шёл он назад, поразмыслив, сказал своей дружине: "Идите с данью домой, а я возвращусь и похожу ещё". И отпустил дружину свою домой, а сам с малой частью дружины вернулся, желая большего богатства. Древляне же, услышав, что идёт снова, держали совет с князем своим Малом: "Если повадится волк к овцам, то вынесет всё стадо, пока не убьют его; так и этот: если не убьём его, то всех нас погубит". И послали к нему, говоря: "Зачем идёшь опять? Забрал уже всю дань". И не послушал их Игорь; и древляне, выйдя из города Искоростеня, убили Игоря и дружинников его, так как было их мало...»

Ольга же была в Киеве с сыном своим, ребёнком _____. Сказали же древляне: "Вот убили мы князя русского, возьмём жену его Ольгу за князя нашего Мала и сына её возьмём, и сделаем ему, что захотим"...»

- 15** Укажите век, когда произошли описываемые события. Укажите имя, пропущенное в отрывке.

Содержание верного ответа и указания по оцениванию (допускаются иные формулировки ответа, не искажающие его смысла)	Баллы
Правильный ответ должен содержать следующие <u>элементы</u> : 1) <u>век</u> – X в.; 2) <u>имя</u> – Святослав	
Правильно указаны век и имя	2
Правильно указан только век. ИЛИ Правильно указано только имя	1
Ответ неправильный	0
<i>Максимальный балл</i>	2

- 16** Почему согласно летописи древляне решили убить князя Игоря? Почему согласно летописи древлянам удалось победить дружину князя Игоря?

Содержание верного ответа и указания по оцениванию (допускаются иные формулировки ответа, не искажающие его смысла)	Баллы
Правильный ответ должен содержать следующие <u>элементы</u> : 1) <u>ответ на первый вопрос</u> : князь Игорь решил повторно собрать дань с древлян ("Если повадится волк к овцам, то вынесет всё стадо, пока не убьют его; так и этот: если не убьём его, то всех нас погубит"); 2) <u>ответ на второй вопрос</u> : у князя Игоря было мало воинов (дружинников)	
Правильно даны ответы на два вопроса	2
Правильно дан ответ на один вопрос	1
Ответ неправильный	0
<i>Максимальный балл</i>	2

- 17** Укажите одно любое последствие описываемых событий. Какой поступок, повлиявший на выбор веры киевским князем Владимиром, совершила упоминаемая в тексте Ольга?

Содержание верного ответа и указания по оцениванию (допускаются иные формулировки ответа, не искажающие его смысла)	Баллы
Правильный ответ должен содержать следующие <u>элементы</u> : 1) <u>последствие</u> , например: – месть княгини Ольги древлянам; – установление уроков и погостов; (Может быть указано другое последствие.) 2) <u>поступок</u> – принятие христианства княгиней Ольгой	
Правильно указаны последствие и поступок	2
Правильно указан один любой элемент	1
Ответ неправильный	0
<i>Максимальный балл</i>	2

18 Что из перечисленного стало одной из причин (предпосылок) начала проведения в России Великих реформ 1860–1870-х гг.?

- неудачное завершение русско-японской войны
- покушение Д.В. Каракозова на императора Александра II
- неудачи России в Крымской войне
- создание организации «Народная воля»

Объясните, как выбранное Вами положение связано с началом проведения в России Великих реформ 1860–1870-х гг.

Содержание верного ответа и указания по оцениванию (допускаются иные формулировки ответа, не искажающие его смысла)	Баллы
Правильный ответ должен содержать следующие <u>элементы</u> : 1) <u>правильный ответ</u> – неудачи России в Крымской войне; 2) <u>объяснение</u> , например: поражение в Крымской войне продемонстрировало экономическое отставание России от сильнейших европейских держав. Причиной этого отставания было существование крепостного права, которое создавало нехватку рабочей силы, препятствовало повышению эффективности труда и тем самым сдерживало развитие промышленности. В результате поражения правящая верхушка осознала необходимость отмены крепостного права, что, в свою очередь, привело к необходимости проведения других реформ. (Может быть приведено другое, близкое по смыслу объяснение.)	
Даны правильный ответ и верное объяснение	2
Дан правильный ответ, объяснение не дано. ИЛИ Дан правильный ответ, объяснение неверно	1
Ответ неправильный	0
<i>Максимальный балл</i>	2

19 Прочитайте текст, который содержит две фактические ошибки.

В период правления Николая I большое внимание уделялось вопросам идеологии. Министр народного просвещения граф С.С. Уваров выработал формулу «православие, демократия, народность», которая должна была определять основное направление официальной политики. Общественная жизнь страны в это время характеризовалась наличием различных кружков, где главную роль играли так называемые декабристы и славянофилы, спорившие о судьбе России и её исторических перспективах.

Найдите фактические ошибки и исправьте их. Ответ оформите следующим образом (обязательно заполните обе колонки таблицы).

Положение текста, в котором допущена ошибка	Исправленное положение текста
1)	
2)	

Содержание верного ответа и указания по оцениванию (допускаются иные формулировки ответа, не искажающие его смысла)		Баллы
В правильном ответе должно быть указано следующее.		
Положение текста, в котором допущена ошибка	Исправленное положение текста	
1) С.С. Уваров выработал формулу «православие, <u>демократия</u> , народность»	С.С. Уваров выработал формулу «православие, <u>самодержавие</u> , народность»	
2) Общественная жизнь страны в это время характеризовалась наличием различных кружков, где главную роль играли так называемые <u>декабристы</u> и славянофилы	Общественная жизнь страны в это время характеризовалась наличием различных кружков, где главную роль играли так называемые <u>западники</u> и славянофилы	

Правильно указаны два ошибочных положения, правильно сделаны два исправления	3
Правильно указаны одно-два ошибочных положения, правильно сделано одно исправление	2
Правильно указаны только два ошибочных положения, исправления сделаны неправильно. ИЛИ Правильно указаны только два ошибочных положения, исправления не сделаны	1
Правильно указано только одно ошибочное положение, исправление сделано неправильно. ИЛИ Правильно указано только одно ошибочное положение, исправление не сделано. ИЛИ Ошибочные положения не указаны, но приведены исправления (любое количество). ИЛИ Ответ неправильный	0
<i>Максимальный балл</i>	3

- 20** Существует точка зрения, что, несмотря на наличие общих черт, народные восстания под предводительством С.Т. Разина и под предводительством Е.И. Пугачёва имели различия. Приведите не менее двух различий.

Содержание верного ответа и указания по оцениванию (допускаются иные формулировки ответа, не искажающие его смысла)	Баллы
Могут быть приведены различия: 1) Е.И. Пугачёв, в отличие от С.Т. Разина, выдавал себя за царя (императора Петра III); 2) Е.И. Пугачёв, в отличие от С.Т. Разина, заимствовал государственные атрибуты, существовавшие в Российской империи (Военная коллегия, графские титулы для приближённых и т.д.); 3) в восстании под предводительством Е.И. Пугачёва приняли участие горнозаводские рабочие, а в восстании под предводительством С.Т. Разина нет; 4) восстание под предводительством Е.И. Пугачёва было более масштабным по численности участников и охвату территории. Могут быть приведены другие различия	
Правильно приведены два различия	2
Правильно приведено только одно различие	1
Приведены рассуждения общего характера, не соответствующие требованию задания. ИЛИ Ответ неправильный	0
<i>Максимальный балл</i>	2

- 21** Будущий известный писатель, гимназист из Одессы, был отчислен из пятого класса гимназии после издания документа, вошедшего в историю как циркуляр «о кухаркиных детях». Причиной стало, как он писал в автобиографической повести, его «низкое происхождение».

1. Назовите императора, в период правления которого был издан упомянутый циркуляр.
2. Укажите название политики, проводившейся в период правления этого императора, нацеленной на пересмотр преобразований, проведённых его отцом.
3. Почему, по мнению правительства, дети «низкого происхождения» не должны были получать гимназическое образование?

Содержание верного ответа и указания по оцениванию (допускаются иные формулировки ответа, не искажающие его смысла)	Баллы
Правильный ответ должен содержать следующие <u>элементы</u> : 1) <u>император</u> – Александр III; 2) <u>название политики</u> – контрреформы (консервативный курс); 3) <u>причина</u> : правительство считало, что основной движущей силой революционного движения являются студенты и образованные люди из «неблагородных слоёв», и с помощью циркуляра «о кухаркиных детях» стремилось препятствовать возможности представителям «низших сословий» стать студентами	
Правильно указаны император, название политики и причина	3
Правильно указаны любые два элемента ответа	2
Правильно указан любой один элемент ответа	1
Ответ неправильный	0
<i>Максимальный балл</i>	3

В соответствии с Порядком проведения государственной итоговой аттестации по образовательным программам основного общего образования (приказ Минпросвещения России и Рособрнадзора от 07.11.2018 № 189/1513, зарегистрирован Минюстом России 10.12.2018 № 52953)

«64. Экзаменационные работы проверяются двумя экспертами. По результатам проверки эксперты независимо друг от друга выставляют баллы за каждый ответ на задания экзаменационной работы... В случае существенного расхождения в баллах, выставленных двумя экспертами, назначается третья проверка. Существенное расхождение в баллах определено в критериях оценивания по соответствующему учебному предмету.

Третий эксперт назначается председателем предметной комиссии из числа экспертов, ранее не проверявших экзаменационную работу.

Третьему эксперту предоставляется информация о баллах, выставленных экспертами, ранее проверявшими экзаменационную работу обучающегося. Баллы, выставленные третьим экспертом, являются окончательными».

Существенным считается расхождение в 2 или более балла за выполнение любого из заданий 15–21. В этом случае третий эксперт проверяет только те ответы на задания, которые вызвали столь существенное расхождение.