


Тренировочный вариант №1 ВПР 2019 по истории 7 класс

Валиева А.М.

1. На карте мира, приведённой на странице 4, изображён маршрут экспедиции одного из путешественников, портреты которых представлены ниже. Рассмотрите карту и портреты путешественников и выполните задания.


1.1. Маршрут экспедиции кого из путешественников изображён на карте?



1) Афанасий Никитин



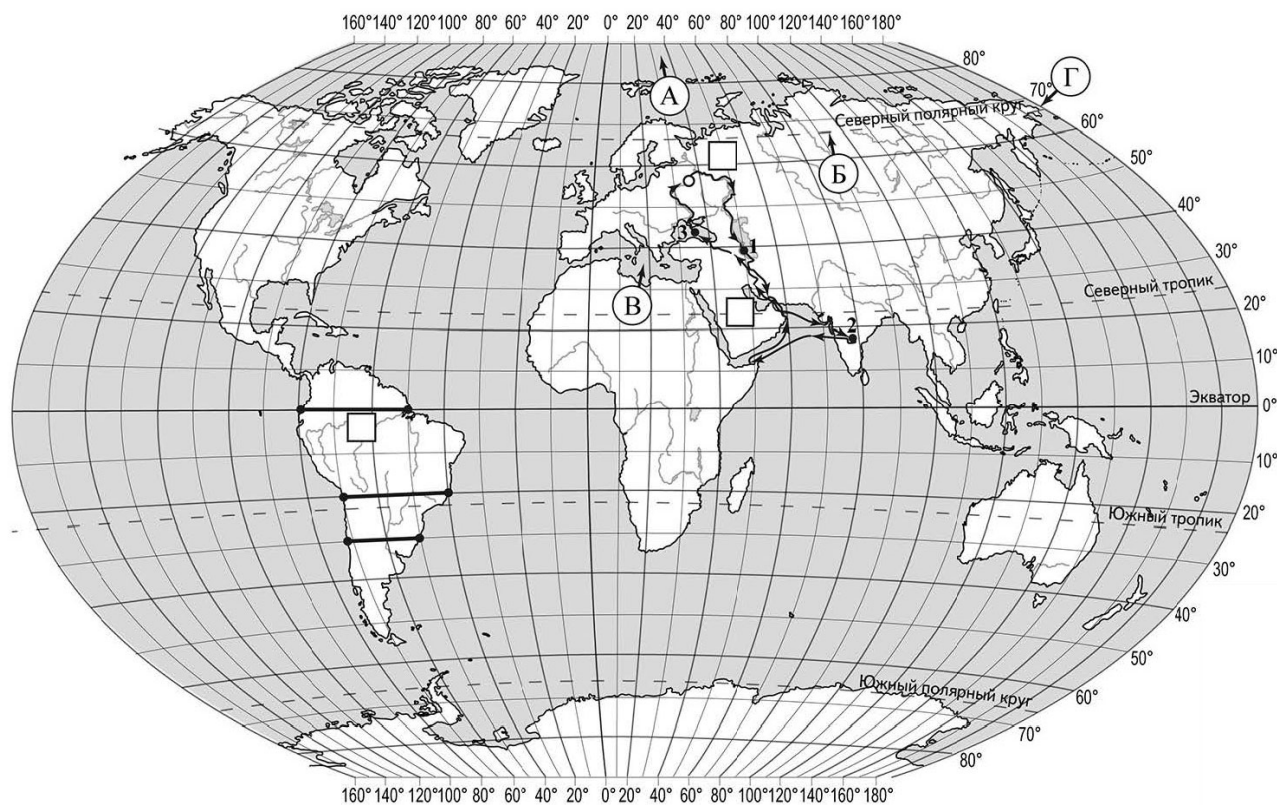
2) Васко Да Гама



3) Христофор Колумб

Ответ: _____

1.2. По линии маршрута экспедиции отмечены точки, расположенные на территории крупных географических объектов. Определите и запишите в ответе географические координаты точки 2.



2. Рассмотрите рисунки с изображением климатограмм, построенных по данным метеонаблюдений в разных частях Земли, и выполните задания.

2.1. Определите, какому климатическому поясу соответствует каждая климатограмма. Подпишите название климатического пояса под соответствующей климатограммой.

1

2

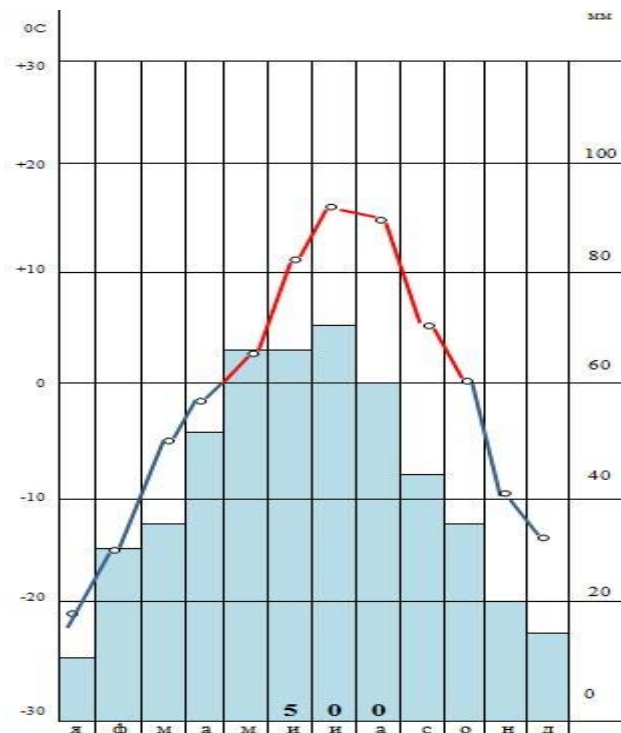
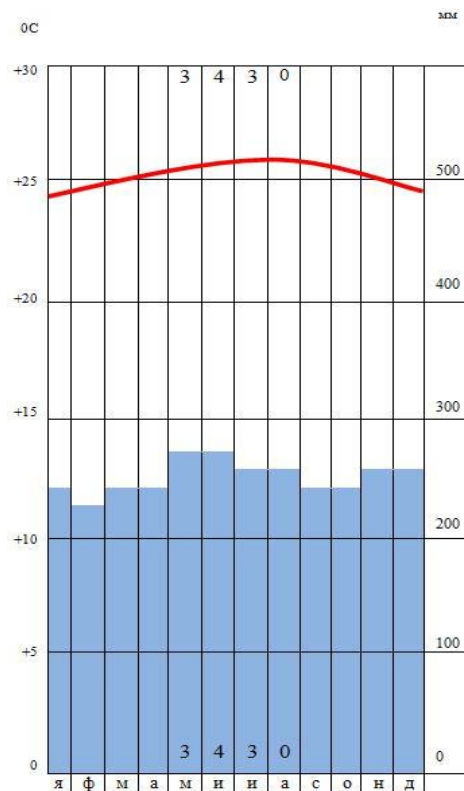
1) годовое количество осадков
более 2000 мм

1) осадков больше – до 1000 мм

2) $t +24$ - $+26$ в течении всего года

2) летние температуры $+16$.

зимой морозно -22 .



3.2. Какой природной зоне мира соответствуют приведённые ниже характеристики? Укажите в ответе название этой природной зоны.

3.3

- 1) Температура января (по Цельсию) +15
- 2) Температура июля (по Цельсию) +24
- 3) Осадки 2000
- 4) Растительность – пальмы, фикусы, лианы
- 5) Почва-красно-желтая
- 6) Животные-Обезьяны, ленивцы, павлины, крокодилы

Ответ: _____

4.1. Установите соответствие между географическими особенностями и материками, для которых они характерны: для этого к каждой позиции первого столбца подберите соответствующую позицию из второго столбца.

ГЕОГРАФИЧЕСКИЕ ОСОБЕННОСТИ

- А) крупнейший материк на нашей планете (54,6 млн кв. км)
- Б) Это единственный материк, который омывается всеми океанами
- В) Коренное население — индейцы

Г) Здесь находятся самые обширные равнины, самые высокие горы самое глубокое озеро .
 Д) омывается Тихим и Атлантическим океанами.

МАТЕРИКИ

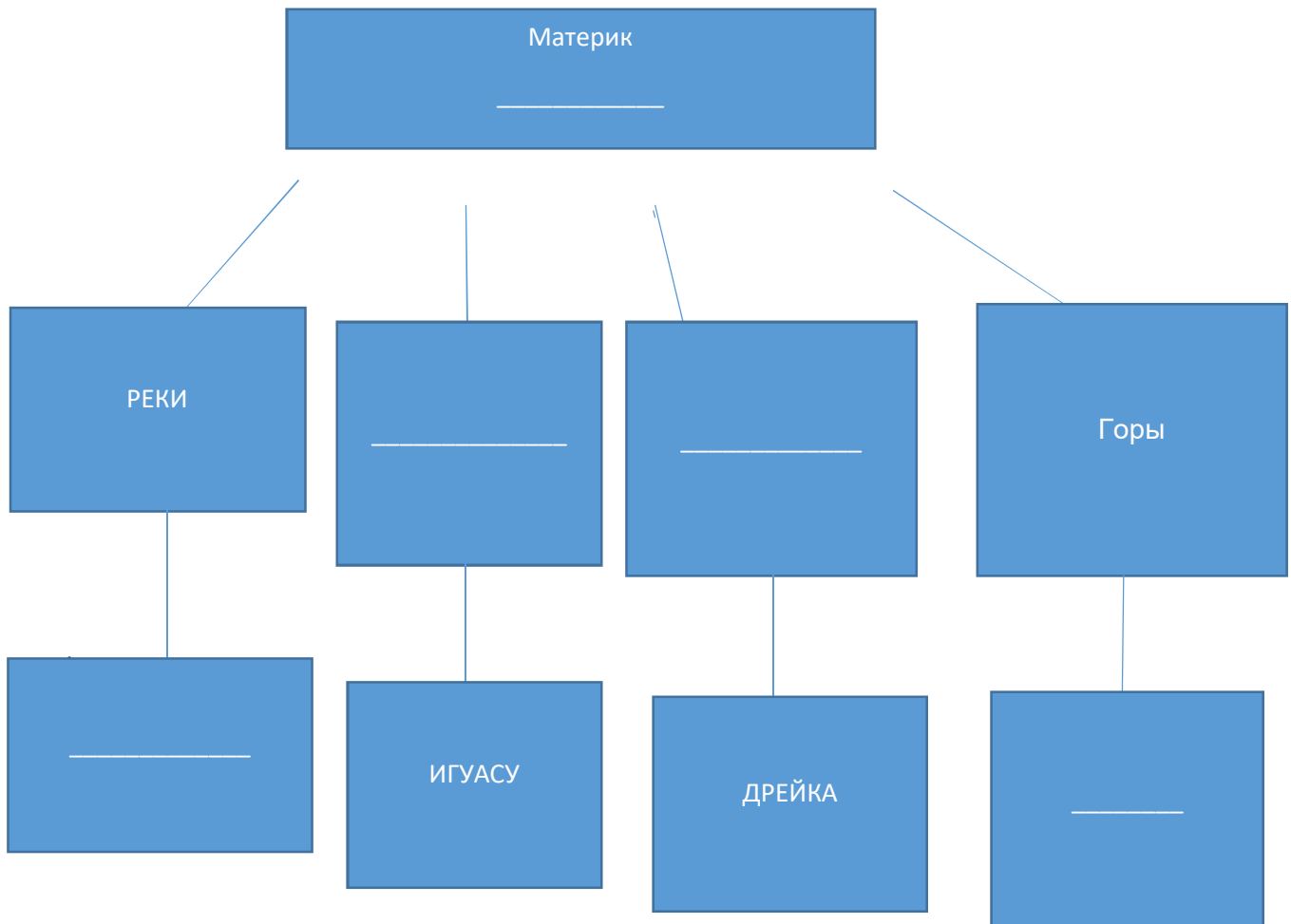
- 1) Евразия
- 2) Южная Америка

Ответ:

А	Б	В	Г	Д

4.2. В приведённом ниже списке перечислены крупные географические объекты. Выберите из представленного ниже списка названия географических объектов, расположенных на территории одного из этих материков, и заполните схему. Впишите в схему название материка, типы и названия выбранных Вами географических объектов.

Магелланов, Мысы, Анхель, Амазонка, Парагвай, Северные Анды, Котопахи, Титикака



5.1 Джастин и Томас познакомились на универсиаде. Джастин живёт в столице России, а Томас – в столице Южной Кореи. Подростки общаются через Интернет, и при общении им приходится учитывать разницу во времени между их городами.

Джастин отправил электронное письмо Томасу в 12:00 по местному времени.

Какое время будет отображаться в соответствующем окне на экране смартфона Томаса, когда он получит сообщение от Джастина?

Ответ: _____

5.2

№ п/п	Страна	Численность населения, млн. человек	Состав населения, %	
			городское	Сельское
1	Таиланд	65	34	66
2	Саудовская Аравия	27	82	18
3	Египет	79	43	57
4	Турция	70	72	28


Определите по таблице страну с большей численностью населения.

Ответ: _____

6. Представьте, что Вам было поручено взять интервью у зарубежного сверстника, чтобы он познакомил Вас со своей страной. Для иллюстрации этого интервью Вы попросили его прислать несколько фотографий, сделанных в стране, в которой он живёт.

6.1. Рассмотрите фотографии и ответьте на вопросы.





6.2. В какой стране живёт Ваш сверстник?

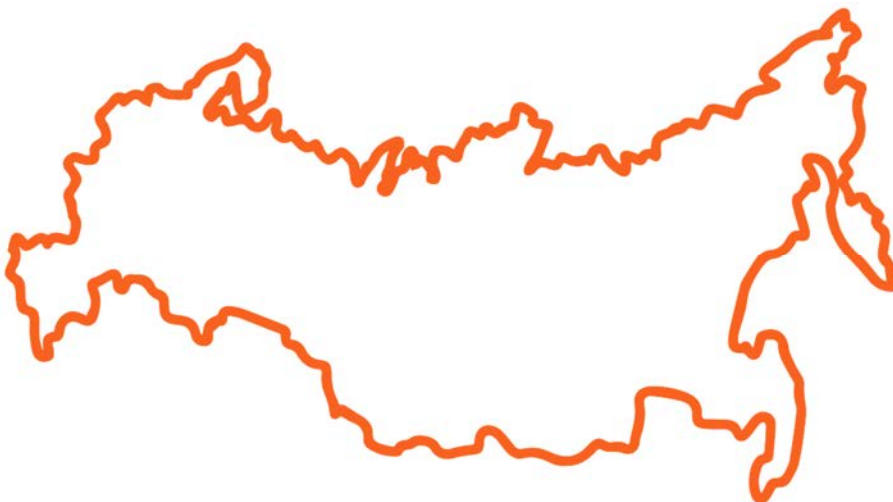
Ответ. _____

6.3. Как называется столица этой страны?

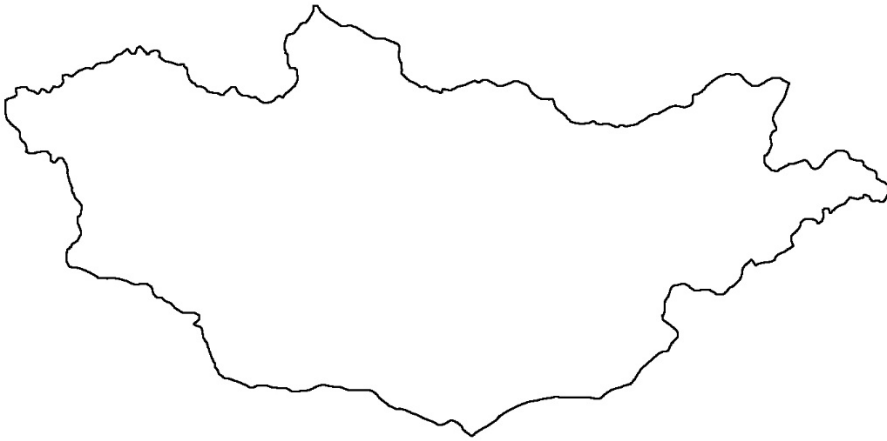
Ответ. _____

7. Рассмотрите представленные ниже рисунки. Выберите рисунок с контуром страны, в которой живёт Ваш сверстник. Запишите в ответе букву, которой обозначен этот рисунок.

А)



Б)



В)



Ответ : _____

7.2.. Предположите, какие ответы на вопросы о своей стране даст Ваш сверстник в ходе интервью. Запишите их в таблицу.

Вопрос	Ответ
1. В какой части света находится твоя страна?	
2. Какое(-ие) море(-я) омывает(-ют) берега твоей страны?	
3. Какие горы есть в твоей стране?	
4. Какие крупные города, кроме столицы, есть в твоей стране?	
5. В какой сфере хозяйства занято большинство жителей страны?	
6. Какие сельскохозяйственные культуры выращивают в твоей стране?	
7. Какие достопримечательности можно посмотреть в твоей стране?	

Ответы

1.1 1

2.1 1) экваториальный

2) умеренный

3.3 экваториальные и тропические леса

4.1 1) АБГ

2) ВГ

4.2 Южная Америка

5.1 18:00

5.2 Египет

6.2 Россия

6.3 Москва

7.1 А

7.2 Развернутый ответ