

Единый государственный экзамен  
по МАТЕМАТИКЕ

Базовый уровень

Инструкция по выполнению работы

Экзаменационная работа включает в себя 20 заданий.

На выполнение работы отводится 3 часа (180 минут).

Ответы к заданиям записываются по приведённым ниже образцам в виде числа или последовательности цифр. Сначала запишите ответы к заданиям в поле ответа в тексте работы, а затем перенесите их в бланк ответов № 1 справа от номера соответствующего задания.

КИМ

Ответ: -0,8

0	1	2	3	4	5	6	7	8	9
0	1	2	3	4	5	6	7	8	9

 Бланк

Если ответом является последовательность цифр, как в приведённом ниже примере, то запишите эту последовательность в бланк ответов № 1 без пробелов, запятых и других дополнительных символов.

КИМ

Ответ: 

А	Б	В	Г
4	3	1	2

0	1	2	3	4	5	6	7	8	9
9	4	3	1	2					

 Бланк

Все бланки ЕГЭ заполняются яркими чёрными чернилами. Допускается использование гелевой или капиллярной ручки.

При выполнении заданий можно пользоваться черновиком. **Записи в черновике, а также в тексте контрольных измерительных материалов не учитываются при оценивании работы.**

Баллы, полученные Вами за выполненные задания, суммируются. Постарайтесь выполнить как можно больше заданий и набрать наибольшее количество баллов.

После завершения работы проверьте, что ответ на каждое задание в бланках ответов №1 и №2 записан под правильным номером.

*Желаем успеха!*

Справочные материалы

Алгебра

Таблица квадратов целых чисел от 0 до 99

Десятки	Единицы									
	0	1	2	3	4	5	6	7	8	9
0	0	1	4	9	16	25	36	49	64	81
1	100	121	144	169	196	225	256	289	324	361
2	400	441	484	529	576	625	676	729	784	841
3	900	961	1024	1089	1156	1225	1296	1369	1444	1521
4	1600	1681	1764	1849	1936	2025	2116	2209	2304	2401
5	2500	2601	2704	2809	2916	3025	3136	3249	3364	3481
6	3600	3721	3844	3969	4096	4225	4356	4489	4624	4761
7	4900	5041	5184	5329	5476	5625	5776	5929	6084	6241
8	6400	6561	6724	6889	7056	7225	7396	7569	7744	7921
9	8100	8281	8464	8649	8836	9025	9216	9409	9604	9801

Свойства арифметического квадратного корня

$$\sqrt{ab} = \sqrt{a} \cdot \sqrt{b} \text{ при } a \geq 0, b \geq 0 \quad \sqrt{\frac{a}{b}} = \frac{\sqrt{a}}{\sqrt{b}} \text{ при } a \geq 0, b > 0$$

Корни квадратного уравнения  $ax^2 + bx + c = 0, a \neq 0$

$$x_1 = \frac{-b - \sqrt{b^2 - 4ac}}{2a}, \quad x_2 = \frac{-b + \sqrt{b^2 - 4ac}}{2a} \text{ при } b^2 - 4ac > 0$$

$$x = -\frac{b}{2a} \text{ при } b^2 - 4ac = 0$$

Формулы сокращенного умножения

$$(a+b)^2 = a^2 + 2ab + b^2$$

$$(a-b)^2 = a^2 - 2ab + b^2$$

$$a^2 - b^2 = (a+b)(a-b)$$



**Степень и логарифм**

Свойства степени при  $a > 0, b > 0$

$$a^{-n} = \frac{1}{a^n}$$

$$a^n \cdot a^m = a^{n+m}$$

$$\frac{a^n}{a^m} = a^{n-m}$$

$$(a^n)^m = a^{nm}$$

$$(ab)^n = a^n \cdot b^n$$

$$\left(\frac{a}{b}\right)^n = \frac{a^n}{b^n}$$

Свойства логарифма при  $a > 0, a \neq 1, b > 0, x > 0, y > 0$

$$a^{\log_a b} = b$$

$$\log_a a = 1$$

$$\log_a 1 = 0$$

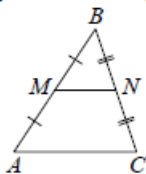
$$\log_a(xy) = \log_a x + \log_a y$$

$$\log_a\left(\frac{x}{y}\right) = \log_a x - \log_a y$$

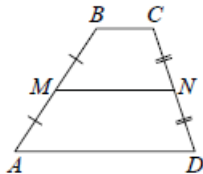
$$\log_a b^k = k \log_a b$$

**Геометрия**

Средняя линия треугольника и трапеции

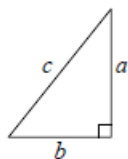


$MN$  — ср. лин.  
 $MN \parallel AC$   
 $MN = \frac{AC}{2}$



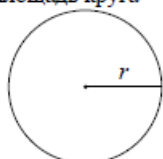
$BC \parallel AD$   
 $MN$  — ср. лин.  
 $MN \parallel AD$   
 $MN = \frac{BC + AD}{2}$

Теорема Пифагора



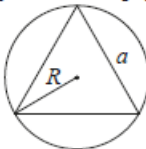
$$a^2 + b^2 = c^2$$

Длина окружности  
Площадь круга



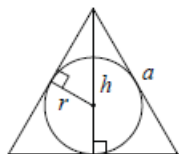
$C = 2\pi r$   
 $S = \pi r^2$

Правильный треугольник



$$R = \frac{a\sqrt{3}}{3}$$

$$S = \frac{a^2\sqrt{3}}{4}$$

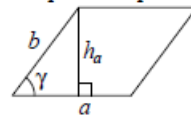


$$r = \frac{a\sqrt{3}}{6}$$

$$h = \frac{a\sqrt{3}}{2}$$

**Площади фигур**

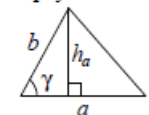
Параллелограмм



$$S = ah_a$$

$$S = ab \sin \gamma$$

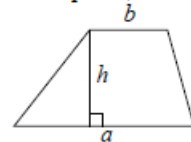
Треугольник



$$S = \frac{1}{2} ah_a$$

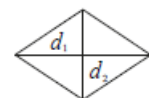
$$S = \frac{1}{2} ab \sin \gamma$$

Трапеция



$$S = \frac{a+b}{2} \cdot h$$

Ромб

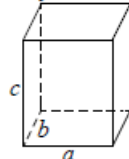


$d_1, d_2$  — диагонали

$$S = \frac{1}{2} d_1 d_2$$

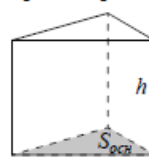
**Площади поверхностей и объёмы тел**

Прямоугольный параллелепипед



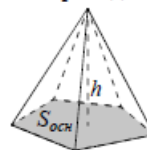
$$V = abc$$

Прямая призма



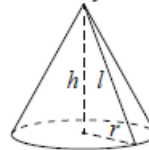
$$V = S_{осн} h$$

Пирамида



$$V = \frac{1}{3} S_{осн} h$$

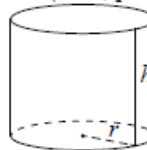
Конус



$$V = \frac{1}{3} \pi r^2 h$$

$$S_{бок} = \pi r l$$

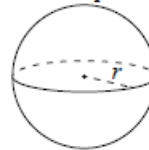
Цилиндр



$$V = \pi r^2 h$$

$$S_{бок} = 2\pi r h$$

Шар



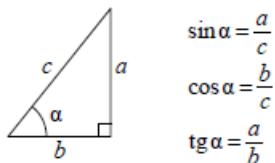
$$V = \frac{4}{3} \pi r^3$$

$$S = 4\pi r^2$$



**Тригонометрические функции**

Прямоугольный треугольник

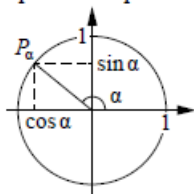


$$\sin \alpha = \frac{a}{c}$$

$$\cos \alpha = \frac{b}{c}$$

$$\operatorname{tg} \alpha = \frac{a}{b}$$

Тригонометрическая окружность



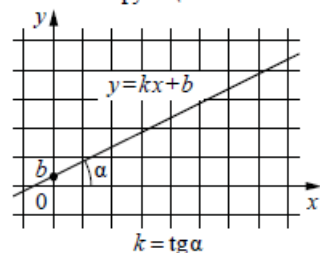
Основное тригонометрическое тождество:  $\sin^2 \alpha + \cos^2 \alpha = 1$

Некоторые значения тригонометрических функций

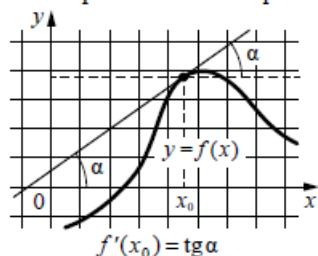
$\alpha$	радианы	0	$\frac{\pi}{6}$	$\frac{\pi}{4}$	$\frac{\pi}{3}$	$\frac{\pi}{2}$	$\pi$	$\frac{3\pi}{2}$	$2\pi$
	градусы	$0^\circ$	$30^\circ$	$45^\circ$	$60^\circ$	$90^\circ$	$180^\circ$	$270^\circ$	$360^\circ$
$\sin \alpha$		0	$\frac{1}{2}$	$\frac{\sqrt{2}}{2}$	$\frac{\sqrt{3}}{2}$	1	0	-1	0
$\cos \alpha$		1	$\frac{\sqrt{3}}{2}$	$\frac{\sqrt{2}}{2}$	$\frac{1}{2}$	0	-1	0	1
$\operatorname{tg} \alpha$		0	$\frac{\sqrt{3}}{3}$	1	$\sqrt{3}$	—	0	—	0

**Функции**

Линейная функция



Геометрический смысл производной



Ответом к каждому заданию является конечная десятичная дробь, целое число или последовательность цифр. Сначала запишите ответ к заданию в поле ответа в тексте работы, а затем перенесите в БЛАНК ОТВЕТОВ № 1 справа от номера соответствующего задания. Каждую цифру, знак «минус» и запятую пишите в отдельной клеточке в соответствии с приведёнными в бланке образцами. Единицы измерений писать не нужно.

- 1 Найдите значение выражения  $\left(\frac{13}{21} + \frac{3}{14}\right) : \frac{10}{27}$ .

Ответ: \_\_\_\_\_.
- 2 Найдите значение выражения  $\frac{3^{-10} \cdot 3^5}{3^{-7}}$ .

Ответ: \_\_\_\_\_.
- 3 Тетрадь стоит 24 рубля. Сколько рублей заплатит покупатель за 60 тетрадей, если при покупке более 50 тетрадей магазин делает скидку 10% от стоимости всей покупки?

Ответ: \_\_\_\_\_.
- 4 Работа постоянного тока (в джоулях) вычисляется по формуле  $A = \frac{U^2 t}{R}$ , где  $U$  – напряжение (в вольтах),  $R$  – сопротивление (в омах),  $t$  – время (в секундах). Пользуясь этой формулой, найдите  $A$  (в джоулях), если  $t = 18$  с,  $U = 7$  В и  $R = 14$  Ом.

Ответ: \_\_\_\_\_.

ТРЕНИРОВОЧНЫЙ КИМ № 190204





**5** Найдите значение выражения  $\frac{\log_7(4^6)}{3\log_7 4}$ .

Ответ: \_\_\_\_\_.

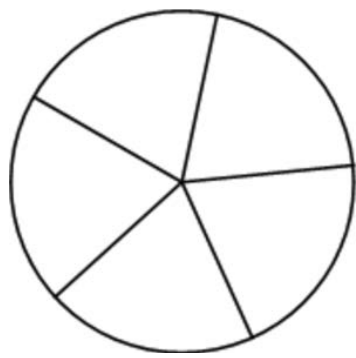
**6** Шоколадка стоит 20 рублей. В воскресенье в супермаркете действует специальное предложение: заплатив за две шоколадки, покупатель получает три (одну в подарок). Сколько шоколадок можно получить на 150 рублей в воскресенье?

Ответ: \_\_\_\_\_.

**7** Решите уравнение  $x^2 + 8 = 6x$ .  
Если уравнение имеет более одного корня, в ответе укажите больший из них.

Ответ: \_\_\_\_\_.

**8** Колесо имеет 5 спиц. Углы между соседними спицами равны. Найдите величину угла (в градусах), который образуют две соседние спицы.



Ответ: \_\_\_\_\_.

**9** Установите соответствие между величинами и их возможными значениями: к каждому элементу первого столбца подберите соответствующий элемент из второго столбца.

**ВЕЛИЧИНЫ**

- А) площадь почтовой марки
- Б) площадь письменного стола
- В) площадь города Санкт-Петербурга
- Г) площадь волейбольной площадки

**ЗНАЧЕНИЯ**

- 1) 162 кв. м
- 2) 1,2 кв. м
- 3) 1439 кв. км
- 4) 5,2 кв. см

В таблице под каждой буквой, соответствующей величине, укажите номер её возможного значения.

Ответ:

А	Б	В	Г

**10** Фабрика выпускает сумки. В среднем из 125 сумок 5 сумок имеют скрытый дефект. Найдите вероятность того, что случайно выбранная сумка окажется с дефектом.

Ответ: \_\_\_\_\_.

**11** В соревнованиях по метанию молота участники показали следующие результаты:

Спортсмен	Результат попытки, м					
	I	II	III	IV	V	VI
Витков	55,5	54,5	55	53,5	54	52
Птицын	52,5	53	51,5	56	55,5	55
Коваленко	53,5	54	54,5	54	54,5	52
Арнюк	52,5	52	52,5	51,5	53	52

Места распределяются по результатам лучшей попытки каждого спортсмена: чем дальше он метнул молот, тем лучше.  
Каков результат лучшей попытки (в метрах) спортсмена, занявшего второе место?

Ответ: \_\_\_\_\_.

12 Автомобильный журнал определяет рейтинг автомобилей на основе показателей безопасности  $S$ , комфорта  $C$ , функциональности  $F$ , качества  $Q$  и дизайна  $D$ . Рейтинг  $R$  вычисляется по формуле

$$R = \frac{3S + 2C + 2F + 2Q + D}{50}.$$

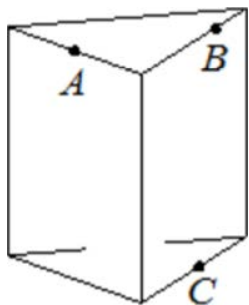
В таблице даны показатели трёх моделей автомобилей.

Модель автомобиля	Безопасность	Комфорт	Функциональность	Качество	Дизайн
А	1	3	1	4	4
Б	5	5	1	4	3
В	4	4	2	3	3

Найдите наивысший рейтинг автомобиля из представленных в таблице моделей.

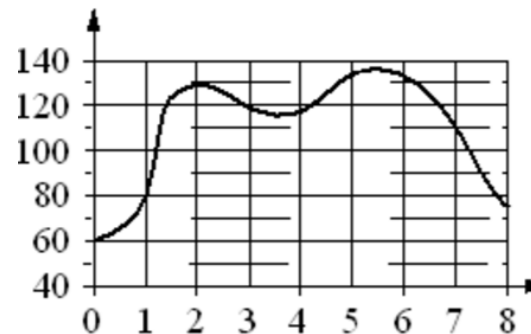
Ответ: \_\_\_\_\_.

13 Плоскость, проходящая через точки  $A$ ,  $B$  и  $C$  (см. рис.), разбивает правильную треугольную призму на два многогранника. Сколько вершин у получившегося многогранника с меньшим числом граней?



Ответ: \_\_\_\_\_.

14 На графике изображена зависимость частоты пульса гимнаста от времени в течение и после его выступления в вольных упражнениях. На горизонтальной оси отмечено время (в минутах), прошедшее с начала выступления гимнаста, на вертикальной оси – частота пульса (в ударах в минуту).



Пользуясь графиком, поставьте в соответствие каждому интервалу времени характеристику пульса гимнаста на этом интервале.

**ИНТЕРВАЛЫ ВРЕМЕНИ**

- А) 4-5 мин
- Б) 5-6 мин
- В) 6-7 мин
- Г) 7-8 мин

**ХАРАКТЕРИСТИКИ**

- 1) частота пульса упала до 110 уд./мин.
- 2) частота пульса упала ниже 80 уд./мин.
- 3) частота пульса достигла максимума за всё время выступления и после него
- 4) частота пульса росла на всём интервале

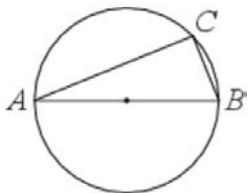
В таблице под каждой буквой укажите соответствующий номер.

Ответ:

А	Б	В	Г

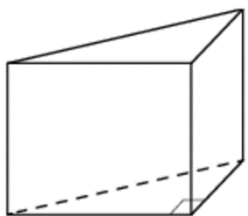


- 15 На окружности радиуса 3 взята точка  $C$ . Отрезок  $AB$  – диаметр окружности,  $AC = 4\sqrt{2}$ . Найдите  $BC$ .



Ответ: \_\_\_\_\_.

- 16 В основании прямой призмы лежит прямоугольный треугольник, катеты которого равны 3 и 16. Найдите объём призмы, если её высота равна 3.



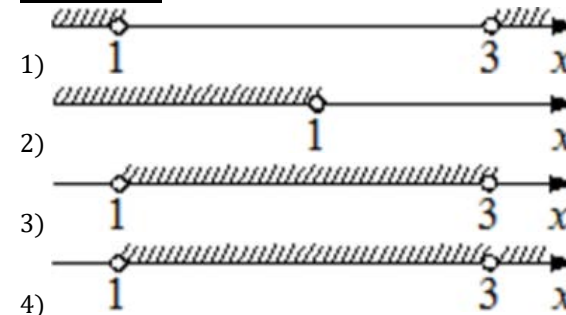
Ответ: \_\_\_\_\_.

- 17 Каждому из четырёх неравенств в левом столбце соответствует одно из решений в правом столбце. Установите соответствие между неравенствами и их решениями.

**НЕРАВЕНСТВА**

- A)  $\log_2(x - 1) < 1$   
 Б)  $3^{-2x} > \frac{1}{9}$   
 В)  $\frac{x - 1}{(x - 3)^2} > 0$   
 Г)  $x^2 - 4x + 3 > 0$

**РЕШЕНИЯ**



Впишите в приведённую в ответе таблицу под каждой буквой соответствующую цифру.

Ответ:

A	Б	В	Г

- 18 Когда какая-нибудь кошка идёт по забору, пёс Шарик, живущий в будке возле дома, обязательно лает. Выберите утверждения, которые верны при приведённом условии.

- Если Шарик не лает, значит, по забору идёт кошка.
- Если Шарик молчит, значит, кошка по забору не идёт.
- Если по забору идёт чёрная кошка, Шарик не лает.
- Если по забору пойдёт белая кошка, Шарик будет лаять.

В ответе запишите номера выбранных утверждений без пробелов, запятых и других дополнительных символов.

Ответ: \_\_\_\_\_.



- 19 Найдите пятизначное число, кратное 12, произведение цифр которого равно 40. В ответе укажите какое-нибудь одно такое число.

Ответ: \_\_\_\_\_.

- 20 Прямоугольник разбит на четыре меньших прямоугольника двумя прямолинейными разрезами. Площади трёх из них, начиная с левого верхнего и далее по часовой стрелке, равны 12, 18 и 30. Найдите площадь четвёртого прямоугольника.

12	18
?	30

Ответ: \_\_\_\_\_.

### О проекте «Пробный ЕГЭ каждую неделю»

Данный ким составлен командой всероссийского волонтерского проекта «ЕГЭ 100 баллов» <https://vk.com/ege100ballov> и безвозмездно распространяется для любых некоммерческих образовательных целей.

### Нашли ошибку в варианте?

Напишите нам, пожалуйста, и мы обязательно её исправим!

Для замечаний и пожеланий: [https://vk.com/topic-10175642\\_39008096](https://vk.com/topic-10175642_39008096)  
(также доступны другие варианты для скачивания)

### СОСТАВИТЕЛЬ ВАРИАНТА:

<b>ФИО:</b>	Евгений Пифагор
<b>Предмет:</b>	Математика
<b>Стаж:</b>	7 лет репетиторской деятельности
<b>Регалии:</b>	Основатель проекта Школа Пифагора
<b>Аккаунт ВК:</b>	<a href="https://vk.com/eugene10">https://vk.com/eugene10</a>
<b>Сайт и доп. информация:</b>	<a href="https://vk.com/shkolapifagora">https://vk.com/shkolapifagora</a> <a href="https://youtube.com/ШколаПифагора">https://youtube.com/ШколаПифагора</a>



**Система оценивания экзаменационной работы по математике  
(базовый уровень)**

Правильное решение каждого из заданий 1–20 оценивается 1 баллом.  
Задание считается выполненным верно, если экзаменуемый дал  
правильный  
ответ в виде целого числа или конечной десятичной дроби, или  
последовательности цифр.

№ задания	Ответ
1	2,25
2	9
3	1296
4	63
5	2
6	10
7	4
8	72
9	4231
10	0,04
11	55,5
12	0,76
13	6
14	4312
15	2
16	72
17	3241
18	24
19	52212 или 25212 или 22512 или 22152 или 21252 или 12252
20	20

